

اكتب :

٢

اثان

١

واحد

٢

اثان

١

واحد

(أ) أكمل :

..... = ٢ - ٥ = ٢ + = ٤ + ٣
..... = ١ - ٨ = ٣ + ٣ = ٢ + ٢
..... = . - ٤ = ٤ + ٤ = ٥ + ١
..... = ٨ - ٩ = . + ٩ = ٣ + ٢
..... = . - ٦ = ١ + ١	

ضع خطا تحت أصغر الأعداد ضع خطا تحت أكبر الأعداد

٢ ، ٥ ، ٩ ، ٤ ، ٥ | ١ ، ٦ ، ٧ ، ٥ ، ٣

رتب الأعداد الآتية من الأصغر للأكبر : (تصاعديا)

٤ ، ٥ ، ٩ ، ٣ ، ٢ ، ٧

.....
٨٤ ، ٧٦ ، ٨٥ ، ٩٥ ، ١٥.....
٣٤ ، ١٧ ، ١٥ ، ٥ ، ١٥.....
٢٥ ، ٣٥ ، ١٥ ، ١٩ ، ٥

مجموعة العدد

مجموعة العدد ١٠

$$\underline{\hspace{2cm}} = ٠ + ١٠$$

$$\underline{\hspace{2cm}} = ١ + ١٠$$

$$\underline{\hspace{2cm}} = ٢ + ١٠$$

$$\underline{\hspace{2cm}} = ٣ + ١٠$$

$$\underline{\hspace{2cm}} = ٤ + ١٠$$

$$\underline{\hspace{2cm}} = ٥ + ١٠$$

$$\underline{\hspace{2cm}} = ٦ + ١٠$$

$$\underline{\hspace{2cm}} = ٧ + ١٠$$

$$\underline{\hspace{2cm}} = ٨ + ١٠$$

$$\underline{\hspace{2cm}} = ٩ + ١٠$$

$$\underline{\hspace{2cm}} = ١٠ + ١٠$$

مجموعة العدد ٩

$$\underline{\hspace{2cm}} = ٠ + ٩$$

$$\underline{\hspace{2cm}} = ١ + ٩$$

$$\underline{\hspace{2cm}} = ٢ + ٩$$

$$\underline{\hspace{2cm}} = ٣ + ٩$$

$$\underline{\hspace{2cm}} = ٤ + ٩$$

$$\underline{\hspace{2cm}} = ٥ + ٩$$

$$\underline{\hspace{2cm}} = ٦ + ٩$$

$$\underline{\hspace{2cm}} = ٧ + ٩$$

$$\underline{\hspace{2cm}} = ٨ + ٩$$

$$\underline{\hspace{2cm}} = ٩ + ٩$$

$$\underline{\hspace{2cm}} = ١٠ + ٩$$

ضع علامة (= , > , <)

$0 \quad \square \quad 0$

$1 \quad \square \quad 3$

$0 \quad \square \quad 3$

$1 \quad \square \quad 1$

$0 \quad \square \quad 0$

$2 \quad \square \quad 8$

$9 \quad \square \quad 9$

$7 \quad \square \quad 3$

$0 \quad \square \quad 8$

$3 \quad \square \quad 3$

$2 \quad \square \quad 3$

$9 \quad \square \quad 8$

$0 \quad \square \quad 7$

$3 \quad \square \quad 3$

$3 \quad \square \quad 2$

$2 \quad \square \quad 3$

$0 \quad \square \quad 0$

$1 \quad \square \quad 3$

اكتب العدد التالي اكتب العدد السابق

٥ →

٣ →

٦ →

٢ →

٤ →

٨ →

٧ →

← ٣

← ٥

← ٤

← ٧

← ٦

← ٢

← ٨

ارسم

ارسم نقطة واحدة في إطار الخمس خانات

--	--	--	--	--

ارسم نقط = عدد ألوان إشارات المرور في إطار الخمس خانات

--	--	--	--	--

ارسم نقط = عدد إخوتك في إطار الخمس خانات

--	--	--	--	--

ارسم نقط = عدد أصابع اليد في إطار الخمس خانات

--	--	--	--	--

ارسم نقط = عدد أيام الأسبوع في إطار الخمس خانات

--	--	--	--	--

--	--	--	--	--

حوظ حول العدد الأكبر

٤	١	٧	٣
٩	٥	٨	٢
٢	٦	٥	٣
٤	٥	٢	١
٨	٧	٦	٤
٧	٦	٨	٥
١	٤	٧	٩

أيام الإِسبوع ٧ أيام

الأحد

.....
.....

الاثنين

.....
.....

الثلاثاء

.....
.....

الأربعاء

.....
.....

الخميس

.....
.....

الجمعة

.....
.....

السبت

.....
.....

الأحد

.....
.....

الاثنين

.....
.....

الثلاثاء

.....
.....

الأربعاء

.....
.....

الخميس

.....
.....

الجمعة

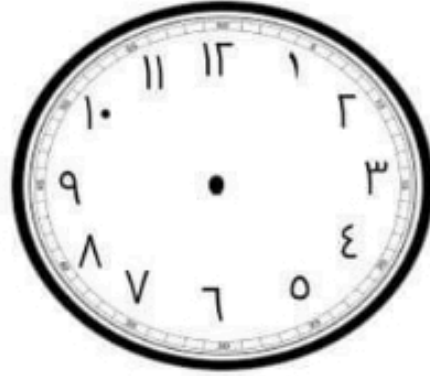
.....
.....

السبت

.....
.....

ضع علامة (< , > , =)		
١	<input type="text"/>	٤
٢	<input type="text"/>	٥
٣	<input type="text"/>	٦
٧	<input type="text"/>	٧
٧	<input type="text"/>	٩
٦	<input type="text"/>	٨
٥	<input type="text"/>	٥
٤	<input type="text"/>	٦
٥	<input type="text"/>	٨
٩	<input type="text"/>	٩
٢	<input type="text"/>	٤
٢	<input type="text"/>	٣
١	<input type="text"/>	٣
٢	<input type="text"/>	٢
٢	<input type="text"/>	٦

الساعة



اليوم = ٢٤ ساعة



..... : الساعة



..... : الساعة



..... : الساعة



..... : الساعة

صل:



٤



٥



٣



٦



١

٢



اكتب :

٩	٨	٧	٦	٥	٤	٣	٢	١


صل



٣



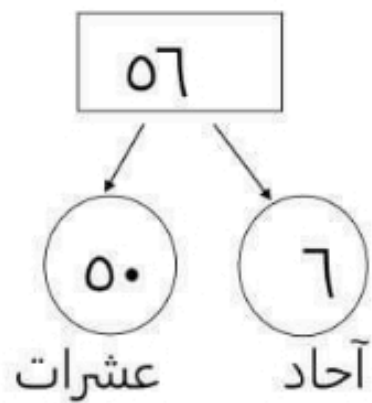
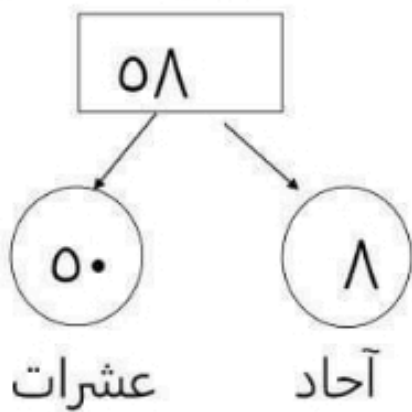
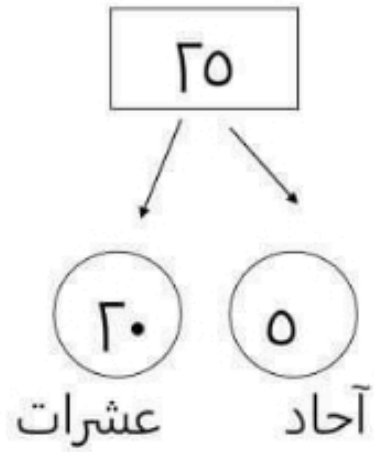
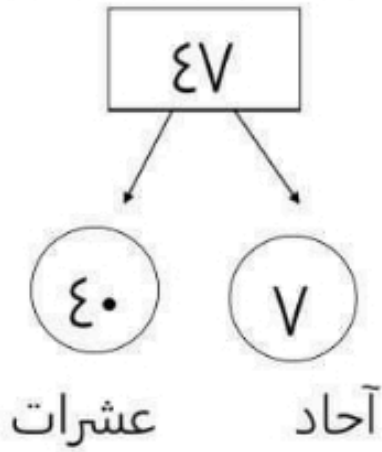
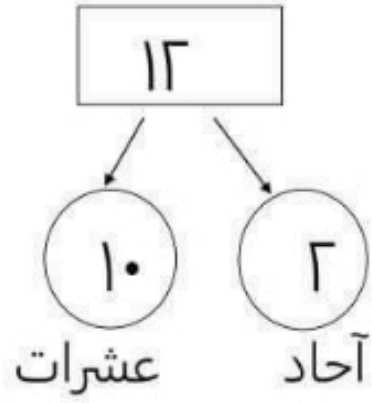
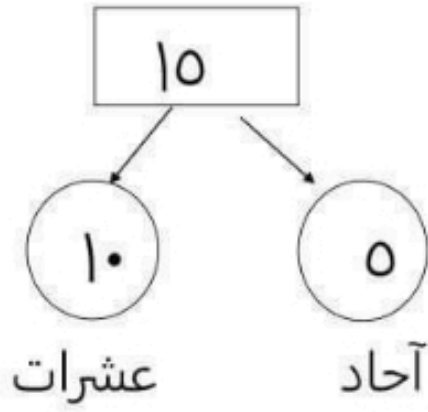
٤



٥



٦



رتب تنازليا (من الأكبر الى الأصغر)

١٢

١٤

١١

١٣

١٢

١٤

١٣

١٥

٣٥

٣٧

٣٤

٣٦

٣٣

٤٥

٥٨

٦٢

٧١

٨٩

٥٦

٦٣

مجموعة العدد

مجموعة العدد ٨

$$\underline{\hspace{2cm}} = ٠ - ٨$$

$$\underline{\hspace{2cm}} = ١ - ٨$$

$$\underline{\hspace{2cm}} = ٢ - ٨$$

$$\underline{\hspace{2cm}} = ٣ - ٨$$

$$\underline{\hspace{2cm}} = ٤ - ٨$$

$$\underline{\hspace{2cm}} = ٥ - ٨$$

$$\underline{\hspace{2cm}} = ٦ - ٨$$

$$\underline{\hspace{2cm}} = ٧ - ٨$$

$$\underline{\hspace{2cm}} = ٨ - ٨$$

مجموعة العدد ٧

$$\underline{\hspace{2cm}} = ٠ - ٧$$

$$\underline{\hspace{2cm}} = ١ - ٧$$

$$\underline{\hspace{2cm}} = ٢ - ٧$$

$$\underline{\hspace{2cm}} = ٣ - ٧$$

$$\underline{\hspace{2cm}} = ٤ - ٧$$

$$\underline{\hspace{2cm}} = ٥ - ٧$$

$$\underline{\hspace{2cm}} = ٦ - ٧$$

$$\underline{\hspace{2cm}} = ٧ - ٧$$

حدد الشهر السابق و الشهر التالي

الشهر التالي

الشهر

الشهر السابق

.....

فبراير

.....

.....

نومبر

.....

.....

أبريل

.....

.....

أغسطس

.....

.....

يونيو

.....

.....

مارس

.....

شهور السنة

١٢ شهر

فبراير

يناير

أبريل

مارس

يونيو

مايو

أغسطس

يوليو

أكتوبر

سبتمبر

ديسمبر

نوفمبر

أوجد الناتج :

مع أحمد ٩ جنيهاً ، صرف منها ٤ جنيهاً . أوجد ما تبقى معه .

$$\text{الباقى} = \text{.....} - \text{.....} = \text{..... جنيهاً}$$

مع سلمى ٨ جنيهاً ، ذهبت إلى السوق صرفت منها ٣ جنيهاً . أوجد الباقي .

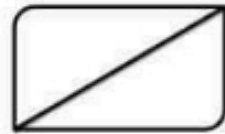
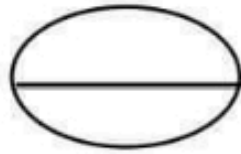
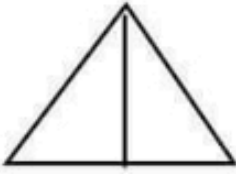
$$\text{الباقى} = \text{.....} - \text{.....} = \text{..... جنيهاً}$$

في الثلاثة ٥ قطع حلوى ، أكل أحمد منها ٣ قطع . أوجد الباقي .

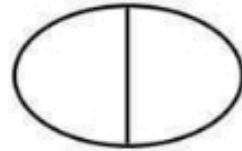

$$\text{الباقى} = \text{.....} - \text{.....} = \text{..... قطعة}$$

الكسور : النصف و الربع

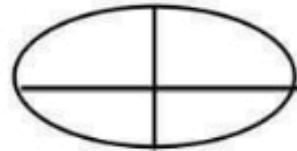

نصف



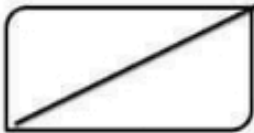
ربع



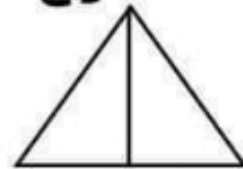
ظلل المطلوب



ربع



ربع



نصف

نصف

الطرح

٧	٦	٥	٤	٥
<u>٢ -</u>	<u>٥ -</u>	<u>٣ -</u>	<u>١ -</u>	<u>٢ -</u>
<input type="text"/>	<input type="text"/>	<input type="text"/>	<input type="text"/>	<input type="text"/>

٢	٤	٥	٦	٧
<u>٢ -</u>	<u>٢ -</u>	<u>٤ -</u>	<u>٣ -</u>	<u>٤ -</u>
<input type="text"/>	<input type="text"/>	<input type="text"/>	<input type="text"/>	<input type="text"/>

<input type="text"/>	= ٣ - ٩
<input type="text"/>	= ٥ - ٨
<input type="text"/>	= ٤ - ٦
<input type="text"/>	= ٥ - ٧
<input type="text"/>	= ٢ - ٤
<input type="text"/>	= ٥ - ٩

<input type="text"/>	= ٣ - ٤
<input type="text"/>	= ٥ - ٦
<input type="text"/>	= ٧ - ٩
<input type="text"/>	= ٢ - ٨
<input type="text"/>	= ٤ - ٥
<input type="text"/>	= ٢ - ٣

حدد اليوم السابق و اليوم التالي

اليوم التالي

اليوم

اليوم السابق

غدا

اليوم

أمس

الأحد

الاثنين

الأربعاء

الجمعة

الخميس

الثلاثاء

أكمل أيام الأسبوع

الأحد

الثلاثاء

الخميس

الاثنين

الجمعة

الاثنين

الجمعة

أوجد الناتج :

..... = ١٣ - ٢٥

..... = ١٣ - ٢٥

..... = ٢٥ - ٧٧

..... = ٣٢ - ٤٧

..... = ٢٠ - ٨٧

..... = ٤١ - ٨٣

..... = ٦٦ - ٨٦

..... = ٤٤ - ٨٨

..... = ١٥ - ٢٥

..... = ١٦ - ٤٧

..... = ٣٣ - ٧٩

..... = ٢٤ - ٥٦

..... = ٤٦ - ٧٩

..... = ٨ - ٧٨

أوجد الباقي :

٢٥ جنيه - ٤ جنيه = جنيها

٥٥ جنيه - ١٢ جنيه = جنيها



..... جنيه - جنيه = جنيها

مسائل لفظية على الجمع والطرح

١- اشترى فاروق لعبة بمبلغ ١٤ جنيها و لعبة أخرى بمبلغ ١٥ جنيها ،
أوجد ما دفعه ؟

$$\text{ما دفعه} = \dots + \dots = \dots \text{ جنيها}$$

٢ - مع سلمى ٦٥ جنيها ، اشترت لعبة بثمن ٣٢ جنيها ، أوجد الباقي
مع سلمى .

$$\text{الباقي} = \dots - \dots = \dots \text{ جنيها}$$

٣ - اشترى إسماعيل خضارا بمبلغ ١٣ جنيها و فاكهة بمبلغ ١٥ جنيها ،
فما جملة ما دفعه ؟

$$\text{ما دفعه} = \dots + \dots = \dots \text{ جنيها}$$

٤ - إذا كان ثمن عروسة ٣٢ جنيها ، و ثمن الدب ٣٤ جنيها ، فما ثمن
العروسة و الدب ؟

$$\text{ثمن العروسة و الدب} = \dots + \dots = \dots \text{ جنيها}$$

المجسمات

احفظ :




مستطيل



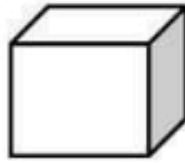
مربع



مثلث



دائرة



متوازي مستطيلات

مكعب

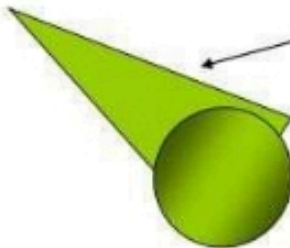
منشور

أسطوانة

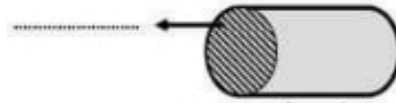
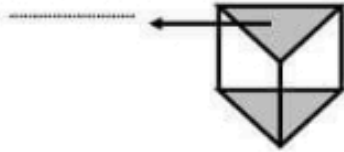
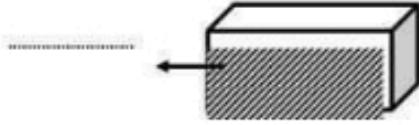
مخروط

كرة


هرم



اكتب اسم الشكل الذي يشير إليه السهم :



صل كل شكل باسمه:



مثلث

مستطيل

دائرة

مربع

تدريبات على الجمع

اجمع:

$$\begin{array}{r} ٨٤ \\ + ١٢ \\ \hline \end{array}$$

$$\begin{array}{r} ٢٢ \\ + ٥٥ \\ \hline \end{array}$$

$$\begin{array}{r} ٢٣ \\ + ٤٤ \\ \hline \end{array}$$

$$\begin{array}{r} ٣٤ \\ + ٥٢ \\ \hline \end{array}$$

.....

.....


.....

.....

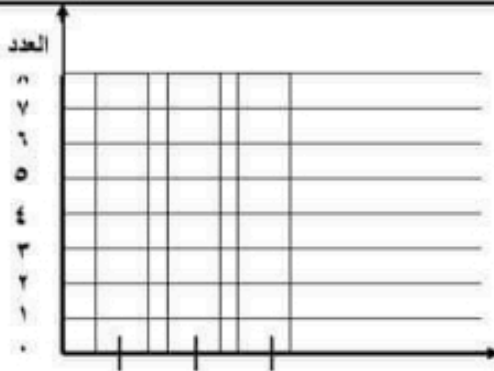
الإحصاء

العدد

لاحظ وأكمل الجدول :-



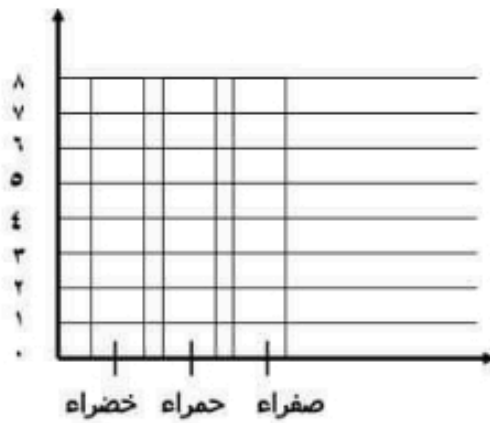
اللون	العدد
الأحمر	
الأصفر	
الأخضر	



ظلل بحسب العدد :

لون الزهور	العدد
صفراء	3
حمراء	4
خضراء	1

صفراء حمراء خضراء



لون الزهور	العدد
صفراء	5
حمراء	3
خضراء	6