

میس / رحاب بسیونر

تاسیس ریاضیات

اوجد ناتج

$\begin{array}{r} 34 \\ + 30 \\ \hline \end{array}$	$\begin{array}{r} 60 \\ + 24 \\ \hline \end{array}$	$\begin{array}{r} 1. \\ + 3. \\ \hline \end{array}$
---	---	---

$\begin{array}{r} 17 \\ + 11 \\ \hline \end{array}$	$\begin{array}{r} 12 \\ + 12 \\ \hline \end{array}$	$\begin{array}{r} 78 \\ + 21 \\ \hline \end{array}$
---	---	---

$\begin{array}{r} 22 \\ + 23 \\ \hline \end{array}$	$\begin{array}{r} 60 \\ + 24 \\ \hline \end{array}$	$\begin{array}{r} 17. \\ + 12. \\ \hline \end{array}$
---	---	---

میس / رحاب بیون

اوجد ناتج

$$\begin{array}{r} 27 \\ - 16 \\ \hline \end{array}$$

$$\begin{array}{r} 90 \\ - 34 \\ \hline \end{array}$$

$$\begin{array}{r} 70 \\ - 50 \\ \hline \end{array}$$

$$\begin{array}{r} 76 \\ - 41 \\ \hline \end{array}$$

$$\begin{array}{r} 94 \\ - 60 \\ \hline \end{array}$$

$$\begin{array}{r} 43 \\ - 26 \\ \hline \end{array}$$

$$\begin{array}{r} 76 \\ - 43 \\ \hline \end{array}$$

$$\begin{array}{r} 71 \\ - 61 \\ \hline \end{array}$$

$$\begin{array}{r} 41 \\ - 11 \\ \hline \end{array}$$

$$\begin{array}{r} 90 \\ - 64 \\ \hline \end{array}$$

$$\begin{array}{r} 72 \\ - 50 \\ \hline \end{array}$$

$$\begin{array}{r} 70 \\ - 41 \\ \hline \end{array}$$

اكتب العدد التالي والسابق

- ميس $\text{○} \leftarrow ١٥ \rightarrow \text{○}$
- رحاب بسيوني $\text{○} \leftarrow ٨٣ \rightarrow \text{○}$
- $\text{○} \leftarrow ٤٤ \rightarrow \text{○}$
- $\text{○} \leftarrow ١٠٠ \rightarrow \text{○}$
- $\text{○} \leftarrow ٣٨ \rightarrow \text{○}$
- $\text{○} \leftarrow ٧١ \rightarrow \text{○}$
- $\text{○} \leftarrow ٥٠ \rightarrow \text{○}$
- $\text{○} \leftarrow ٩٦ \rightarrow \text{○}$

رتب الأعداد التالية تصاعدياً

٢٨	٣٦	٢٩	٢٥	٣٠	٣٢	١٠

≠ صاد
 صاد
 صاد
 صاد يعني تصاعدي
 من الأصغر للكبير

٤٠	١٩	٢٣	١٠	١٢	٨	٣١

٧٥	١٢	١٠	٧	٤	٦٢	٧١

١٥	٨٠	٣	٧	٢٠	٨١	٢٤

ميس / رحاب بسيوني

رتب الأعداد التالية تنازلياً

19	10	17	16	9	18





ميس	13	10	18	41	9	10
رحاب بسيوني						

10	10	27	30	31	50	55

31	12	10	41	9	70	30

اكتب اسم الشكل الهندسي

رقم الجواب في الفراغ



ميس / رحاب بسيوني


میس / رحاب بیسوی

میں نے وہاں جا کر شہا اور ساجد سے ملے

اكتب بالحروف



ا




ب

ب

ب


ب



ب


ب

ب



ب

ب






ب

میں نے وہاں جا کر شہا اور ساجد سے ملے



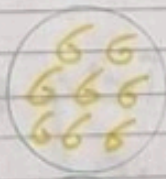

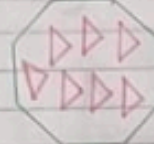

ميس / رحاب بسيوني

Date / / Object

اكمل العدد الناقص



عد واكتب الرقم



ميس / رحاب بسيوني

Date / / Object

كم عدد ايام الاسبوع؟

ما هو اول يوم؟

اليوم التالي للآحد هو

ما هو اليوم السابق للخميس

اكتب اليوم التالي

الجمعة ←

الاربعاء ←

السبت ←

الخميس ←

میس / رحاب بیونر

اُ کلمہ ما یا تر

۸ عشرات و ۳ آحاد =

۶ آحاد و ۵ عشرات =

۳ عشرات و ۶ آحاد =

۸ آحاد و ۹ عشرات =

..... آحاد و عشرات = ۵۳

..... عشرات و آحاد = ۶۲

..... آحاد و عشرات = ۹۵

..... عشرات و آحاد = ۶۲

..... آحاد و ۸ عشرات =

..... عشرات و ۳ آحاد =

اكتب القيمة المكانية للرقم الذي تحته خط

٧٥

٣٤

٦٤

٢٦

٢١

٦٢

٦٣

٢٤

٣٥

٦٤

٢٦

٣٦

٢٦

٦٦

ميس / رحاب بسيوني

اكتب القيمة العددية للرقم الذي تحته خط

٧٦

٤٥

٢٤

٦٦

٤٦

٤٥

٦٦

٥١

٤٤

٦٥

٦٤

٤٦

٦٦

ميس / رحاب بسيوني

ضلع ٥ حول خانة الآحاد

١٧ * ٢٦ * ٤٥ * ٩٨
 ٣٦ * ٤٢ * ٩١ * ٥٣
 ١٨ * ٢١ * ٣١ * ٨٥

ضلع ٥ حول خانة العشرات

٧٤ * ٩٢ * ١٢ * ٣٥
 ١٢ * ٣٥ * ٧٢ * ٤١
 ٨١ * ١٣ * ٩٤ * ٩٥

میس رحاب بسیونری

میس رحاب بسیونی

Date / / Object

منع ۵ حول العدد الآكبر

۱۳ * ۵۰ * ۷۰ * ۲۴

۴۸ * ۳۲ * ۹۱ * ۱۰۰

۴۱ * ۶۵ * ۱۲ * ۱۸

۱۵ * ۱۰ * ۲۰ * ۱۴

منع ۵ حول العدد الاصغر

۳۶ * ۱۶ * ۱۵ * ۱۰

۶۵ * ۱۲ * ۴۷ * ۵۰

۴۳ * ۹۵ * ۱۰۰ * ۵