



الأونروا - التعليم - غزة
منطقة شرق غزة التعليمية



بطاقات تفوق



الرياضيات



إعداد/ المعلمة: أنوار فواز الهندية

إشراف/ المختص التربوي: طلال محمد قويدر

الفصل الدراسي الأول

٢٠١٩/٢٠٢٠م

الدرس الأول: أولويات العمليات

المستوى الأول:

جد الناتج:

$$\dots\dots\dots = \frac{1}{3} \times \frac{3}{4} + \frac{2}{5}$$

أكمل الفراغ:

الأولوية في إجراء العملية الحسابية $12 \div 3 - 3 + (2+3) \times 10$ هي لعملية

المستوى الثاني:

جد الناتج:

$$\dots\dots\dots = 6 \times 2 - 9 \times 6 + 5 + 12$$

اكتشف الخطأ:

$$= \frac{1}{6} \times \frac{3}{8} + \frac{3}{8}$$

$$\boxed{\frac{1}{8}} = \frac{1}{6} \times \frac{3}{8}$$

المستوى الثالث:

$$\dots\dots\dots = \frac{49}{\sqrt{}} \div (\frac{10}{\sqrt{}} + \frac{16}{\sqrt{}})$$

جد قيمة س التي تكون حلاً للمعادلة التالية:

$$\frac{55}{\circ\circ} \times 2 \div 2000 = 111 + س + 555$$

ضع أقواساً في المكان المناسب ليكون الناتج صحيحاً:

$$12 = 2 + 2 - 7 \times 2 \quad (\text{أ})$$

$$24 = 6 \times 2 + 3 \div 20 \quad (\text{ب})$$

$$44 = 3 + 1 \div 8 + 6 \times 7 \quad (\text{ج})$$

الدرس الثاني: مبادئ الأسس

المستوى الأول:

أكمل النمط: $\color{red}+$

..... ، ، ٩ ، ٤ ، ١

أثبت أن: $\color{red}+$ $٦٢ = ٣٤ = ٢٨$

المستوى الثاني:

ناتج أي عدد قوته صفر هو
(١ ، صفر ، العدد نفسه)

جد قيمة: $\color{red}+$

$$\frac{٤٢ \times ٢٣ \times ٢٥}{٣٥ \times ٥٢}$$

المستوى الثالث:

إذا علمت أن: $\color{red}+$

$$٢٣ = ٢٢ + ٣١$$

$$٢٦ = ٢٣ + ٢٢ + ٣١$$

$$٢١٠ = ٣٤ + ٣٣ + ٢٢ + ٣١$$

$$\text{فإن: } \dots = ٣٥ + ٣٤ + ٣٣ + ٢٢ + ٣١$$

أكمل النمط: $\color{red}+$

..... ، ، ٥٤ ، ٨١ ، ٣٢ ، ١

الدرس الثالث: مقارنة الأعداد الأسية

المستوى الأول:

قارن بوضع < ، > ، =
أ) الكيلومتر $10 + 10^2$ متر.
ب) 4^2 2^4

رتب تصاعدياً: 5^5 ، 7^1 ، 5^2 ، 5^4

المستوى الثاني:

أكمل النمط:

3^2 ، 4^3 ، 5^4 ، ،

قارن بوضع < ، > ، =
أ) $7^9 + 3^8$ $3^9 + 2^8$
ب) $2^2 \times 3^3$ 3^6
ج) $5^3 \times 2^5$ $4^3 \times 2^5$

المستوى الثالث:

إذا علمت أن: $\square = \triangle$ ، عددان أُسيّان متساويان فإن $\square = \triangle$ ؟؟

العدد $110 - 7$ يقبل القسمة على العدد
أ) 2 ب) 3 ج) 4 د) 6

الدرس الرابع: الجذر التربيعي

المستوى الأول:

جد قيمة: $\sqrt{81}$

قارن بعد إيجاد قيمة كلا الطرفين:

$$\sqrt{256} + \sqrt{81} \quad \bigcirc \quad \sqrt{256} \times \sqrt{81}$$

المستوى الثاني:

ضع علامة \checkmark أو \times :-

$$131 = \sqrt{81} + \sqrt{100} \quad ()$$

جد قيمة: $\sqrt[3]{64}$

المستوى الثالث:

جد قيمة: $\sqrt{\left(\frac{2}{3}\right) \div \frac{64}{81}}$

أنا عدد الفرق بين مكعبى ومربعى يساوي الجذر التربيعي للعدد 10000 ، فمن أكون؟

مستطيل طوله 9 سم وعرضه 8 سم، ما طول ضلع مربع مساحته نصف مساحة المستطيل؟

الدرس الخامس: الجذر التكعيبي

المستوى الأول:

جد قيمة: $\sqrt[3]{1001 - 27 + 24} = \dots\dots\dots$

قارن: $\sqrt[3]{64} \bigcirc \sqrt[3]{64}$

المستوى الثاني:

جد قيمة: $\sqrt[3]{1728}$

جد باقي القسمة: $(\sqrt[3]{16} + 4) \div \sqrt[3]{729}$

المستوى الثالث:

إذا علمت أن: $\sqrt[3]{16} = \square$ ، $\sqrt[3]{27} = \triangle$ ، فإن العدد الأسّي $\square^\triangle = \dots\dots$
($\frac{3}{4}$ ، 12 ، 64 ، 81)

متوازي مستطيلات طوله 5 سم، وعرضه 4 سم، وارتفاعه 3 سم. حجمه يساوي حجم مكعب،
قدّر طول حرف المكعب؟
أكمل: $\sqrt[3]{27} = \dots\dots\dots$

المستوى الأول:

هل يمكن صنع متوازي أضلاع من خلال قص ورقة مستطيلة الشكل؟ وضّح عملياً.

سلك طوله ٢٠ سم، تم صنع متوازي أضلاع منه، إذا كان أحد أضلاعه ٨ سم. احسب أطوال باقي الأضلاع؟

ضع علامة ✓ أو × :-
() مجموع الزوايا الداخلية لشبه المنحرف = مجموع الزوايا الداخلية لمتوازي الأضلاع.

المستوى الثاني:

متوازي أضلاع محيطه ٥٠ سم. اكتب ٥ احتمالات ممكنة لأطوال أضلاعه.

متوازي أضلاع محيطه ١٨ سم، والضلع الأول نصف الضلع الثاني. ما أطوال أضلاعه؟

متوازي أضلاع زواياه أ ، أ٢ ، أ ، أ٢ على الترتيب، جد قياسات زواياه؟

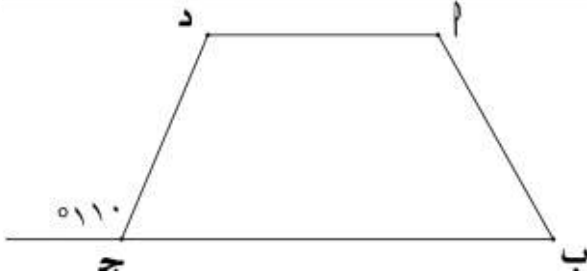
كيف أحصل على شبه منحرف من خلال قص كرتونة على شكل متوازي أضلاع؟



المستوى الأول:

المستوى الأول: ضع علامة \checkmark أو \times مع التوضيح:-
() في شبه المنحرف متساوي الساقين كل زاويتين متجاورتين مجموعهما 180°

أوجد قياسات زوايا شبه المنحرف متساوي الساقين الداخلية.



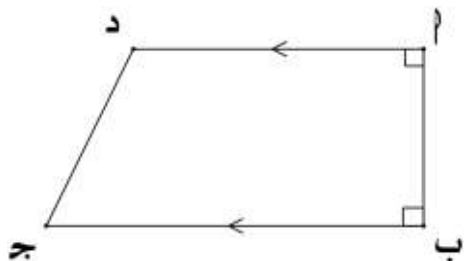
المستوى الثاني:

أكتب عدد محاور التماثل لكل من:

- (أ) شبه منحرف متساوي الساقين
- (ب) شبه منحرف قائم الزاوية
- (ج) شبه المنحرف

شبه منحرف متساوي الساقين فيه
قياس إحدى الزوايا 50° وأخرى تزيد
عنها بـ 80° ، أكتب قياسات زواياه
الأربعة؟

جد قياس \angle د إذا علمت أن \angle ق = $\frac{1}{2}$ \angle ج ؟



هل يمكن رسم شبه منحرف متساوي الساقين وقائم الزاوية معاً في نفس الشكل؟؟
فسّر إجابتك.

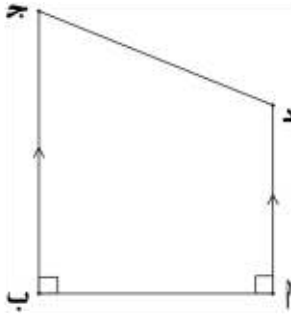
المستوى الأول:

هل يوجد أكثر من ارتفاع للمثلث الواحد؟ فسّر من خلال تعريف ارتفاع المثلث.

هل يمكن رسم متوازي أضلاع علم طول قاعدته وارتفاعه؟ فسّر ...


ضع علامة ✓ أو ✗ مع التوضيح:-

() يمكن اعتبار أ د ارتفاع لشبه المنحرف المرسوم.



هل جميع ارتفاعات المثلث الواحد متساوية في الطول؟ وضح ...

ارسم ارتفاع لمتوازي الأضلاع أ ب ج د من النقطة "ب" على القاعدة "د ج".

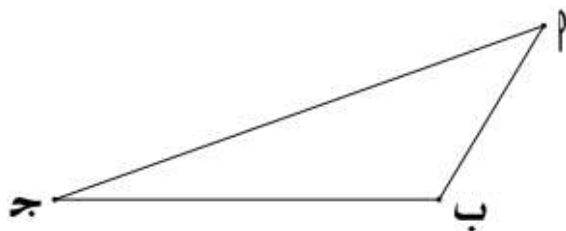


في شبه المنحرف المرسوم:

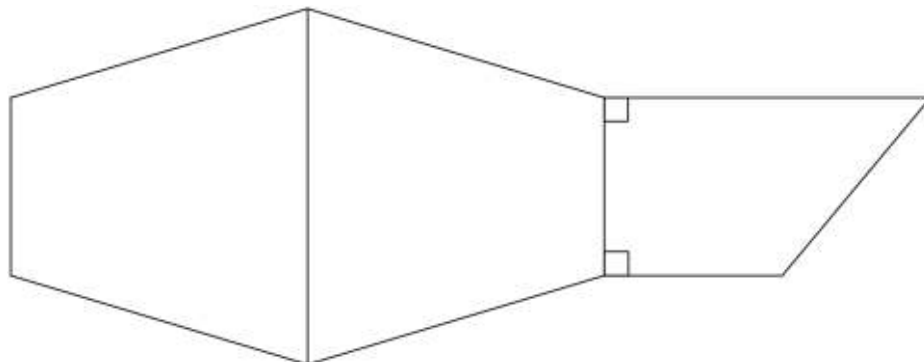


عيّن ارتفاع:
أ) في داخل الشكل.
ب) خارج الشكل.
ج) على ضلع من أضلاعه.

ارسم ارتفاع المثلث أ ب ج من النقطة "ب".



ارسم ارتفاعات لأشباه المنحرفات في الشكل:



في حال ثبات الارتفاع فإنه كلما زاد طول تزداد مساحة متوازي الأضلاع.
أكمل الفراغ بالاستعانة بدفتر المربعات.

المستوى الأول:

متوازي أضلاع طول قاعدته ضعفا طول ارتفاعه، فإذا كانت مساحة متوازي الأضلاع = 98 سم^2 ، احسب طول كلاً من القاعدة والارتفاع؟

متوازي أضلاع قاعدته $7,2 \text{ سم}$ ، ارتفاعه يزيد عن القاعدة بمقدار $3,5 \text{ سم}$. فما مساحته؟

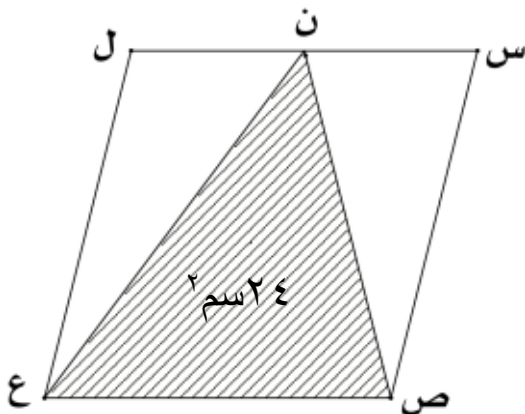
المستوى الثاني:

شكلان هندسيان، الأول متوازي أضلاع طول قاعدته 8 سم ، وارتفاعه 6 سم ، والثاني مستطيل طوله 10 سم فإذا كانت مساحة المستطيل ضعف مساحة متوازي الأضلاع، جد عرض المستطيل؟

اشترى أخوين قطعة أرض على شكل متوازي أضلاع طول القاعدة 30 م والارتفاع 5 م ، فإذا بنى الأول بيتاً على شكل مستطيل أبعاده 15 م ، 10 م ، وبنى الآخر بيتاً مساحته 180 م^2 . جد مساحة الأرض الفارغة؟

حديقة على شكل متوازي أضلاع قاعدتها ١٠ م، وارتفاعها ٨ م، ثم رُصف حولها ممر عرضه ٢ م، احسب مساحة هذا الممر؟

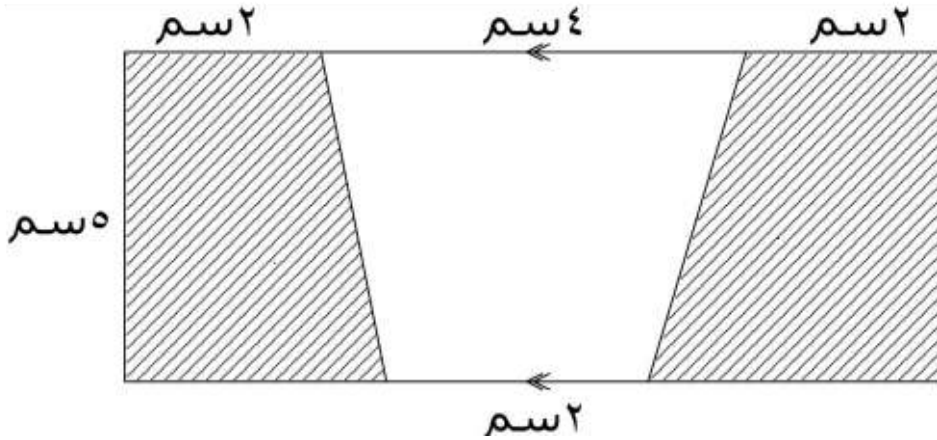
إذا علمت أن مساحة المثلث ن ص ع = ٢٤ سم^٢.
جد مجموع مساحتي المثلثين (س ص ن ، ل ع ن)



المستوى الأول:

شبه منحرف مساحته 5سم^2 وارتفاعه 10سم . ما طول قاعدتيه إذا علمت أن القاعدة الأولى ضعف الثانية؟

جد مساحة المنطقة المظللة:



المستوى الثاني:

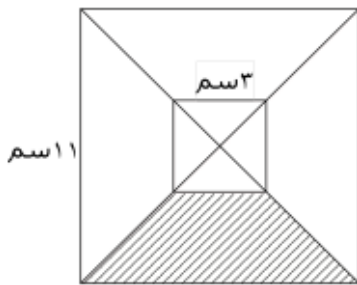
شبه منحرف طول ارتفاعه نصف طول قاعدته الأولى، وقاعدته الأولى نصف طول قاعدته الثانية. احسب مساحة شبه المنحرف إذا علمت أن طول الارتفاع 6سم .

جد مساحة شبه المنحرف المظلل في الشكل

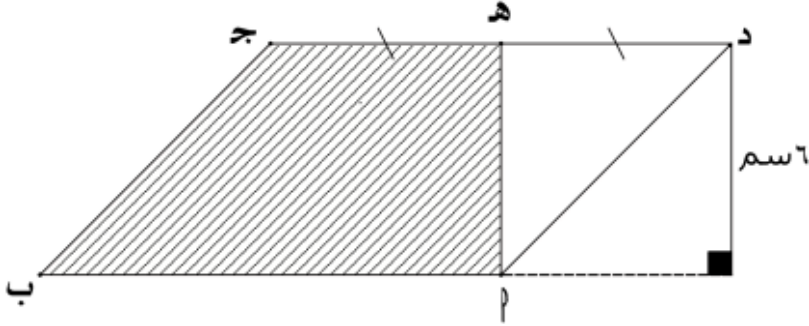
إذا علمت أن:

ضلع المربع الأصغر = 3سم

ضلع المربع الأكبر = 11سم



أ ب ج د متوازي أضلاع مساحته ٦٠ سم^٢ وطول العمود النازل من د على امتداد
ب أ = ٦ سم، النقطة هـ منتصف ج د. جد مساحة شبه المنحرف أ ب ج هـ.



يُرَاد تَبْلِيْطُ أَرْضِيَّة قَاعَةِ عُلَى شَكْلِ شِبْهِ مَنَحْرَفٍ طَوْلَا قَاعَتَيْهِ ١٠ م، ١٢ م، وَالرَّتْفَاعَ
بَيْنَهُمَا ٣٥ م، جَد تَكْلِفَةُ الْبَلَاطِ إِذَا كَانَتْ تَكْلِفَةُ الْمَتْرَ الْمَرْبِعِ ٢٥,٥ شَيْكَلْ؟

المستوى الأول:

يعبر جبرياً عن حاصل ضرب عدد في نفسه مقسوم على ٢ :

(أ) $\frac{س}{٢}$ (ب) $\frac{١}{٢}س^٢$ (ج) $٢س^٢$

إذا كان $\frac{٦}{س} = ٢,٠$ فإن قيمة س = (٢ ، ٣ ، ٦٠ ، ٣٠)

مكعب طول حرفه ل فإن حجمه = (٣ل ، ٢ل ، ٣ل ، ل)

المستوى الثاني:

إذا كان ص = $\sqrt{١٦٩}$ فإن قيمة $\frac{ص}{٢}$ = (١٣ ، ٢٦ ، ٣١ ، ٥٦)
جد قيمة ٢ص = ؟؟

خزان ماء مكعب الشكل سعته ٢٧ع^٣ فإن طول حرفه =

المستوى الثالث:

أكمل الفراغ: أكبر قيمة للعدد $\left(\frac{٣}{٥}\right)^س$ تكون عندما س =

ما أقل عدد يمكن استبداله بدل (ص) لتكون العبارة $\left(١ < \frac{٦}{ص}\right)$ صحيحة؟

المستوى الأول:

✚ عبّر بمقدار جبري عن العبارة: " ثلاثة أضعاف مكعب عدد مضاف إليه ٣ "

✚ اختر: يُعبّر جبرياً عن طرح عدد من مثلي مربعه
(أ) $٢ص - ٢ص$ (ب) $ص - ٢ص$ (ج) $٢ص - ٢ص$

المستوى الثاني:

✚ متوازي أضلاع طوله س وعرضه ص وارتفاعه يساوي مجموع (طوله وضعفه عرضه) فإن حجمه =

✚ أنا عدد عَشْر أمثالي يساوي عَشْر عشرات ، فمن أنا؟

المستوى الثالث:

✚ إذا علمت أن $س = ٩$ ، $ص = ٨$ ،
 $ع = ٢$ ، احسب القيمة العددية لما يلي:

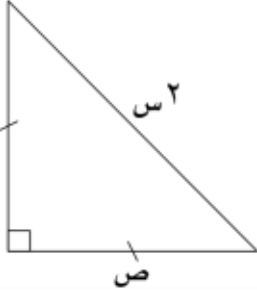
$$٢ص + ٣س + ٧ - ع$$

✚ إذا كانت $س = ٧ + \sqrt{٦٤}$ ،
فإن قيمة س =

المستوى الأول:

مستطيل عرضه ن وطوله ٣ أمثال عرضه، فإن محيطه =

مثلث قائم الزاوية ومتساوي الساقين، جد محيطه إذا علمت أن طول الوتر $2س$ وطول إحدى ضلعي القائمة ص،

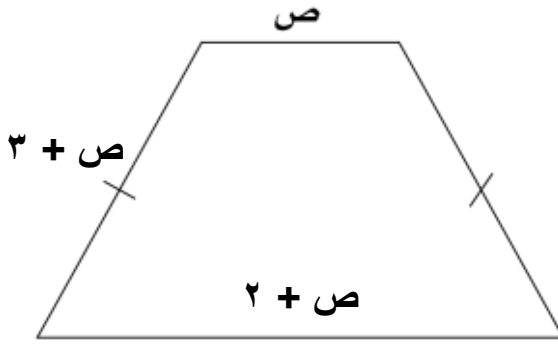


المستوى الثاني:

مثلث متساوي الأضلاع طول ضلعه $(٥ل + ٥)$ سم، عبّر عن محيطه جبرياً.

إذا أضفنا ٢٥ إلى ثلث عدد، فكان الناتج ضعف العدد، فما هو العدد؟

شبه منحرف متساوي الساقين طول قاعدتيه المتوازيتين ص، ص+٢ ،
وطول ساقيه ص+٣ ، جد محيطه.



إذا كان رُبع طول عصا وخُمسها في الماء، وما تبقى منها فوق سطح الماء يساوي ٥٥ سم،
فما طول العصا؟

الدرس الخامس عشر: ضرب الحدود والمقادير الجبرية

المستوى الأول:

مثبت قائم طولاً ضلعي القائمة (س، ٢س)
وطول الوتر $s\sqrt{5}$
فإن مساحته =

أكمل:
أ) مستطيل عرضه ل وطوله ضعف عرضه،
فإن مساحته =

المستوى الثاني:

عدد رُبعه يساوي ١٠ ، فما هو ثمن
خمس أمثاله؟

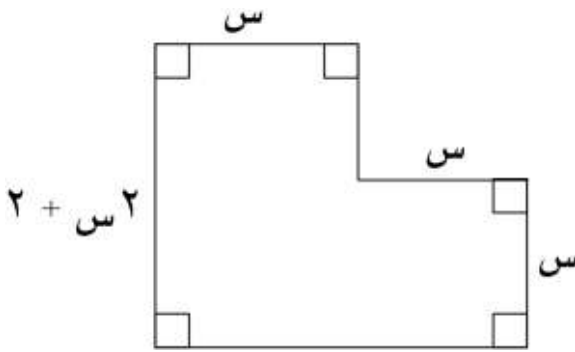
اختر: حجم المكعب الذي طول حرفه
٢ل هو
($٢ل^٢ - ٦ل - ٨ل^٣$)

جد العامل المشترك الأعلى (ع.م.أ) لما يلي:

(أ) $(3ص، ٥أ)$

(ب) $(٥ص، ١٠ص، ١٥ص)$

جد مساحة الشكل المقابل:



جد ناتج ما يلي: $(٣ص + ٢ص) (٤ع + ٥ع)$

المستوى الأول:

إذا كان متوسط علامات زياد في أربع امتحانات ٧٠ ، وكان مجموع علاماته في ثلاث امتحانات منها ٢٠٠ ، جد العلامة الرابعة؟

إذا كان الوسط الحسابي لأعداد (٦ ، ١٢ ، ٨ ، س) = ٩ ، جد قيمة س العديّة؟

المستوى الثاني:

إذا كان الوسط الحسابي للقيم (س-٥ ، ٢س ، ٨ ، س ، ١٤) هو س - ١ ، جد قيمة س ؟

ثلاثة أعداد وسطها ٢٠ ، إذا زدنا العدد الأول ١ وزدنا العدد الثاني ٢ ، وزدنا العدد الثالث ٣ فإن الوسط الحسابي يزيد بمقدار

المستوى الثالث:

ثلاثة أعداد أحدهما يساوي وسطهم الحسابي، فإذا كان مجموع العددين الآخرين ١٥٠ فما قيمة العدد الثالث؟

يعمل ٢٠ معلم في مدرسة راتب كل منهم ٢١٠٠ شيكل شهرياً، وسكرتير براتب ١٥٠٠ شيكل، ونائب المدير براتب ٢٥٠٠ شيكل شهرياً، ومدير المدرسة براتب ٣٠٠٠ شيكل شهرياً، والمرشد ١٦٠٠ ، وثلاثة أذنة راتب كل منهم ١٢٠٠ شيكل شهرياً، جد معدل الراتب الشهري لجميع العاملين في المدرسة؟

المستوى الأول:

إذا كان الوسيط الحسابي لمجموعة من القيم (١٤ ، س ، ١٢ ، ٢س ، ١١ ، ١٠ ، ١٣) جد الوسيط؟

إذا كان الوسيط للقيم (٦ ، ١٤ ، ١١ ، ٨ ، ٣س) هو ٩ ، فما قيمة س؟

المستوى الثاني:

جد الوسيط للقيم التالية:
($\sqrt{125}$ ، $\sqrt{64}$ ، ٢ ، $\sqrt{64}$ ، $\sqrt{81}$)

إذا كان الوسيط الحسابي للقيم (٤س ، ٥س ، ٢س ، ٦س ، ٢س) = ٦ ، جد قيمة س ، والوسيط؟

جد الطول الوسيط لأطوال النباتات ٥سم ، ٦٤م ، ٦٠م ، ٤سم

المستوى الثالث:

في مجموعة القيم (٩ ، ٥ ، س ، ٤ ، ٧) جد قيمة س التي تجعل الوسيط الحسابي = الوسيط

احسب الوسيط: $\sqrt{512}$ ، $\sqrt{225}$ ، ٣ ، ٣٤ + ٣٢ ، ٢٧ + ٢٣

المستوى الأول:

الوسط الحسابي لمجموعة القيم
(١٤ ، س ، ١٢ ، ٢س ، ١١ ، ١٣ ،
١٠) هو ١٥
جد قيمة س ، والمنوال؟

إذا كان المنوال للقيم (٣ ، ٤ ، ٨ ، ٤ ،
٥ ، ٥ ، ١ ، ٢س) هو ٤
فما قيمة س؟

المستوى الثاني:

اكتب مجموعة من القيم يكون فيها
الوسط = الوسيط = المنوال

في مجموعة القيم (٣٠ ، ٣٠ ، ٨٠ ،
٢٠ ، ٤٠ ، ص ، ٨٠) جد قيمة ص
التي تجعل الوسيط هو المنوال؟

المستوى الثالث:

ما هو المنوال للقيم
(٩ ، ٨١ ، ٢٣ ، ٧٢٩)
مع ذكر السبب.

في البيانات
(٩ ، □ ، □ ، □ ، ١) إذا علمت
أن المنوال ١٥ والوسيط ١٠ فإن
الوسط الحسابي =