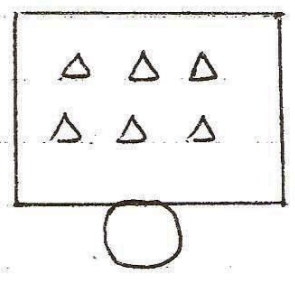
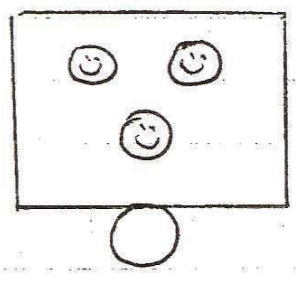
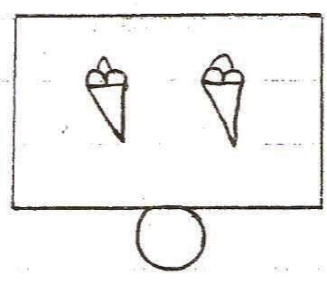



مدرسة المأمونية الابتدائية المتكئة ٢  
ورقة عمل للحف الأول في مادة الرياضيات  
سبتمبر العام الدراسي ٢٠١٩ \* ٢٠٢٠

اسم الطالب: \_\_\_\_\_ الدرجة: \_\_\_\_\_

السؤال الأول: أكتب عدد العناصر



السؤال الثاني: ارسم بحسب المطلوب



١

٩

٧



السؤال الثالث: حد العدد بلفظه

واحد      سبعة      تسعة      ثلاثة      ثمانية

٣


٨

٧


١

٩

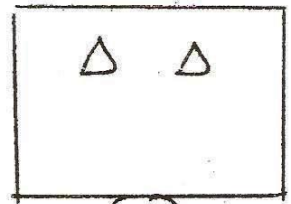
السؤال الرابع : أكمل الرسم



٦




٣



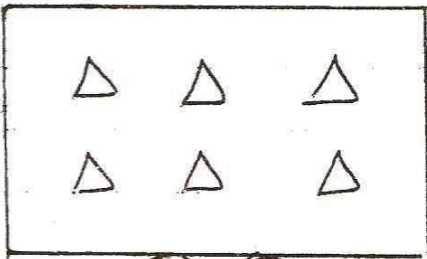
٤




السؤال الخامس : أكمل المتتالية



السؤال السادس : أقم حسب المطلوب



٥ ١



٤ ٤