





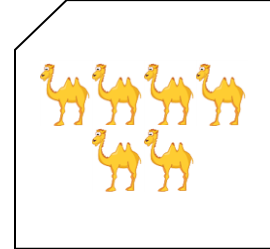



## امتحان في مادة الرياضيات - للصف الأول الأساسي

شهر سبتمبر ( الفصل الأول )







الدروس / الوحدة الأولى ( الأعداد ١ - ٩ )

اسم الطالب/ة: ..... / التقدير / .....

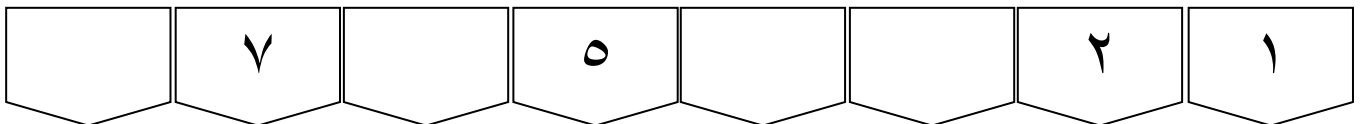
### السؤال الأول: أصل بين المجموعة و العدد المناسب:



### السؤال الثاني: أكمل الرسم حسب العدد المطلوب:

### السؤال الثالث / أكمل متتالية الأعداد:



### السؤال الرابع / أكتب رمز العدد:

تسعة	خمسة	واحد
------	------	------

أطيب الأمنيات بالنجاح والتوفيق