

امتحان شهر سبتمبر لمادة العلوم والحياة للصف الثالث الأساسي

الاسم /

الشعبة /

عزيزي الطالب : حوط النباتات التي تؤكل أوراقها مطبوخة



بقدونس

زيتون

تين

ليمون

سبانخ

عنب

عزيزي الطالب : صل الأزهار التالية بالاسم المناسب



شقانق النعمان

النرجس

عصا الراعي


عزيزي الطالب : اختر الإجابة الصحيحة مما بين القوسين :

- 1) نصنع من الزهور (الماء - العطور).
- 2) يمر تكوين الزهرة بـ مراحل (أربع - خمس).
- 3) أول مرحلة من تكوين الزهرة (ذبول الزهرة - البرعم).
- 4) وظيفة الزهرة الرئيسية (تكوين الثمرة - تكوين الساق).

عزيزي الطالب تأمل الثمار التالية واكتب أسماءها



عزيزي الطالب : تأمل النبتة التالية ، وصل الأجزاء :

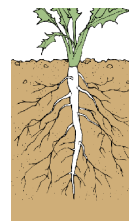


الساق
الزهرة
الجزر
الورقة

عزيزي الطالب : صل الخصائص التي تنطبق على الجذر :

يمتص الماء والغذاء

يحمل الأوراق



يصنع الغذاء


ينمو تحت التربة

يثبت النبات

عزيزي الطالب : ضع خطأً تحت الجذور التي نأكلها:

لفت	بطاطا عادية	فول	جزر
-----	-------------	-----	-----

عزيزي الطالب : تأمل النبات التالي ، ثم أجب:



❖ الجزء المشار إليه هو(الورقة، الزهرة، الساق)

❖ الساق هو الذي ينمو التربة .(فوق، تحت، أسفل)

❖ من وظائف الساق حمل..... (الأوراق، الثمار، الأزهار، جميع ما سبق)


❖ ينقل الساق الماء والأملاح من التربة إلى ..(الورقة ، الجذر ، أجزاء النبات)

❖ ينقل الساق الغذاء من الأوراق إلى..... (الجذر ، الزهرة ، الثمرة)

عزيزي الطالب ضع علامة /تحت الصورة التي تدل على الورقة :



عزيزي الطالب : صل ما يناسب الورقة من خصائص :



عزيزي الطالب : اختر الإجابة الصحيحة مما يلي : الورقة تصنع الغذاء وتأخذ :

الماء	الهواء
التربة	الساق
الزهرة	الشمس

- ثاني أكسيد الكربون من
- الماء من
- الضوء من