

المادة : الرياضيات

الصف: الأول الأساسي

ورقة عمل تقييمية

الشهر: ديسمبر - العام الدراسي ٢٠١٧-٢٠١٨

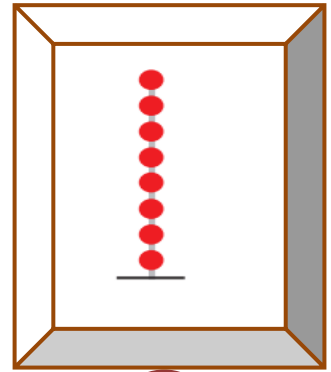
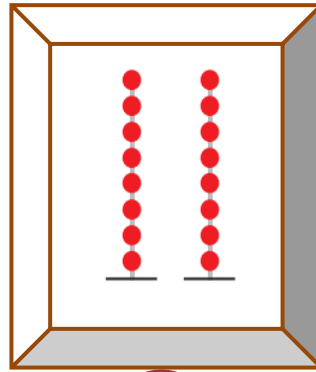


٢٠١٨

الدروس: الوجدتين الخامسة و السادسة

اسم الطالب/ة.....

الدرجة:

السؤال الأول: أكتب العدد الدال على المجموعة:



السؤال الثاني: أمثل الأعداد على لوحة المنازل:

٩	
عشرات	آحاد
.....

٢٠	
عشرات	آحاد
.....

١٥	
عشرات	آحاد
.....

١٨	
عشرات	آحاد
.....

السؤال الثالث: أكتب العدد المناسب في الفراغ:

١٠
.....	٨

١٠
.....	٥

٢٠
.....	١٠

٢٠
.....	١٥

السؤال الرابع: أكمل المتتالية بالأعداد الناقصة:

١٨			١٥	١٤			١١	١٠
----	--	--	----	----	--	--	----	----

السؤال الخامس: أضع دائرة حول المطلوب:

ب أضع دائر حول أصغر عدد:

أ- أضع دائر حول أكبر عدد:

١١	١٠	٩
----	----	---

٢٠	١٨	١٢
----	----	----

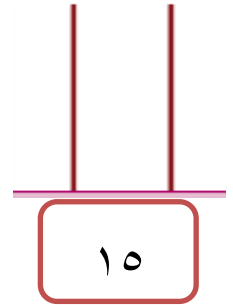
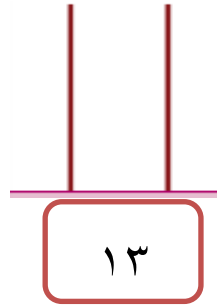
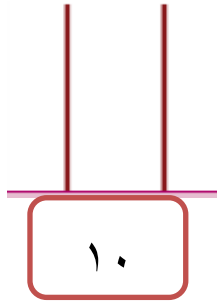
السؤال السادس: أكتب العدد المطلوب:

ب- أكتب العدد السابق:				أ - أكتب العدد التالي:			
١٦		١٠		١٩		١٣	

السؤال السابع: أكتب العدد المناسب في □:

$١٧ = \square + ١٠$	$\square = ٢ + ١٠$
$٢٠ = \square + ١٠$	$\square = ١٠ + ٥$

السؤال الثامن: أمثل الأعداد على المعداد:



السؤال التاسع: أجب بحسب المطلوب:

ج- أرسم عقربي الساعة	ب- أكتب التوقيت	أ- أحوظ السهم الأقصر
الرابعة		

أطيب الأمنيات بالوفيق و النجاح