



(( ( الوحدة الثانية ) ))


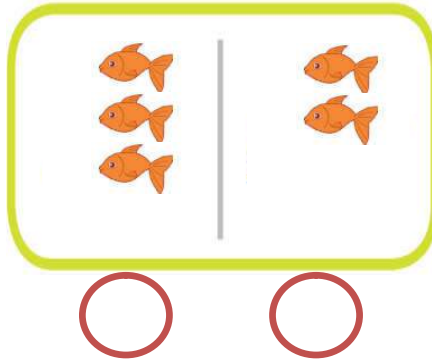

ورقة عمل ( ١ ) في مادة الرياضيات ( الدرس الأول - مقارنة عددين ) للصف الأول الأساسي

أكتب عدد العناصر و أضع إشارة ( ✓ ) أسفل المجموعة التي تحتوي عناصر أكثر:



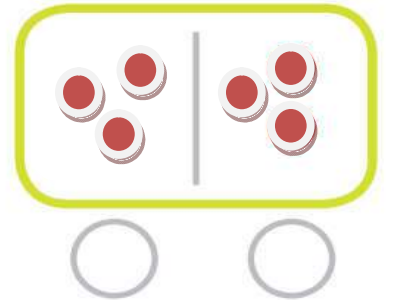
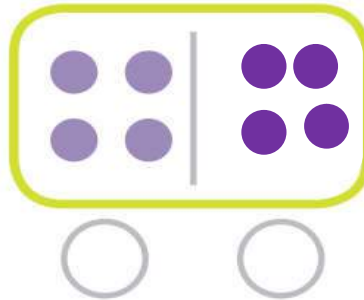
\*\*\*\*\*

أعدُ العناصر و أضع إشارة ( ✓ ) أسفل المجموعة التي تحتوي عناصر أقل:



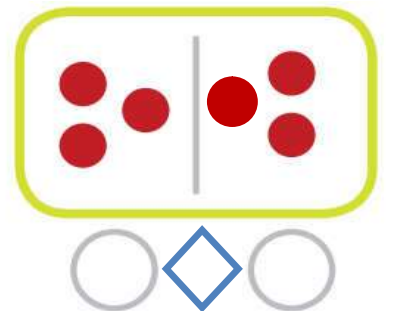
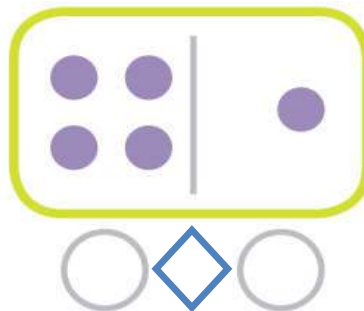
\*\*\*\*\*

أكتب عدد العناصر و أضع إشارة ( ✓ ) أسفل زوج المجموعات التي عناصرها متساوٍ:



\*\*\*\*\*

أكتب عدد عناصر كل مجموعة ثم أضع إشارة < أو > أو = في :







(( ( الوحدة الثانية ) ))

ورقة عمل ( ٢ ) في مادة الرياضيات ( الدرس الأول - مقارنة عددين ) للصف الأول الأساسي

أكتب عدد عناصر كل مجموعة ثم أضع إشارة < أو > أو = في  :




		
<input type="text"/>	<input type="radio"/>	<input type="text"/>


		
<input type="text"/>	<input type="radio"/>	<input type="text"/>

		
<input type="text"/>	<input type="radio"/>	<input type="text"/>

\*\*\*\*\*

أضع إشارة (<) أو (>) أو (=) في  :


٧	<input type="radio"/>	٤
٢	<input type="radio"/>	٦
	<input type="radio"/>	
٥	<input type="radio"/>	
٨	<input type="radio"/>	٣
ثمانية	<input type="radio"/>	٧

٥	<input type="radio"/>	٢
٨	<input type="radio"/>	٧
	<input type="radio"/>	خمسة
ثلاثة	<input type="radio"/>	واحد
٦	<input type="radio"/>	ستة
٨	<input type="radio"/>	٩

\*\*\*\*\*

أكتب عدداً مناسباً لتصبح المقارنة صحيحة:



٨	<	.....
	=	.....
٦	<	.....
.....	>	٧
.....	<	٨

٥	<	.....
٧	>	.....
.....	=	تسعة
.....	>	٤
.....	<	٦

ورقة عمل في مادة الرياضيات الترتيب التصاعدي للصف الأول الأساسي

أضع دائرة حول العدد الأكبر في كل مجموعة أعداد:

٢ - ٦ - ٨ - ٣ - ٤

١ - ٥ - ٧ - ٦ - ٢

٩ - ٧ - ٨ - ٦ - ٥



أكمل المتتاليات بالأعداد الناقصة:

٩

٢

١

أرتب تصاعدياً:

٥

٨

٧

١

٦

٢

ثلاثة

سبعة

أربعة

١

٤

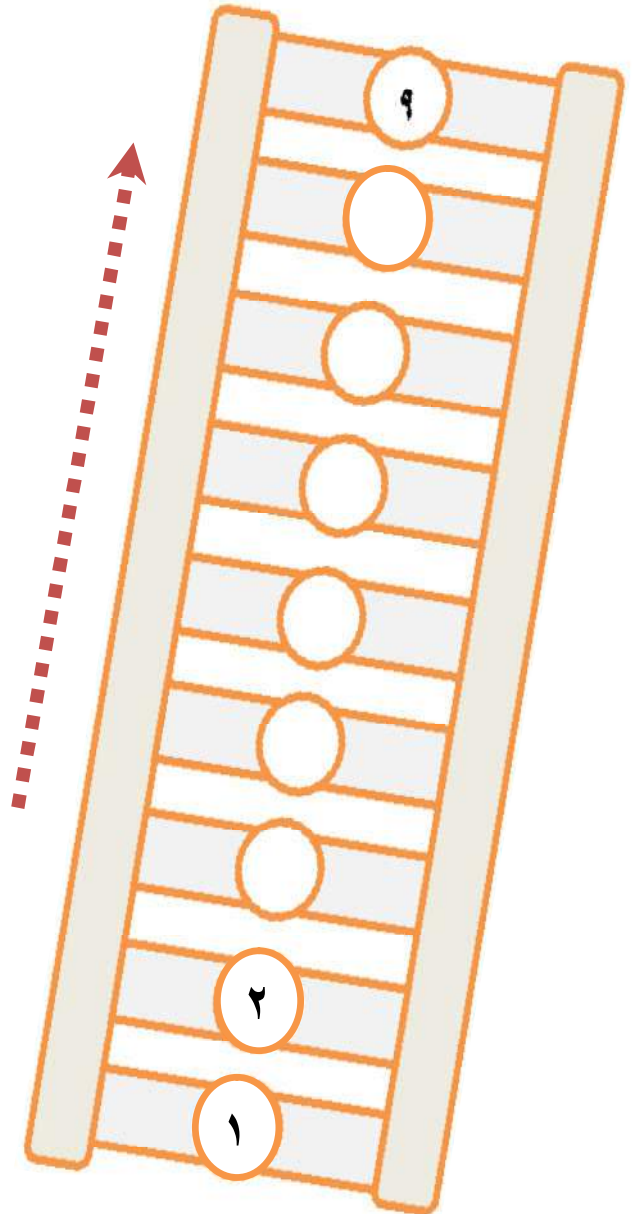
٩

واحد

خمسة

ستة

أكمل المتتالية تصاعدياً بحسب السهم:



ورقة عمل في مادة الرياضيات الترتيب التنازلي للصف الأول الأساسي

أضع دائرة حول العدد الأصغر في كل مجموعة أعداد:

٢ - ٦ - ٧ - ٤ - ١

٩ - ٧ - ٨ - ٦ - ٥

٢ - ٦ - ٨ - ٣ - ٤



أكمل المتتاليات بالأعداد الناقصة:

١								٨	٩
---	--	--	--	--	--	--	--	---	---

\*\*\*\*\*

أرتب تنازلياً:

٥	٨	٧
<input type="text"/>	<input type="text"/>	<input type="text"/>

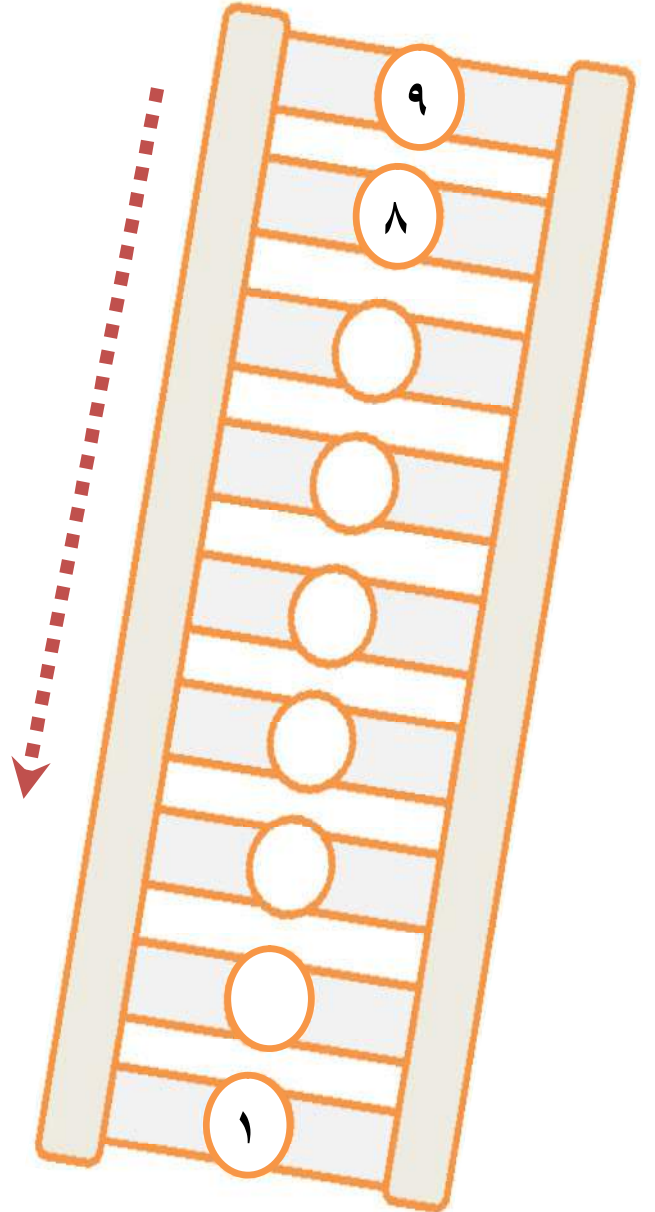
١	٦	٢
<input type="text"/>	<input type="text"/>	<input type="text"/>

٣	٧	٤
<input type="text"/>	<input type="text"/>	<input type="text"/>

١	٤	٩
<input type="text"/>	<input type="text"/>	<input type="text"/>

٤	٥	٣
<input type="text"/>	<input type="text"/>	<input type="text"/>





أكمل المتتالية تنازلياً بحسب السهم:



هيا صديقي الطالب نضع دائرة حول العدد الأكبر :

٤	٦	٩	٥	٧	٣
---	---	---	---	---	---

هيا الآن صديقي نعد ثم نرتب تصاعديا :

 <input type="text"/>	 <input type="text"/>	 <input type="text"/>	 <input type="text"/>
--	---	--	---

الترتيب التصاعدي :

والآن صديقي هيا نقوم  
بترتيب الاعداد التالية  
تتازليا ^ \_ ^





٥ / ٨ / ٦
-----------

ورقة عمل في مادة الرياضيات العدد السابق للصف الأول الأساسي

أكتب العدد المناسب، و أضع إشارة ( ✓ ) أسفل العدد الأصغر بواحد :

--	--	--

أضع دائرة حول العدد السابق:

<table border="1"> <tr> <td>٩</td> <td>٨</td> </tr> </table>	٩	٨	<table border="1"> <tr> <td>٦</td> <td>٥</td> </tr> </table>	٦	٥	<table border="1"> <tr> <td>٣</td> <td>٢</td> </tr> </table>	٣	٢
٩	٨							
٦	٥							
٣	٢							



أكتب العدد السابق للأعداد التالية:

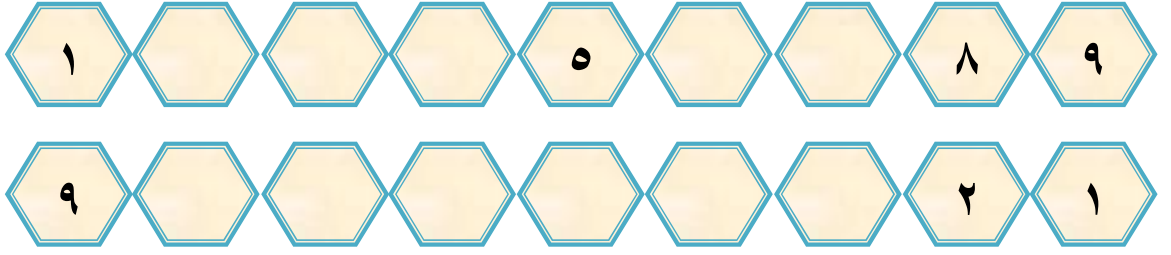
٦	٥	٢	٤
٣	٧	٨	٩

أصل العدد من العمود الثاني بالعدد الذي يسبقه من العمود الأول:

٤	١	٩	٢
٢	٣	٣	٤
٨	٥	٥	٦
٦	٧	٧	٨

ورقة عمل في مادة الرياضيات العدد التالي للصف الأول الأساسي

أكمل المتتاليات بالأعداد المناسبة :



\*\*\*\*\*

أكتب العدد المناسب، و أضع إشارة ( ✓ ) أسفل العدد الأكبر بواحد:

<input type="checkbox"/> <input type="checkbox"/>	<input type="checkbox"/> <input type="checkbox"/>	<input type="checkbox"/> <input type="checkbox"/>



أكتب العدد التالي للأعداد التالية:

<input type="text"/>	٣	<input type="text"/>	١	<input type="text"/>	٢	<input type="text"/>	٤
<input type="text"/>	٨	<input type="text"/>	٧	<input type="text"/>	٦	<input type="text"/>	٥

أصل العدد من العمود الأول بالعدد الذي يليه من العمود الثاني:

٩	٢	٤	١
٧	٤	٢	٣
٣	٦	٨	٥
٥	٨	٦	٧


صديقنا خالد

يريد المساعدة

في حل السؤالين التاليين &\_8^

أجب حسب المطلوب :

العدد التالي:



٧



٤



٢



العدد السابق:





ورقة عمل في مادة الرياضيات ( العدد الترتيبي ) للصف الأول الأساسي

أصل بين العدد و ترتيبه:

الأول	الثالث	الخامس	السادس	السابع	الثامن	التاسع	الثاني	الرابع
٣	١	٦	٥	٩	٨	٧	٤	٢

أكتب ترتيب كل عربة من العربات التالية:

( الخامسة - السادسة - التاسعة - الثامنة - الرابعة - الثالثة )

الأولى الثانية (3rd) (4th) (5th) (6th) السابعة (8th) (9th) (10th)

\*\*\*\*\*

أتأمل ترتيب الصور التالية ثم أجيب:

عمر	وداد	خالد	أحمد	ليلى



- ١- ترتيب أحمد .....
- ٢- ترتيب خالد .....
- ٣- ترتيب وداد .....
- ٤- ترتيب عمر .....
- ٥- ترتيب ليلى .....

(( ( الوحدة الثالثة )) )

ورقة عمل ( ٢ ) فى مادة الرياضيات ( الدرس الأول - العدد الترتيبي ) للصف الأول الأساسى

أتأمل أيام الأسبوع ثم أجيب عن الأسئلة:

السَّبْت	١- أول يوم في الأسبوع هو .....
الأَحَد	٢- ثاني يوم في الأسبوع هو .....
الإِثْنين	٣- ثالث يوم في الأسبوع هو .....
الثُّلاثاء	٤- اليوم السابع هو .....
الأَرْبعاء	٥- اليوم الذي يلي يوم الأربعاء هو .....
الخَميس	٦- اليوم الذي يسبق يوم الإثنين هو .....
الجُمُعَة	اليوم الذي يقع بين الثلاثاء و الخميس هو .....




\*\*\*\*\*

أكتب أيام الأسبوع الناقصة:

الجمعة		الأربعاء		الإثنين		السبت
--------	--	----------	--	---------	--	-------

\*\*\*\*\*

أضع دائرة حسب العدد الترتيبي المطلوب:









	الكرة الخامسة
	الدب السادس
	السمة الأولى
ناجي	الحرف الثالث




(( ( الوحدة الثانية ) ))


مراجعة

أكمل رسم العناصر بحيث تصبح المقارنة صحيحة:

				
<input type="text"/>	>	<input type="text"/>	<input type="text"/>	
				
<input type="text"/>	<	<input type="text"/>	=	<input type="text"/>

أضع إشارة (<) أو (>) أو (=) في :

٢	<input type="text"/>	٣
سبعة	<input type="text"/>	٧
سنة	<input type="text"/>	

٧	<input type="text"/>	٤
٦	<input type="text"/>	٨
	<input type="text"/>	ثلاثة

\*\*\*\*\*

أرتب تصاعدياً

٢ ، ٤ ، ٩	٧ ، ١ ، ٣	٣ ، ٨ ، ٥
..... ، ..... ، .....	..... ، ..... ، .....	..... ، ..... ، .....



أرتب تنازلياً:

١ ، ٤ ، ٥	٦ ، ٧ ، ٢	٨ ، ٩ ، ٧
..... ، ..... ، .....	..... ، ..... ، .....	..... ، ..... ، .....