

ملزمة تأسيس  
أول حاجة لازم ابني يعرف الأعداد  
من ١ : ١٠

١	واحد	٦	ستة
٢	اثنان	٧	سبعة
٣	ثلاثة	٨	ثمانية
٤	أربعة	٩	تسعة
٥	خمسة	١٠	عشرة

كل طفل لازم يحفظ و يكتب الأرقام  
٥٥ . الأسماء حمار


ابني بامس حافظ مش فاهم . او  
لعبت الحروف يتوه .

- اعمك تمرينات لتشتيط الذكاء  
والذاكرة .



ازاي؟؟؟

س وصل



اسماء احمد

س عد و اكتب

★★★★

( 4 )

★★

( 2 )

★★★★★

( 5 )


★★★

( 3 )

★★★★★★

( 6 )

س اكمال



## الأكبر والأصغر

عندنا علامة أكبر من  $>$  وعلامة

أصغر من  $<$  وعلامة يساوي  $=$

بشرح ليه ان العلامة زي السمكة

بتحب تاكل الكبير  
الأسماء حماد



$$2 < 6$$

$$0 > 1$$

$$6 = 6$$

$$0 > 2$$

$$1 = 1$$

## الترتيب التصاعدي و التنازلي

### التصاعدي

لما تيجي تطلع السلم بيكون  
من تحت لفوق (من الصغير للكبير)

رتب تصاعدي ٧ - ٥ - ١ - ٣

قولنا من الأصغر إلى الأكبر

٧ - ٥ - ١ - ٣

### الأسماء التي تبدأ بحاء

### التنازلي

من فوق لتحت (حزول من  
السلم من أعلى حابه للأقل)

رتب تنازلي ٥ - ٣ - ٩ - ٧

٥ - ٣ - ٩ - ٧

## الطرح

بابا أعطاك ٥ جنية و روحت صرفت  
٢ جنية فاضل كام؟

حط ٥ على ايدى و اقلل؟

يفضل كام

$$5 - 2 = 3 \quad \text{١١ أسماء} \\ \text{حماد}$$

كان معاك ٣ أقلام ضاع واحد

يفضل كام؟

$$3 - 1 = 2$$

$$6 - 2 = 4$$

$$7 - 2 = 5$$

$$3 - 0 = 3$$

$$1 - 0 = 1$$

$$7 - 1 = 6$$

$$8 - 3 = 5$$

# Miss Naglaa

موضوع التمرين

① \* أكمل الأعداد :

٠ ١ ٢ ٣ ٤

١٠ ١١ ١٢ ١٣ ١٤ ١٥ ١٦ ١٧ ١٨

٢٠ ٢١ ٢٢ ٢٣ ٢٤ ٢٥ ٢٦ ٢٧ ٢٨ ٢٩

٣٠ ٣١ ٣٢ ٣٣ ٣٤ ٣٥ ٣٦ ٣٧ ٣٨ ٣٩ ٤٠

٤٦	٤٧	٤٨	٤٩	٥٠	٥١	٥٢	٥٣	٥٤
٥٥	٥٦	٥٧	٥٨	٥٩	٦٠	٦١	٦٢	٦٣


\* حوِّط على العدد الأصغر :

١٥ - ٧ - ٢٨ - ٣٠

٣٦ - ٣٠ - ٣٩ - ١١

\* حوِّط على العدد الأكبر :

٧ - ١١ - ٥٩ - ٧





السابق ١٥ التالي

السابق ٢٧ التالي

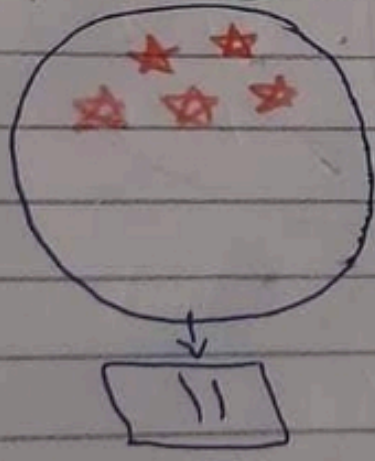
السابق ٤٢ التالي

السابق ٥٦ التالي


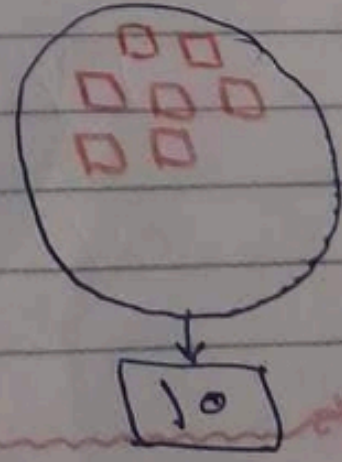
# Miss Naglaa

\* أي عدد + . «زى ما هو»



\* أكمل العدد بالرقم =



- 1 = 0 + 1
- 2 = 0 + 2
- ... = 0 + 3
- ... = 0 + 4
- ... = 0 + 5
- ... = 0 + 6
- ... = 0 + 7
- ... = 0 + 8
- ... = 0 + 9
- ... = 0 + 10



٢  
\* أكل عدد الأشكال من الأجزاء

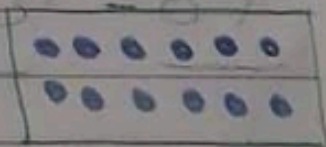


Miss Naglaa

- = عدد ☆
- = عدد Δ
- = عدد ○

و وصل بالعدد


١٤



٩




١٥





٤) اجمع :- اداء العدد الأكبر من احدى واذا حضر على ايسر

$$\begin{array}{r} ٤٦ \\ + ٣٠ \\ \hline \end{array} \quad \begin{array}{r} ٤٥ \\ + ٤٠ \\ \hline \end{array} \quad \begin{array}{r} ٦٤ \\ + ٢٢ \\ \hline \end{array} \quad \begin{array}{r} ٥٧ \\ + ٣٢ \\ \hline \end{array}$$




$$= ٣٣ + ٤٥$$

$$= ٢٤ + ٦٥$$

اطرح :- اداء العدد الاكبر من احدى وعد الى الاكبر

$$\begin{array}{r} ٨٥ \\ - ٣٥ \\ \hline \end{array} \quad \begin{array}{r} ٩٩ \\ - ٤٦ \\ \hline \end{array} \quad \begin{array}{r} ٨٦ \\ - ٤٥ \\ \hline \end{array} \quad \begin{array}{r} ٧٤ \\ - ٣٥ \\ \hline \end{array}$$

# Miss Naglaa



$$= ٩٥ - ٧٩$$

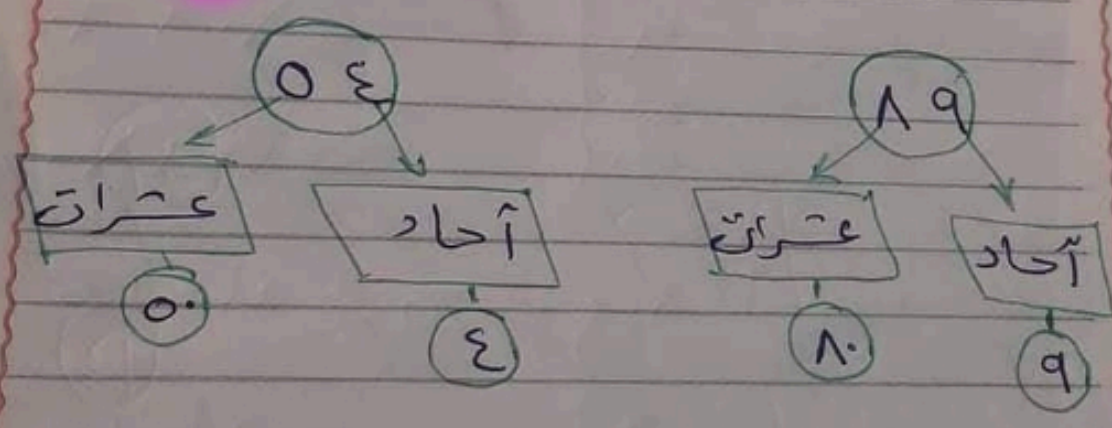

$$= ٦٥ - ٩٤$$

٥ \* رتب تصاعدياً من الأصغر للكبير

١٧ - ١١ - ٤٠ - ٢٥  
**Miss Naglaa**

\* رتب تنازلياً من الأكبر للأصغر


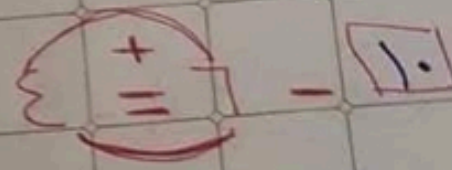
٢٦ - ٥٨ - ٢٠ - ٩



\* طانة الأعداد فقرة أي عدد يدخل عندها  
يخرج زياتاهو

\* طانة العشرات فقرة عدد يدخل يخرج كبير  
أصغره مبقر

\* المربعات السحرية فردا  
« احفظ لها يكون في الناقص  
والعدين جنب بعض اجمعوه  
على بعض »



Subject: \_\_\_\_\_ Date: \_\_\_\_\_  
 Chapter: \_\_\_\_\_

$7 = \square - 9$	$9 = \square + 7$
$0 = \square - 7$	$7 = \square + 0$
$7 = \square - 7$	$7 = \square + 7$
$7 = 7 - \square$	$7 = \square + 7$
$7 = 0 - \square$	$7 = \square + 0$
$7 = 7 - \square$	$7 = \square + 7$
$9 = 7 - \square$	$7 = \square + 9$

9	6	8	8	0	7
0	3	6	0	2	3

في المربعات السبعة أدور على الصغير  
 في عنى وأعد إلى الكبير في (+ -)

9 = □ - 9	9 = □ + 7
3 = □ - 6	12 = □ + 9
7 = □ - 8	10 = □ + 7

لما يكون في الناقص والكدرين جنب

بعض اجمعهم  
على بعض

$$3 - 4 = -1$$

$$0 - 7 = -7$$

Miss Naglaa

$$2 - 3 = -1$$

$$4 - 0 = 4$$



$$7 - 4 = 3$$



تأسيس

١	عشرات و ١٠	١	أحاد = ١
٢	عشرات و ٢٠	٢	أحاد = ٢
٣	عشرات و ٣٠	٣	أحاد = ٣
٤	عشرات = ٤٠	٤	أحاد = ٤
٥	عشرات و ٥٠	٥	أحاد = ٥
٦	عشرات و ٦٠	٦	أحاد = ٦
٧	عشرات و ٧٠	٧	أحاد = ٧
٨	عشرات و ٨٠	٨	أحاد = ٨
٩	عشرات و ٩٠	٩	أحاد = ٩

٥٠ أحاد + ٣ عشرات = ٢٠ + ٥٠ = ٧٠


٦ عشرات + ٤ أحاد = ٦٠ + ٤ = ٦٤

خاتمة الأعداد  
من الأول  
لازم أن تبدأ بـ

Miss Naglaa

Date /

# Miss Naglaa



$$u = 9 \cdot -9 \cdot u$$

$$o = A \cdot -A \cdot o$$

$$v = 3 \cdot -3 \cdot v$$

$$= 3 \cdot -3 \cdot 3$$

$$= 7 \cdot -7 \cdot 7$$

$$= 1 \cdot -1 \cdot 1$$

$$= 1 \cdot -1 \cdot 1$$

$$= 0 \cdot -0 \cdot 0$$

$$= 5 \cdot -5 \cdot 5$$

$$o \cdot = v - o \cdot v$$

$$9 \cdot = 5 - 9 \cdot 5$$

$$7 \cdot = 3 - 7 \cdot 3$$

$$= 0 - 3 \cdot 0$$

$$= 7 - 3 \cdot 7$$

$$= v - v \cdot v$$

$$= 3 - 1 \cdot 3$$

$$= 7 - 7 \cdot 7$$

$$= v - v \cdot v$$





# Miss Naglaa

⊙

q = v. - vq	ε - = φ - εφ
o = λ. - λo	κ. = χ - κχ
= γ. - γε	= λ - qλ
= ε. - εκ	= ε - oε
= λ. - λκ	= λ - λλ
= κ. - κv	= q - vq
= q. - qκ	= ε - γε



# Miss Naglaa

موضوع التمرين

٦١

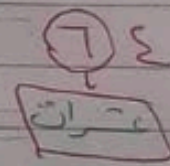
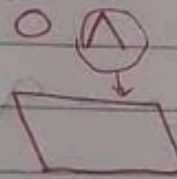
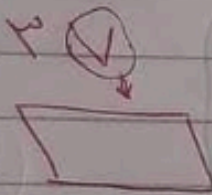

\* جوط على خانة الأعداد

٤٦ - ٥٩ - ١٨ - ٧٢

\* جوط على خانة العشرات

٧٩ - ٤٥ - ٦٣ - ١١ - ٨٥

\* اكتب اسم الخانة



$$٣٧ = ٣٠ + ٧$$

$$= ١٠ + ٩$$

$$= ٤٠ + ٨$$

$$= ٧٠ + ٥$$

$$٤٠ + ٥ = ٤٥$$

$$+ = ٤٦$$

$$+ = ٨٢$$

$$+ = ٧٩$$



موضوع العدد  
أكتب اسم الخانة: - ٧ ٦

٥ + ٣ = ٨  
← ٤ ٥

٧ + ٥ = ١٢  
← ٢ ١٢

٧ = ٤ --- أحاد و --- عشرات ٨

١٩ = ٩ --- أحاد و --- عشرات ١

١٠ + □ = ٧٥

١٠ + □ = ١٩

□ = ٩ + ٥

□ = ٦ + ٣

□ = ٦ + ٤

عشران + عشرا  
عشرا =

$$= 20 + 30$$

$$= 50 + 0$$

$$= 0 - 70$$

$$= 60 - 80$$

7 احدات + 3 عشران =

8 عشران + 0 احدات =

هذا  
بار احدات

7 احدات + 4 احدات + 0 احدات =

$$= \quad +$$

0 عشران + 3 عشران = 3 عشران

$$= \quad +$$

كلمه عشران  
موجوده على  
(صفر)

## Miss Naglaa

\* كتابة الأعداد بالحروف = هبض لفضيه

١٠ عشرة	١١ أحد عشر	١ واحد
٢٠ عشرون	١٢ اثناعشر	٢ اثنتان
٣٠ ثلاثون	١٣ ثلاثة عشر	٣ ثلاثة
٤٠ أربعون	١٤ أربعة عشر	٤ أربعة
٥٠ خمسون	١٥ خمسة عشر	٥ خمسة
٦٠ ستون	١٦ ستة عشر	٦ ستة
٧٠ سبعون	١٧ سبعة عشر	٧ سبعة
٨٠ ثمانون	١٨ ثمانية عشر	٨ ثمانية
٩٠ تسعون	١٩ تسعة عشر	٩ تسعة

\* اكتب الأعداد بالترتيب = حسب لفظه

11 = أحد عشر | 90 = اتناشر وعشرون

40 = عشرين وأربعون | 56 = أربعمائة وستون

--- = 77 | --- = 27

--- = 78 | --- = 17

Miss Naglaa

\* وصل :

7 + 20

7 + مائة

90

2 + 80

سنة وعشرون

عشرة وعشرون

اتناشر وعشرون

سبعون وستون

# Miss Naglaa

\* دونه علامه < أو > أو = :-

ستون

٣٠ + ٨٠

٧

٢٠ + ٧٠

٩٠ + ٥

٣٠ - ٨٠

سبعون

٤٠ + ٥

٦٠

ثمانون

٤٠ + ٤٠

تصون - ثمانون

خمسة وأربعون

أربعون + ثلاثون

٥٠

خمسة وتسعون

٨٠  
تصون

سبعون - ١٠

١٠ - ٩٠

٦٥ - خمسة

٨٠ ٣٠ ٥٠  
ثمانون = ثلاثون + خمسون

٩٧ ٩٠ ٧  
سبعون = تسعون + سبعون

٥٠ ٤٠ ١٠  
أربعون = عشرون + عشرون

ثمانون - عشرون =

٧٠ - عشرة =

Miss Naglaa

اثنان + سبعون =

سبعون - اثنان =

سبعون - ٥٠ =

اثنان وأربعون - ٩ =



# Miss Naglaa

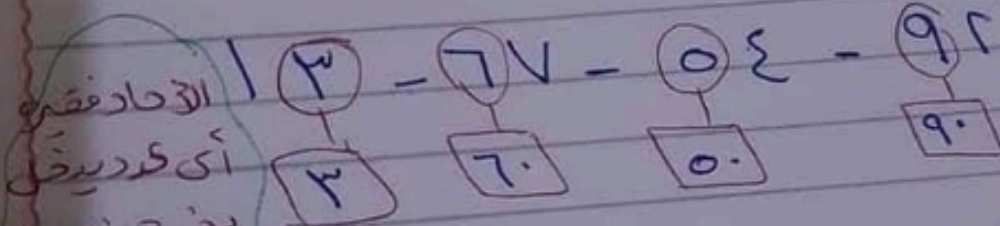
\* حوطة على خانة الآحاد :

٩٧ - ٣٦ - ٦٤ - ٨٢

\* حوطة على خانة العشرات :

١٧٢ - ٧٣ - ٥٤ - ٦٦

\* التيب فيه الرقم (يعني بكلام)



الآحاد فقط  
 أي كد يدخل  
 يخرج زي طاهو  
 العشرات منه  
 الكد يدخل  
 يخرج قدامه

\* التيب الفجدة المكانية للرقم

كلام الآدم الخانة أو الملاء

الر هو عايس فيه اسم ايه

