






التاريخ: / / العدد واحد (١)

هيا صديقي نصل العدد بالمجموعة المناسبة :



هيا صديقي نلون همثارو واحد :



والآن لنكتب العدد واحد ١ بخط مرتب :

واحد	١	١	١	١	١
واحد	١	١	١	١	١





التاريخ: / / العدد اثنان (٢)

هيا صديقي نصل العدد بالمجموعة المناسبة:



٢



والآن هيا صديقي نلون العدد ٢:

٢

٢

٢

٢

٢

والآن لنكتب العدد اثنان ٢ بخط مرتب:



اثنان	٢	٢	٢	٢	٢
اثنان	٢	٢	٢	٢	٢




العدد ثلاثة (٣)

التاريخ: / /

هيا صديقي نصل العدد بالمجموعة المناسبة :



٣



والآن هيا صديقي نلون العدد ٣ :

٣ ٣ ٣ ٣

والآن لنكتب العدد ثلاثة ٣ بخط مرتب :

ثلاثة	٣	٣	٣	٣	٣
ثلاثة	٣	٣	٣	٣	٣





العدد أربعة (٤)

التاريخ: / /

هيا صديقي نصل العدد بالمجموعة المناسبة :



٤



والآن هيا صديقي نلون العدد ٤:

٤

٤

٤

٤

والآن لنكتب العدد أربعة ٤ بخط مرتب :

أربعة	٤	٤	٤	٤	٤
أربعة	٤	٤	٤	٤	٤





هيا صديقي نصل العدد بالمجموعة المناسبة :



هيا صديقي نلون العدد ستة



والآن لنكتب العدد ستة ٦ بخط مرتب :

ستة	٦	٦	٦	٦	٦
ستة	٦	٦	٦	٦	٦



هيا صديقي نصل العدد بالمجموعة المناسبة :



والآن هيا صديقي
نلون العدد ٧:


والآن لنكتب العدد سبعة ٧ بخط مرتب :

سبعة	٧	٧	٧	٧	٧
سبعة	٧	٧	٧	٧	٧





هيا صديقي نصل العدد بالمجموعة المناسبة :



والآن هيا صديقي
نلون العدد ٨ :

والآن لنكتب العدد ثمانية ٨ بخط مرتب :

ثمانية	٧	٨	٨	٨	٨
ثمانية	٨	٨	٨	٨	٨



هيا صديقي نصل العدد بالمجموعة المناسبة:



٩



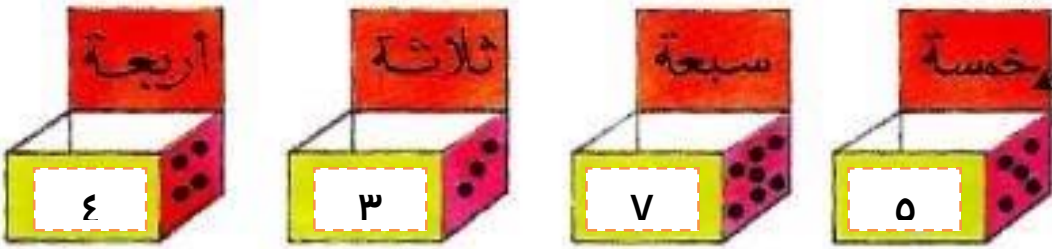
والآن هيا صديقي
نلون العدد ٩:

والآن لنكتب العدد تسعة ٩ بخط مرتب:

تسعة	٩	٩	٩	٩	٩
تسعة	٩	٩	٩	٩	٩

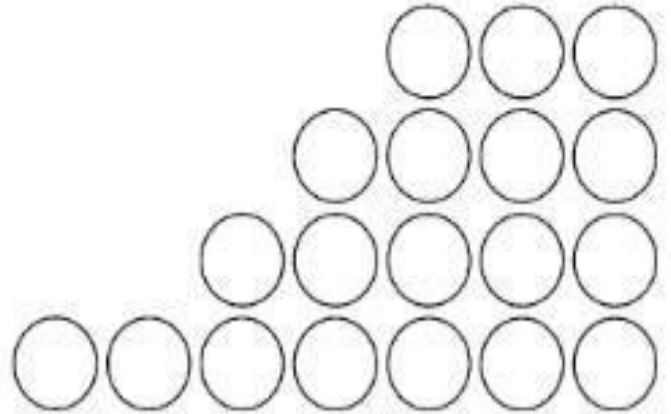


أَصِلْ كُلَّ كَيْسٍ بِالصَّنْدُوقِ الْمُنَاسِبِ :



أَلْحِظْ الْجَدْوَلَ وَأَلْوَنُ الْأَقْرَاصَ :

٠	٤	٥	٧	٣



أَكْمَلْ :

العدد الذي قبله	
٨	
٢	
٨	
٦	

العدد الذي بعده	
	٧
	٦
	٤
	٨



أَكْمَلْ :



٨		ثَلَاثَةٌ
٥		ثَمَانِيَةٌ
٩		سَبْعَةٌ
٧		خَمْسَةٌ
٣		تِسْعَةٌ






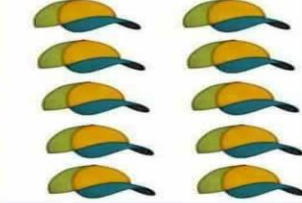
اكتب اشارة
أكبر بخط
جميل <

<	<	<	<

أصل بين عناصر المجموعتين ثم أضع علامة (X) تحت المجموعة التي عناصرها أكثر

		
<	=	>
		
<	=	>


هيا صديقي نصل بين
الصورة الأكبر مع اشارة

<


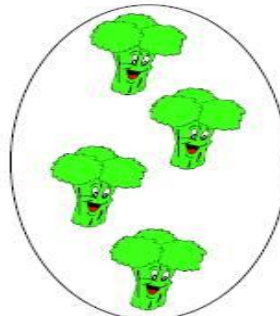



اكتب اشارة
أصغر بخط
جميل >

>	>	>	>


هيا أصدقائي نلون المجموعة الأصغر



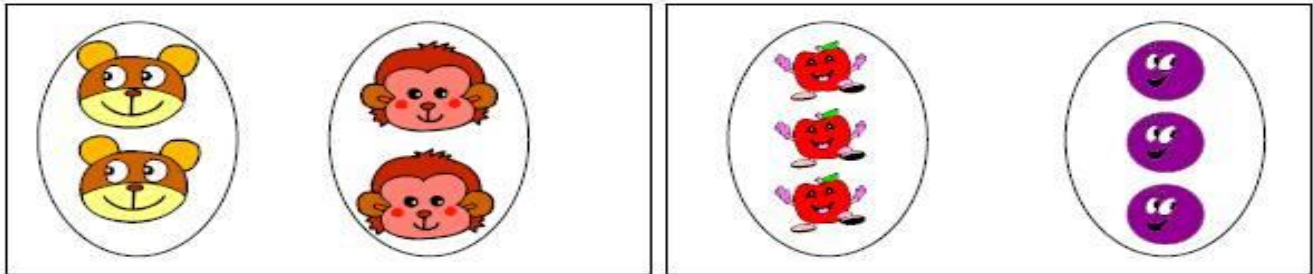
أصل بين عناصر المجموعتين ثم أضع علامة (X) تحت المجموعة التي عناصرها أقل:-



هيا نلون صديقي الصور المتساوية (=)



الوصل بخط بين عناصر المجموعتين للتحقق من ان عدد عناصر المجموعتين المتقابلتين متساو:-



رسم ليصبح عدد عناصر المجموعتين المتقابلتين متساو:-

