

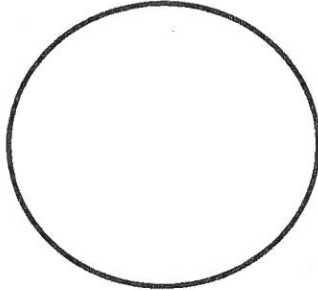
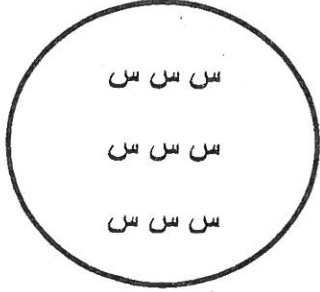


اختبار نصف الفصل الدراسي الأول  
في مادة الرياضيات للصف الأول الأساسي


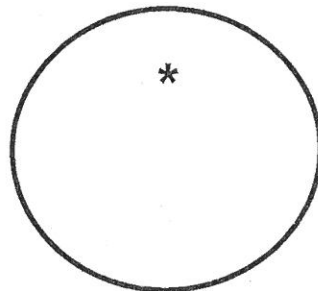
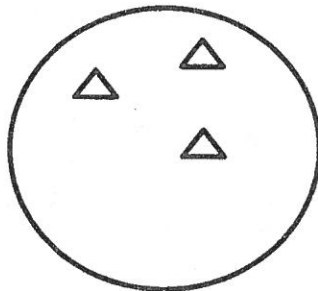
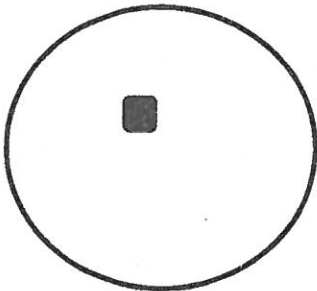
موقع ملتقى تعليم فلسطين

اسم الطالب : ..... الصف : ..... العلامة .....



السؤال الأول : اكتب العدد المناسب :



السؤال الثاني : أكمل الرسم



السؤال الثالث : أكمل متتالية الأعداد



٨ ٩

٥ ٣

السؤال الرابع : حوِّط العدد الأصغر :

٤ ٠

٦ ٧

حوِّط العدد الأكبر :

السؤال الخامس : رتب تصاعدياً ( من الأصغر إلى الأكبر )

٣

٥

٧

.....

رتب تنازلياً ( من الأكبر إلى الأصغر )

٤

٩

٦

.....

السؤال السادس : ضع إشارة < أو > أو =

٢  ٦

ثمانية  ٨

٧  ٩

■ ■ ■ ■  ٤

٦

٤

السؤال السابع : اكتب العدد التالي :

٩

٧

اكتب العدد السابق :

٣  ١

٥  ٧

اكتب العدد الواقع بين عددين :

السؤال الثامن : لون حسب الترتيب

○ ○ ○ ○ ○ ○ ○ ○ الدائرة الخامسة

□ □ □ □ □ □ □ □ المربع الثامن

△ △ △ △ △ △ △ △ المثلث الثالث