

الدرجة





امتحان نصف الفصل الأول في مادة الرياضيات للصف الأول الأساسي

اسم الطالب:



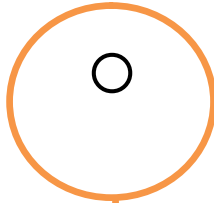
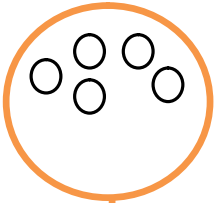


السؤال الأول: (ثماني علامات)

أ- أكتب عدد العناصر في كل مجموعة:



ب - أكمل رسم العناصر بحسب العدد المطلوب:



السؤال الثاني: (علامتان)

ب- أضع دائر حول أصغر عدد:

٩	٧	٤
---	---	---

أ- أضع دائر حول أكبر عدد:

٣	٦	٢
---	---	---

السؤال الثالث: (أربع علامات)

ب- أكتب العدد السابق:

أ- أكتب العدد التالي:

٣		٥		٤		٢	
٩		٧		٨		٦	

السؤال الرابع: أكمل المتتالية بالأعداد الناقصة: (علامتان)

٩ ○ ٧ ○ ٥ ○ ○ ٢ ○ ١

السؤال الخامس: أضع إشارة (✓) أمام العبارة الصحيحة و إشارة (✗) أمام العبارة الخطأ (خمس علامات)

١- () العدد التالي للخمسة هو (٦)

٢- () العدد السابق للثمانية هو (٧)

٣- () العدد الذي يقع بين الثلاثة و الخمسة هو (٢)

٤- () أول يوم في الأسبوع هو يوم الأحد

٥- () اليوم التالي ليوم الخميس هو (الجمعة)



السؤال السادس: (علامتان)

ب- أرتب الأعداد تنازلياً:

٦	٨	٢

أ- أرتب الأعداد تصاعدياً:

٥	٧	٤

السؤال السابع: أضع إشارة < أو > أو = في ○ : (ثلاث علامات)

٨ ○

○

٧

٦ ○

○

٩

١١ ○

○

٦

خمسة ○

○

ثلاثة

اثنان ○

○

٢

٤ ○

○

□□□□

السؤال الثامن: أضع دائرة حسب المطلوب: (ثلاث علامات)



التلفون الثالث:



الرسالة الخامسة:

جاموس

الحرف الرابع:

السؤال الثامن: أكتب رمز العدد: (علامتان)

واحد

تسعة

ثلاثة

خمسة



أطيب الأمنيات بالنجاح و التوفيق