


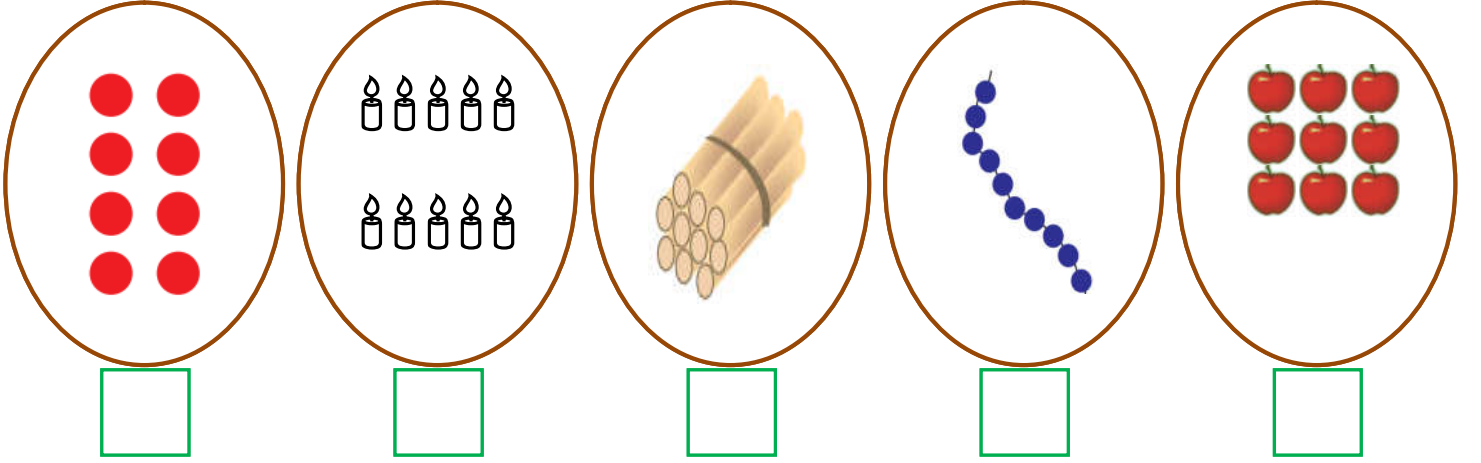



(((الوحدة السادسة)))

ورقة عمل (١) في مادة الرياضيات (الدرس الثاني العدد ١٠ و مكوناته) للصف الأول الأساسي

أعد العناصر و أكتب العدد المناسب:



أكمل متتالية الأعداد:




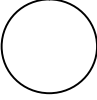
أصل بين العدد و رمزه:

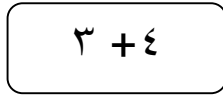
تَسْعَة	عَشْرَة	صِفْر	سَبْعَة	سِتَّة	خَمْسَة	ثَمَانِيَة
١٠	٩	٧	٥	٦	٨	٥

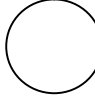
(((الوحدة السادسة)))


ورقة عمل (٢) في مادة الرياضيات (الدرس الثاني العدد ١٠ و مكوناته) للصف الأول الأساسي

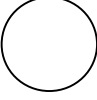
أضع إشارة (<) أو (>) أو (=) في :

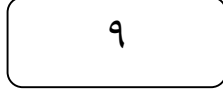
١-٩ 


٣ + ٤ 


٩ 



١٠ 


١+٨ 


٩ 


عشرة 

١٠ 


 

١٠ 

عشرة 

٩ آحاد 

أحصر من كل مجموعة ١٠ عناصر:



أكتب مكونات العدد ١٠ :

١٠ = <input type="text"/> + <input type="text"/>	١٠ = <input type="text"/> ١ + <input type="text"/> ٩
١٠ = <input type="text"/> + <input type="text"/>	١٠ = <input type="text"/> + <input type="text"/>
١٠ = <input type="text"/> + <input type="text"/>	١٠ = <input type="text"/> + <input type="text"/>
١٠ = <input type="text"/> + <input type="text"/>	١٠ = <input type="text"/> + <input type="text"/>
١٠ = <input type="text"/> + <input type="text"/>	١٠ = <input type="text"/> + <input type="text"/>

(((الوحدة السادسة)))

ورقة عمل (٣) في مادة الرياضيات (الدرس الثاني العدد ١٠ و مكوناته) للصف الأول الأساسي

اشترت تالا حقيبة بـ ٧ قروش و لعبة بـ ٣ قروش. كم قرشاً دعت تالا للبائع؟

الحل:.....

زرع فلاح ١٠ شجرات في الصباح و ٥ شجرات في المساء. كم يزيد عدد الشجرات التي زرعها الفلاح في الصباح عن التي زرعها في المساء؟

الحل:.....

معي ١٠ أقلام أعطيت أختي ٣ أقلام. كم قلماً بقي معي؟

الحل:.....

بستان به ثلاث وردات حمراء و أربع وردات بيضاء و ثلاث وردات صفراء. كم عدد الوردات في البستان؟

الحل:.....

معي مجموعة بالونات و أعطاني أخي ٤ بالونات فأصبح معي ١٠ بالونات. كم بالوناً كان معي؟

الحل:.....

أصل بين المعادلة و ما يناسبها:

٩ آحاد + ١ آحاد

٩

٩ + ١

٩ آحاد + ٠

١٠

٩ - ١

١٠ - ٢

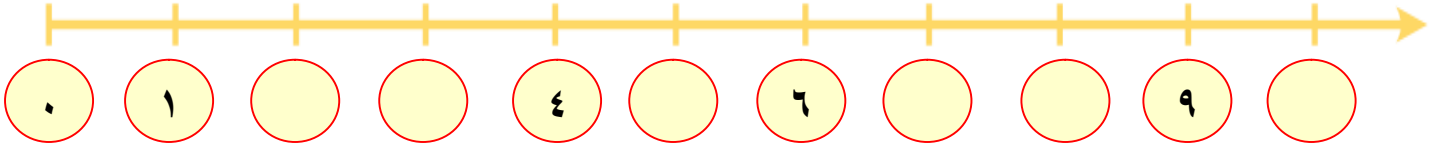
٨

١٠ - ١

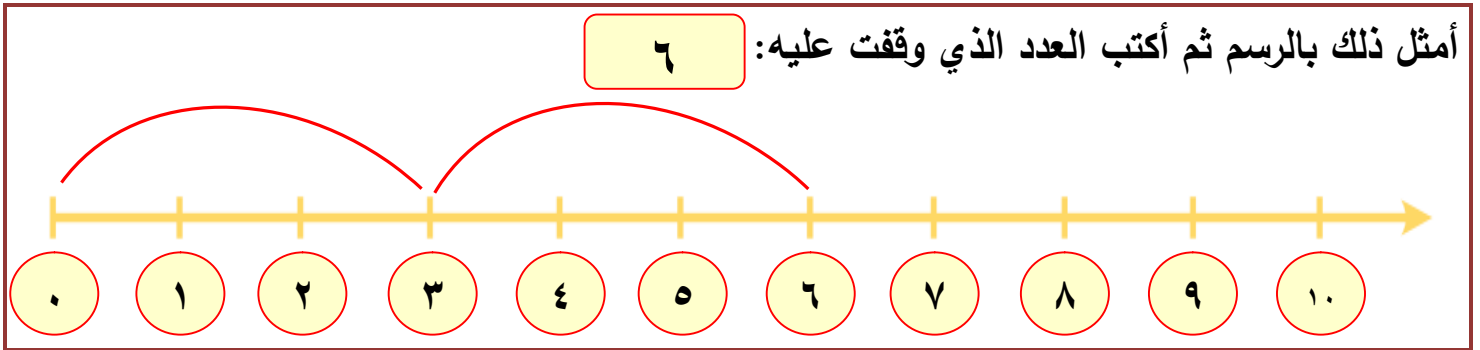
(((الوحدة السادسة)))

ورقة عمل (١) في مادة الرياضيات (الدرس الثالث - العدد ١٠ و مكوناته) للصف الأول الأساسي

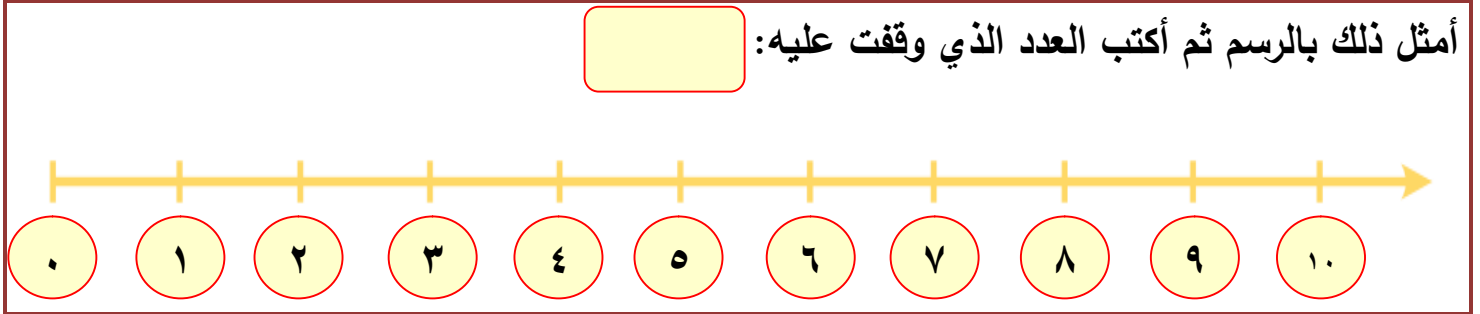
أكمل الخط بالأعداد الناقصة:



مثال: مشيت ثلاث خطوات بدءاً من العدد ٠ ، ثم مشيت ٧ خطوات.



مشيت خطوتين بدءاً من العدد ٣ ، ثم مشيت أربع خطوات.



تقف ديما على العدد ٨ إذا رجعت ثلاث خطوات للخلف ثم رجعت خطوتين.

