

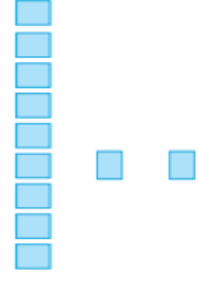
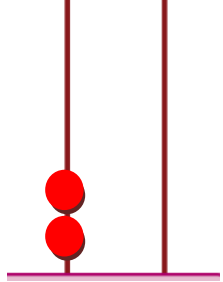
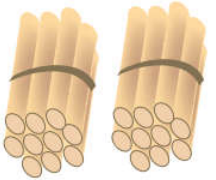


(( ( الوحدة السادسة ) ))

ورقة عمل ( ١ ) في مادة الرياضيات ( الدرس الخامس - العدد ٢٠ و مكوناته ) للصف الأول الأساسي

أكتب عدد الآحاد و العشرات ثم أكتب العدد الدال على المجموعة:

									
عشرات	آحاد	عشرات	آحاد	عشرات	آحاد	عشرات	آحاد	عشرات	آحاد





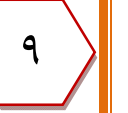
\*\*\*\*\*

أكمل المتتاليات بالأعداد الناقصة:





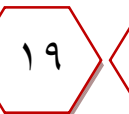
	١٩		١٧		١٤		١٢		٩		٦	٥
٥			٨		١١		١٣		١٦		١٩	٢٠

\*\*\*\*\*

أكتب العدد التالي:

				
---	---	---	---	---

أكتب العدد السابق:

				
--	---	---	--	---

أكتب العدد الواقع بين العددين:



								
---	---	---	---	---	--	---	---	---

(( ( الوحدة السادسة ) ))

ورقة عمل ( ٢ ) في مادة الرياضيات ( الدرس الخامس - العدد ٢٠ و مكوناته ) للصف الأول الأساسي

أكتب العدد المناسب:

٢٠

٢٠

٢٠

٢٠

٠

١٠

١٩

١٢

\*\*\*\*\*

أكتب مكونات العدد ( ٢٠ ) :

٢٠

٢٠

٢٠

٢٠

٢٠

٢٠

٢٠

٢٠

\*\*\*\*\*

أكمل الأنماط التالية:

\_\_\_\_\_ ، \_\_\_\_\_ ، ١٤ ، ١٢ ، ١٠

\_\_\_\_\_ ، \_\_\_\_\_ ، ١٣ ، ١١ ، ٩

\_\_\_\_\_ ، \_\_\_\_\_ ، ٩ ، ٦ ، ٣

\_\_\_\_\_ ، \_\_\_\_\_ ، ١٢ ، ١٦ ، ٢٠

