

مدرسة المأمونية الابتدائية المشتركة (أ)
ورقة عمل تقييمية (١) نهاية الفصل الدراسي الأول
للسف الأول الأساسي للعام الدراسي ٢٠١٨-٢٠١٩ م

الصف: -----

موقع الميار التعليمي
www.mayar-edu.net

المادة: التربية الإسلامية اسم الطالب: -----

السؤال الأول: أكمل الحديث الشريف:

(لنفسه ، يؤمن ، يحب)

قال رسول الله صلى الله عليه وسلم:

لا ----- أحكم حتى ----- لأخيه ما يحب -----

السؤال الثاني: ضع إشارة (✓) أو إشارة (x) أمام العبارات الآتية:



()

(١) أتعلم العلوم النافعة في المدرسة.

()

(٢) أزور جاري إذا مرض.

()

(٣) الحديث الشريف كلام الرسول.

()

(٤) عدد آيات سورة الناس خمسة.

()

(٥) الوسواس الخناس هو الشيطان.

السؤال الثالث: حاكم السلوكيات الآتية:

(-----)

(١) فادي يضع القمامة أمام بيت جاره.

(-----)

(٢) تلميذ يستمع لحديث معلمته.

(-----)

(٣) تلميذ يضحك عند تلاوة القرآن.

(-----)

(٤) تلميذ يساعد زميله في فعل الخير.

مدرسة المأمونية الابتدائية المشتركة (أ)
ورقة عمل تقييمية (٢) نهاية الفصل الدراسي الأول
للصف الأول الأساسي للعام الدراسي ٢٠١٨-٢٠١٩ م

المادة: التربية الإسلامية اسم الطالب: _____ موقع الميار التعليمي
www.mayar-edu.net الصف: _____

السؤال الأول: ضع إشارة (✓) أو إشارة (x) أمام العبارات الآتية:



- (١) إذا تحدث معلمي أسمعته.
(٢) استخدم أبرهة الأسد في هدم الكعبة.
(٣) أحب معلمي ومعلمتي.
(٤) استطاع جيش أبرهة هدم الكعبة.
(٥) أهلك الله أبرهة وجيشه.

السؤال الثاني: صل العمود (أ) بما يناسبه من العمود (ب):

العمود (ب)	الرقم	العمود (أ)	
أبرهة الأشرم	()	عدد آيات سورة الفيل	١-
مكة	()	المعلم يعلمنا العلوم	٢-
خمسة	()	حمى الله الكعبة من جيش	٣-
جهنم	()	توجد الكعبة في	٤-
النافعة	()	رمت الطيور جيش أبرهة بحجارة من	٥-

السؤال الثالث: اختر الإجابة الصحيحة مما يلي:

- (١) معنى كلمة سجيل: (نار ، ماء ، فيل)
(٢) العصف المأكول هو ورق الشجر: (الأخضر ، اليايس ، الملون)

مدرسة الأمونيّة الابتدائيّة المشتركة (أ)

المادة: اللغة العربيّة ورقة عمل (١)


موقع الميار التعليمي
www.mayar-edu.net

اليوم والتاريخ / -----

السؤال الأول: حوِّط ما تسمع من المعلّمة:

- ١- عازف - عادل - عامر - عالم
٢- عشب - عش - شعب - شمع
٣- بشير - شريف - شديد - نشيد

السؤال الثاني: ركب:



السؤال الثالث: أكمل بشكل الحرف المناسب:

ش ش ش ش ش

مشم ___	فرا ___
م ___ روع	مع ___

ع ع ع ع ع

مسد ___ ود	___ سل
دمو ___	جام ___

السؤال الرابع: أكمل بمقطع المدّ المناسب:

شي	عي	عا	شو
----	----	----	----

(١) مند ___ ر (٢) مل ___ (٣) را ___ (٤) ن ___ د

السؤال الخامس: كوّن كلمات لها معنى:

(ع ل م) ----- و ----- (ش ر ب) ----- و -----

إعداد / لجنة الصف الأول

موقع الميار التعليمي
www.mayar-edu.net

مدرسة المأمونية الابتدائية المشتركة (أ)

المادة: اللغة العربية ورقة عمل (٢)

اليوم والتاريخ / -----

موقع الميار التعليمي
www.mayar-edu.net

السؤال الأول: حوِّط الكلمة المخالفة

- ١- مصير - مصير - مصير - نصير
٢- بريق - فريق - فريق - فريق

السؤال الثاني: أكمل بالمقطع المناسب كما تسمع من المعلمة:

- (١) ن _ د (٢) ل _ ح (٣) د _ ق

السؤال الثالث: اضبط حركة الحرف المطلوب

- (١) سِيِق (٢) قِلب (٣) صِعب (٤) مِصباح

السؤال الرابع: صل المقاطع الآتية:

- (١) صوت مت -----
(٢) صا ص -----
(٣) قا قير -----
(٤) ف سم -----

السؤال الخامس: حلّل:

قروش

--	--	--	--	--

نصوص

--	--	--	--	--

حقوق

--	--	--	--	--

مدرسة المأمونية الابتدائية المشتركة (أ)

ورقة عمل (٣)

المادة: اللغة العربية

اليوم والتاريخ / -- موقع الميار التعليمي
www.mayar-edu.net



السؤال الأول: حل الكلمات إلى حروفها:

(١) ثالث

(٢) مخلص

السؤال الثاني: أكمل بشكل الحرف المناسب:

(خ ، خ)

(ث ، ث)

محرا__ / لِي__ / وم__ / لود__ / نس__ / فرا__

السؤال الثالث: أكمل بالمقطع المناسب كما تسمع من المعلمة

(١) __ لد (٢) من__ ر

(٣) __ ران (٤) ن__ ل

السؤال الرابع: ركب:

(١) (خ ا ت م) ----- (٢) (م ث ا ل) -----

السؤال الخامس: رتب الكلمات لتكون جملاً مفيدة:

جميل * * خلود * * خاتم

السؤال السادس: كوّن من الحروف الآتية كلمات مفيدة:

(ث ، خ ، ع ، ن ، ي ، ل ، م ، د ، و ، ا)

----- (١) ----- (٢) -----

----- (٣) ----- (٤) -----

موقع الميار التعليمي
www.mayar-edu.net

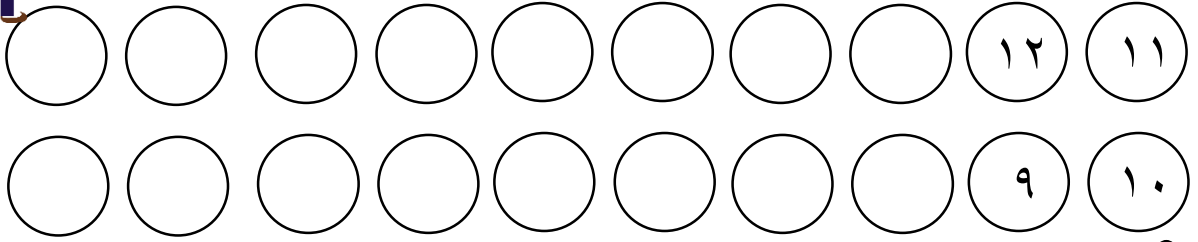
مدرسة المأمونية الابتدائية المشتركة (أ)

ورقة عمل (١)

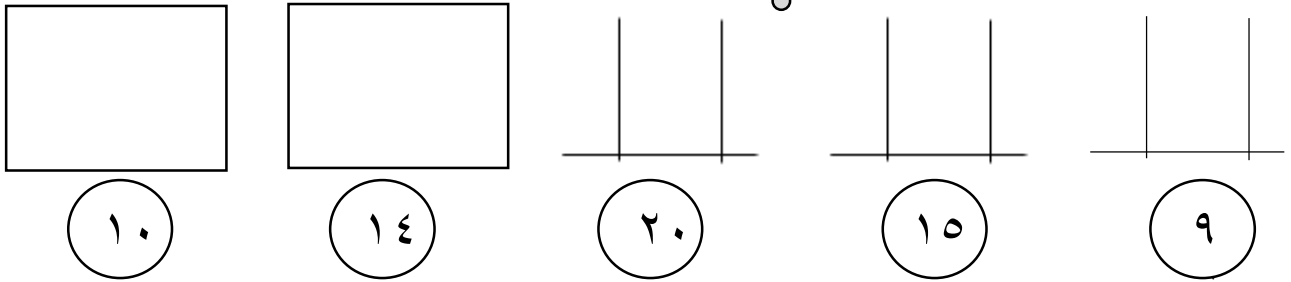
المادة: الرياضيات

اليوم والتاريخ /

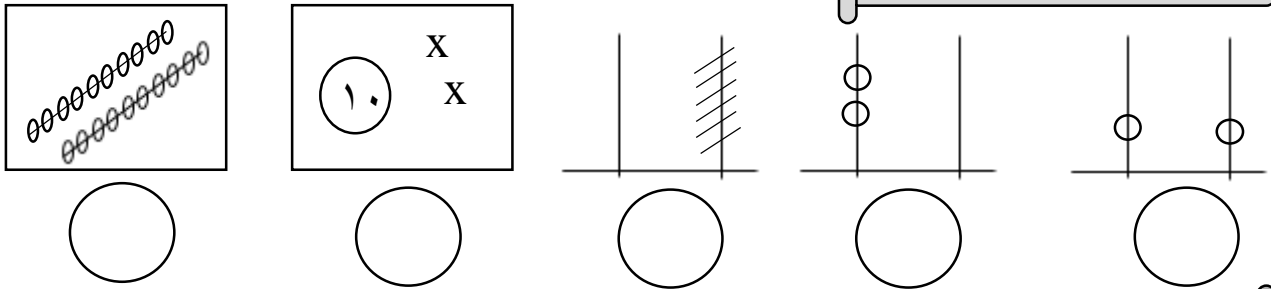
السؤال الأول: أكمل المتتالية:



السؤال الثاني: مثل بالرسم:



السؤال الثالث: اكتب العدد



السؤال الرابع: اكتب العدد المناسب

□	+	□	=	١٠	عشرات	□	+	آحاد	□	=	١٧
□	+	□	=	٢٠	عشرات	□	+	آحاد	□	=	٢٠
□	+	١٥	=	٢٠	عشرات	□	+	آحاد	□	=	١٣

السؤال الخامس: صل العدد بلفظه:

٢٠

اثنا عشر

١٥

سبعة عشر

١٢

خمسة عشر

١٧

عشرون



مدرسة المأمونية الابتدائية المشتركة (أ)
ورقة عمل تقييمية نهاية الفصل الدراسي الأول
للفصل الأول الأساسي للعام الدراسي ٢٠١٨-٢٠١٩ م
(وحدة القياس)

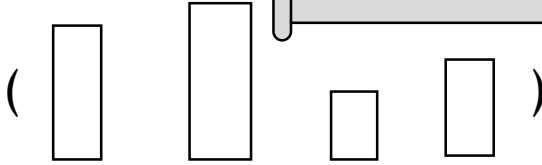
اليوم والتاريخ: -----

موقع الميار التعليمي
www.mayar-edu.net

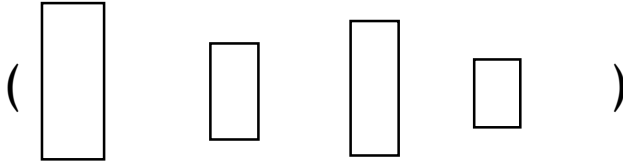
المادة: الرياضيات

السؤال الأول: ارسم دائرة حول الإجابة الصحيحة:

(١) أطول الأعمدة:



(٢) أقصر الأعمدة:



(٣) عدد أيام الأسبوع:

(ستة أيام - سبعة أيام - خمسة أيام)

(٤) اليوم السابق ليوم الجمعة هو: (الخميس - السبت - الأحد)


(٥) اليوم التالي ليوم الأحد هو: (السبت - الاثنين - الثلاثاء)

السؤال الثاني: أكمل


الخميس ، الأحد ، الثلاثاء

السبت ----- الاثنين ----- الأربعاء ----- الجمعة

السؤال الثالث:



كم الساعة الآن؟



الساعة ٩

ارسم عقربي الساعة


مدرسة الأمونيّة الابتدائيّة المشتركة (أ)

المادة: الرياضيات ورقة عمل (٣)

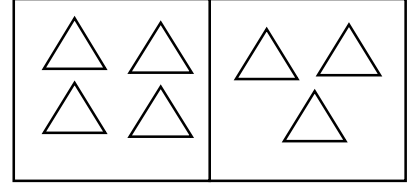
موقع الميار التعليمي
www.mayar-edu.net

اليوم والتاريخ / -----

السؤال الأول: أعبّر عن الرسم بمعادلة جمع أو طرح:



$$\square = \square - \square$$



$$\square = \square + \square$$

السؤال الثاني:

ب- أجد ناتج الطرح:

$$\begin{array}{r} 7 \\ - 4 \\ \hline \square \end{array} \quad \begin{array}{r} 9 \\ - 6 \\ \hline \square \end{array} \quad \begin{array}{r} 8 \\ - 2 \\ \hline \square \end{array}$$

أ- أجد ناتج الجمع:

$$\begin{array}{r} 5 \\ + 0 \\ \hline \square \end{array} \quad \begin{array}{r} 3 \\ + 3 \\ \hline \square \end{array} \quad \begin{array}{r} 5 \\ + 2 \\ \hline \square \end{array}$$

السؤال الثالث: أضع إشارة < أو > أو = :

$$5 \bigcirc 1 + 1$$

$$2 - 5 \bigcirc 1 + 2$$

$$3 - 4 \bigcirc 4 + 3$$

$$\triangle \triangle \bigcirc 1 + 1$$



السؤال الرابع: اكتب العدد المناسب:

$$\square = 4 + 4$$

$$7 = \square + 4$$

$$2 = \square - 6$$

$$\square = 6 + 0$$

$$\square = 4 + 5$$

$$2 = 3 - \square$$

السؤال الخامس:

أكوّن من مجموعة الأعداد جملة جمع وجملة طرح:

(٥ ، ٦ ، ٤ ، ٩)

$$\bigcirc = \bigcirc + \bigcirc$$

$$\bigcirc = \bigcirc - \bigcirc$$

السؤال السادس:

١) مع راما ٨ قروش، اشترت حقيبة بـ ٣ قروش، كم قرشاً بقي مع راما؟

$$\square = \square - \square \quad \text{الحل/}$$

٢) مزرعة بها ٤ بقرات و ٣ خراف، كم مجموع الحيوانات في المزرعة؟

$$\square = \square + \square \quad \text{الحل/}$$

مدرسة المأمونية الابتدائية المشتركة (أ)
ورقة عمل تقييمية في مادة التربية الوطنية والحياتية للصف الأول الأساسي
شهر ديسمبر (الفصل الأول) للعام الدراسي ٢٠١٨-٢٠١٩ م

موقع الميار التعليمي
www.mayar-edu.net

اليوم والتاريخ / -----



السؤال الأول: أضع إشارة (✓) أو إشارة (X) أمام العبارات الآتية:

- () (١) الماء من المكونات البيئية غير الحية.
() (٢) أستطيع أن أمسك بخار الماء بيدي.
() (٣) الهواء يُحرك الأجسام.
() (٤) تتكون البيئة من مكونات حية وغير حية.
() (٥) الجبل مسطح مائي كبير.

السؤال الثاني: أضع دائرة حول الإجابة الصحيحة

- (١) من الحالات الصلبة للمادة: (العصير ، الجبل ، الغاز)
(٢) أرض قليلة الماء والنبات هي: (السهل ، الوادي ، الصحراء)
(٣) الهواء ضروري لـ: (الإنسان ، الحيوان ، جميع ما سبق)
(٤) أرض منبسطة خصبة هي: (السهل ، الوادي ، الجبل)
(٥) من الحالات السائلة للمادة: (القلم ، بخار الماء ، القهوة)

السؤال الثالث: من أكون؟

في كل مكان تلقاه تتنفسه ولا نراه ويُحرك لنا الأشياء؟ -----

(الماء) ** الهواء ** (التراب)

مدرسة المأمونية الابتدائية المشتركة (أ)
ورقة عمل (٢) للصف الأول في مادة التربية الوطنية والحياتية

موقع الميار التعليمي
www.mayar-edu.net

اليوم والتاريخ / -----



السؤال الأول: أضع إشارة (✓) أو إشارة (x) أمام العبارات الآتية:

- (١) يوجد المسجد الأقصى في بيت لحم. ()
- (٢) التربة الطينية أقل احتفاظاً بالماء. ()
- (٣) لون التربة الرملية أصفر. ()
- (٤) البيوت الحديثة مبنية من الحجارة. ()
- (٥) رجل يلقي نفايات المصنع في النهر. ()

السؤال الثاني: اكتب رقم العبارة من العمود (أ) بما يناسبها من العمود (ب):

العمود (ب)	الرقم	العمود (أ)	
أريحا	()	تشتهر بصناعة الزجاج	١ -
الخليل	()	يوجد قصر هشام في مدينة	٢ -
الرمل	()	لمس التربة الرملية	٣ -
الماء	()	نصنع الزجاج من	٤ -
ناعم	()	ليس له طعم ولا رائحة ولا لون	٥ -

السؤال الثالث: من أكون؟

أزل من الغيوم أسقي الزرع والأشجار، فمن أكون؟

(الماء * * التراب)