

(( ( الوحدة السادسة )))

ورقة عمل ( ١ ) في مادة الرياضيات ( الدرس الرابع - الأعداد من ١١ - ١٩ ) للصف الأول الأساسي

أكتب عدد الآحاد و العشرات ثم أكتب العدد الدال على المجموعة:

عشرات	آحاد	عشرات	آحاد	عشرات	آحاد	عشرات	آحاد	عشرات	آحاد
								١	٠
								١٠	

\*\*\*\*\*

أكتب عدد الآحاد و العشرات ثم أكتب العدد الدال على المجموعة:

عشرات	آحاد	عشرات	آحاد	عشرات	آحاد	عشرات	آحاد

\*\*\*\*\*

أكمل الأعداد الناقصة:

٠	١	٢	٣	٤	٥	٦	٧	٨	٩	١٠								
---	---	---	---	---	---	---	---	---	---	----	--	--	--	--	--	--	--	--

(( ( الوحدة السادسة ) ))

ورقة عمل ( ٢ ) في مادة الرياضيات ( الدرس الرابع - الأعداد من ١١ - ١٩ ) للصف الأول الأساسي

أكمل رسم العناصر بحسب العدد المطلوب:

١٦	١٩	١٨	١٥	١١

\*\*\*\*\*

أنشر الأعداد التالية إلى آحاد و عشرات:

عشرات	١	+	آحاد	١	=	١١
عشرات		+	آحاد		=	١٢
عشرات		+	آحاد		=	١٣
عشرات		+	آحاد		=	١٤
آحاد		+	عشرات		=	١٩
آحاد		+	عشرات		=	١٧
آحاد		+	عشرات		=	١٨

\*\*\*\*\*



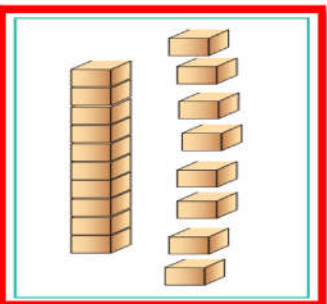
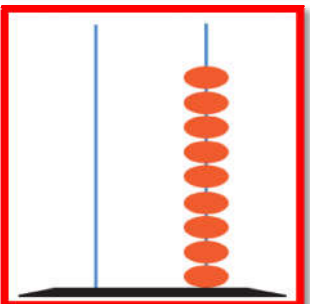
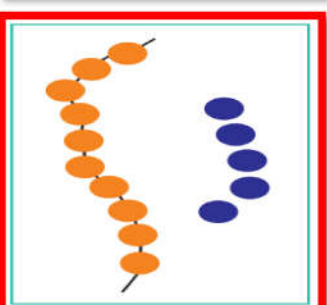
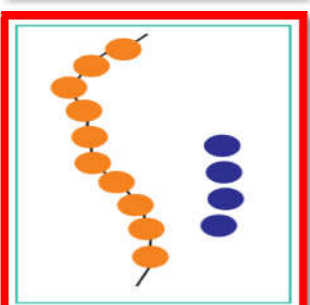
أكمل بحسب النمط:

..... + ..... = ١٦	١٠ + ٨ = ١٨
..... + ..... = ١٩	..... + ..... = ١٧
..... + ..... = ١٢	..... + ..... = ١١
..... + ..... = ١٤	..... + ..... = ١٣

(( ( الوحدة السادسة ) ))

ورقة عمل ( ٣ ) في مادة الرياضيات ( الدرس الرابع - الأعداد من ١١ - ١٩ ) للصف الأول الأساسي

أصل المجموعة بالعدد المناسب لها:

	١٣	
	١٦	
	١٩	
	١٨	
	١٥	

\*\*\*\*\*

أمثل الأعداد التالية على المعداد:

١٦	١٥	١٠	٨
----	----	----	---

\*\*\*\*\*

أكتب رمز العدد:

أحد عشر	اثنا عشر	أربعة عشر	ستة عشر
ثلاثة عشر	تسعة عشر	ثمانية عشر	خمسة عشر