

الصف / الثاني

امتحان في الوحدة

المادة / الرياضيات

الخامسة



السؤال الأول :- أتناول الصورة ثم أكل الجدول

الشكل	العدد
مثلث	□
دائرة	□
مربع	□
مستطيل	□

السؤال الثاني :-

قرأت أصل لا قصة وقرأت سواح ه قصة وقرأت أصل

قصة وقرأت عماد ٣ قصة مثل البيانات السابقة في جدول

بحيث كل □ تمثل قصة

عدد القصة

اسم الطالب

أصل





سواح


①

أحمد

عماد

السؤال الثالث: صنف المعلم طلاب صفه حسب درجته
في امتحان العلوم فكانت النتائج كالآتي

عدد الأولاد	العلامة
	٢٠
	١٨
	١٦
	١٠

كل  يمثل طالبين أو أكثر

عدد الأولاد الذين حصلوا على العلامة (٢٠) _____

عدد الطلاب الذين حصلوا على العلامة (١٦) _____

أقل علامة للطلاب هي _____

مجموع الطلاب الذين حصلوا على أعلى علامة وأقل علامة _____