



مادة إثرائية في مبحث الرياضيات

إعداد وتنسيق

- أ. آلاء قويدر
أ. حنان الحاج
أ. نجوى أبو غنيمة
أ. ايمان شقلية
أ. ممدوح الجيار
أ. هبة حجاج

تحت إشراف

- أ. سرين أبو عيشة
أ. رائد عبد العال
أ. ابتسام اسليم
أ. نبيل سلمن

الوحدة الرابعة

السؤال الأول : أكمل الفراغات التالية :-

- (١) _____ هي زاوية يتحدد اتجاهها باتجاه دوران ضلع الابتداء حتي ينطبق فوق ضلع الانتهاء .
- (٢) _____ هي زاوية رأسها في نقطة الأصل وضلع الابتداء لها فوق محور السينات الموجب .
- (٣) _____ هي زاوية قياسية يقع ضلع انتهائها فوق أحد المحورين الاحداثيين .
- (٤) يكون قياس الزاوية _____ إذا دار ضلع ابتداء الزاوية في اتجاه عكس عقارب الساعة ،
ويكون القياس _____ إذا دار ضلع الابتداء في اتجاه مع عقارب الساعة .
- (٥) _____ هو الضلع الذي يحدد في أي ربع تقع الزاوية .
- (٦) يتم تقسيم الأرباع في المستوي الديكارتي في اتجاه _____ عقارب الساعة .
- (٧) إذا كانت ه زاوية في الوضع القياسي وكانت $180^\circ > ه > 270^\circ$ فإن ضلع انتهائها يقع في الربع _____
- (٨) الزاوية 120° تقع في الربع _____ بينما الزاوية -120° تقع في الربع _____
- (٩) الزاوية 390° تقع في الربع _____ بينما الزاوية 720° تقع في الربع _____
- (١٠) _____ هو الضلع الذي تبدأ منه الزاوية بالدوران .
- (١١) _____ هو الضلع الذي تنتهي عنده الزاوية بالدوران .
- (١٢) الزوايا 90° ، -180° تعد زوايا _____
- (١٣) _____ هي السرعة الناتجة عن حركة الجسم في مسار دائري .
- (١٤) وحدة قياس الزاوية في النظام الستيني هي _____ بينما في النظام الدائري هي _____
- (١٥) الزاوية $42,7^\circ$ بالدرجات والدقائق تساوي _____
- (١٦) الزاوية $36^\circ 12' 32''$ تساوي بالدرجات _____
- (١٧) _____ هو قياس الزاوية بالدرجات والدقائق والثواني .
- (١٨) _____ هي زاوية مركزية في دائرة تقابل قوساً طوله يساوي طول نصف قطر دائرته .
- (١٩) الزاوية 120° تعادل بالتقدير الدائري _____ بينما الزاوية -225° تعادل _____
- (٢٠) الزاوية $\frac{\pi}{4}$ تعادل بالتقدير الستيني _____ بينما الزاوية $2,5^\circ$ تعادل _____
- (٢١) _____ هي زوايا لها نفس ضلع الابتداء ونفس ضلع الانتهاء .
- (٢٢) الزوايا 40° ، 400° ، 760° ، -320° هي زوايا _____
- (٢٣) دراجة هوائية نصف قطر عجلتها 50 م ، تسير بسرعة خطية مقدارها 40 كم/ساعة ،
فإن معدل تغير الزاوية المركزية لعجلة الدراجة في الدقيقة يساوي _____
- (٢٤) الزاوية الموجبة المكافئة للزاوية $\frac{\pi}{6}$ هي _____ بينما الزاوية السالبة المكافئة للزاوية -300° هي _____
- (٢٥) حركة الأرض حول الشمس تتخذ اقتراناً _____
- (٢٦) _____ هي دائرة مركزها نقطة الأصل ونصف قطر دائرتها وحدة واحدة .

(٢٧) إذا قطع ضلع انتهاء الزاوية هـ في الوضع القياسي دائرة الوحدة في النقطة أ $(\frac{1}{2}, \frac{\sqrt{3}}{2})$ فإن

جا هـ = _____ ، جتا هـ = _____ ، ظا هـ = _____

قا هـ = _____ ، قتا هـ = _____ ، ظتا هـ = _____

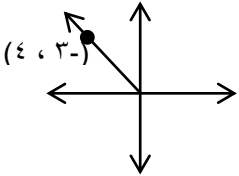
(٢٨) الاقترانات المثلثية الأساسية هي _____ ، _____ ، _____ بينما

الاقترانات المثلثية الثانوية هي _____ ، _____ ، _____

(٢٩) _____ \geq جتا هـ \geq _____ ، _____ \geq جا هـ \geq _____

(٣٠) تكون جا هـ سالبة في الربع _____ و _____ بينما ظا هـ تكون موجبة في الربع _____ و _____

(٣١) اعتمادا علي الشكل المقابل فإن قيمة



جا هـ = _____ ، جتا هـ = _____ ، ظا هـ = _____

(٣٢) جا $٥٠^\circ +$ جتا $٥٠^\circ =$ _____

(٣٣) إذا كانت جا $٥^\circ = \frac{1}{2}$ فإن قيمة جتا $٥^\circ =$ _____

(٣٤) _____ هي زاوية حادة محصورة بين محور السينات وضلع انتهاء الزاوية .

(٣٥) صورة زاوية الاسناد لزاوية تقع في الربع الأول هي _____ ، بينما صورتها عندما تقع في الربع الثاني

هي _____ ، وإذا وقعت في الربع الثالث تكون _____ ، بينما في الربع الرابع _____

(٣٦) قيمة المقدار جتا $١٣٥^\circ -$ جا $١٣٥^\circ =$ _____

(٣٧) جتا $٢^\circ =$ _____ = $١ -$ جا $٢^\circ =$ _____

(٣٨) $\frac{1}{2}$ جا $٦٠^\circ =$ _____

(٣٩) زاوية الاسناد للزاوية ٣٣٠° هي _____ بينما زاوية الاسناد للزاوية ١٦٠° هي _____

(٤٠) منحنى الاقتران ق(س) = جتا س + ٣ هو انسحاب لمنحنى الاقتران _____ بمقدار _____ وحدة باتجاه _____

(٤١) منحنى الاقتران ق(س) = جا(س - π) هو انسحاب لمنحنى الاقتران _____ بمقدار _____ وحدة باتجاه _____

(٤٢) الاقتران ص = $٣ -$ جاس انعكاس للاقتران _____ في محور _____

(٤٣) الاقتران ص = جاس + ٥ هو انسحاب للاقتران بمقدار _____ وحدة باتجاه _____

(٤٤) الاقتران ص = ٣ جتا س هو _____ للاقتران _____ بمعامل قدره _____

(٤٥) مجال الاقتران ص = جاس هو _____ بينما مداه هو _____

(٤٦) منحنى الاقتران ص = جتا س هو نفس منحنى الاقتران ص = جاس بانسحاب قدره _____ إلى _____

(٤٧) الاقتران الناتج من تكبير للاقتران ق(س) = جا س بمعامل قدره ٣ متبوعا بانسحاب وحدة للأسفل هو _____

(٤٨) منحنى الاقتران ص = جاس متماثل حول محور _____ بينما منحنى الاقتران ق(س) = جتا س متماثل حول _____

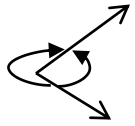
(٤٩) سعة الاقتران ص = $٤ -$ جا(٢س) - ٦ هي _____

(٥٠) دورة الاقتران ص = ٣ جتا(٥س) هي _____

(٥١) منحنى الاقتران ص = جتا(س - $\frac{\pi}{2}$) هو نفس منحنى الاقتران ق(س) = _____

- ٥٢) _____ هي معادلة بمتغير تحتوي اقتران مثلثي وتكون صائبة لجميع قيم المتغير .
- ٥٣) _____ هي جملة مفتوحة تحتوي اقتران مثلثي وتكون صائبة لبعض قيم المتغير .
- ٥٤) $س^\circ$ زاوية حادة بحيث $جاس = \frac{3}{5}$ ، فإن $جتاس =$ _____ ، $ظاس =$ _____
- ٥٥) زاوية ميل لاعب يجري بسرعة $٤٠ م/ث$ في مسار دائري نصف قطره $٨٠ م$ ، هي _____
- ٥٦) إذا كان $س^\circ + ص^\circ = ٩٠^\circ$ فإن $س$ ، $ص$ زاويتان _____
- ٥٧) إذا كان $جتا(س + ٥٠) = جاس$ حيث $٠^\circ \leq س \leq ٩٠^\circ$ ، فإن الزاوية $س =$ _____

السؤال الثاني : أختار رمز الإجابة الصحيحة فيما يلي :-



- ١) ما قيم $س$ ، $ص$ الممكنة في الشكل المقابل ؟
 (أ) ٧٠° ، ٢٩٠° (ب) ٧٠° ، ٢٩٠° (ج) ٧٠° ، ٢٩٠° (د) ٧٠° ، ٢٩٠°
- ٢) ما الربع الذي تقع فيه الزاوية ٥٠٠° ؟
 (أ) الأول (ب) الثاني (ج) الثالث (د) الرابع
- ٣) أي القياسات التالية قياس لزاوية ربعية ؟
 (أ) ١٢٠° (ب) ١٩٠° (ج) ٣٠٠° (د) ٣٦٠°
- ٤) أي القياسات الآتية ليس قياساً لزاوية ربعية ؟
 (أ) $\frac{\pi}{2}$ (ب) π (ج) $\frac{3-\pi}{2}$ (د) $\frac{2}{3}\pi$
- ٥) الزاوية $\frac{\pi}{4}$ تعادل بالتقدير الستيني الزاوية
 (أ) ١٣٥° (ب) ٤٥° (ج) ٢٢٥° (د) ٣١٥°
- ٦) أي من الزوايا التالية تكافئ الزاوية ٦٠° ؟
 (أ) ٣٠٠° (ب) ٧٩٠° (ج) ٣٠٠° (د) ٤٣٠°
- ٧) الزاوية ١٢٠° تعادل بالتقدير الدائري
 (أ) $\frac{\pi}{4}$ (ب) $\frac{\pi}{3}$ (ج) $\frac{\pi}{2}$ (د) $\frac{\pi}{4}$
- ٨) زاوية قياسها $(٠,٤٨)$ ، ما قيمة قياسها بالدرجات ؟
 (أ) $٢٧,٥^\circ$ (ب) $٨٦,٤^\circ$ (ج) $١,٥^\circ$ (د) $٤,٨^\circ$
- ٩) أي الزوايا التالية لا تكافئ الزاوية $\frac{\pi}{4}$ ؟
 (أ) $\frac{\pi}{4}$ (ب) $\frac{\pi}{4}$ (ج) $\frac{\pi}{4}$ (د) $\frac{\pi}{4}$

١٠) أي القياسات الآتية ليس قياساً لزاوية مكافئة للزاوية $\frac{\pi}{6}$ ؟

(د) $\pi \frac{7}{6}$

(ج) $\pi \frac{11}{6}$

(ب) $\pi \frac{25}{6}$

(أ) $\pi \frac{13}{6}$

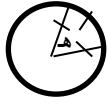
١١) الزاوية التي قياسها $\frac{\pi 49}{4}$ تكافئ الزاوية التي قياسها ؟

(د) $\frac{\pi 3}{4}$

(ج) $\frac{\pi 7}{4}$

(ب) $\frac{\pi}{4}$

(أ) $\frac{\pi 3}{4}$



(د) $\frac{\pi}{2}$

١٢) ما القياس الدائري للزاوية هـ الموضحة في الشكل المجاور ؟

(ج) $0,25^\circ$

(ب) 1°

(أ) $0,5^\circ$

١٣) أي الزوايا التالية لا تكافئ الزاوية هـ ؟

(د) $\pi 2 -$

(ج) $\pi 10 +$

(ب) $\pi 7 +$

(أ) $\pi 2 +$

١٤) أي القيم الآتية لا يمكن أن تمثل قيمة جيب زاوية ؟

(د) $2 -$

(ج) صفر

(ب) $1 -$

(أ) 1

١٥) ماذا تعادل 1° بالتقدير الستيني ؟

(د) $35,7^\circ$

(ج) $57,3^\circ$

(ب) $53,7^\circ$

(أ) $75,3^\circ$

١٦) أي الزوايا التالية لا يمكن أن تكون زاوية إسناد ؟

(د) 91°

(ج) 45°

(ب) 20°

(أ) 30°

١٧) ما قيمة ظا -54° ؟

(د) $\frac{1}{4}$

(ج) صقر

(ب) $1 -$

(أ) 1

١٨) ما قيمة جا 60° - جتا 60° ؟

(د) $\frac{3}{4} -$

(ج) $\frac{3}{4}$

(ب) $\frac{1}{4}$

(أ) $\frac{1}{4} -$

١٩) ما قيمة جا 30° + جتا 30° ؟

(د) $\frac{\sqrt{3}}{2} -$

(ج) $\frac{\sqrt{3}}{2}$

(ب) 1

(أ) $\frac{1}{4}$

٢٠) 20° جا $15^\circ -$ جتا $15^\circ =$

(د) 30° جا -

(ج) 30° جتا -

(ب) 30° جا

(أ) 30° جتا

٢١) جتا $4^\circ =$

(د) جتا 2° - جا 2° أ

(ج) جتا 2° - جا 2° أ

(ب) جا 2° أ - جتا 2° أ

(أ) جا 2° - جتا 2° أ

٢٢) ما إشارة قا 520° ؟

(د) لا يمكن تحديدها

(ج) بدون إشارة

(ب) سالبة

(أ) موجبة

٢٣) $180^\circ -$ (هـ) =

(د) - جتا هـ

(ج) - جا هـ

(ب) جا هـ

(أ) جتا هـ

$$(24) \text{ جا } (90^\circ - \text{هـ}) =$$

(أ) جاه (ب) جناه (ج) جتا(-هـ) (د) (ب+ج) معا

$$(25) \text{ جا } 15^\circ \text{ جتا } 15^\circ =$$

(أ) $\frac{\sqrt{3}}{2}$ (ب) $\frac{1}{2}$ (ج) $\frac{1}{\sqrt{2}}$ (د) $\frac{1}{4}$

(26) إذا كانت زاوية حادة ، وكان $\text{جا} = \frac{3}{5}$ فما قيمة جتا ٢ ؟

(أ) $\frac{16}{25}$ (ب) $\frac{9}{25}$ (ج) $\frac{7}{25}$ (د) $\frac{4}{5}$

(27) إذا كان جتا هـ = $\frac{4}{5}$ ، هـ تقع في الربع الرابع فما قيمة ظا هـ ؟

(أ) $\frac{3}{4}$ (ب) $\frac{3-}{4}$ (ج) $\frac{3}{5}$ (د) $\frac{3-}{5}$

(28) منحنى ص = جاس هو نفس منحنى ق(س) = جتاس بانسحاب قدره

(أ) $\frac{\pi}{2}$ للأعلي (ب) $\frac{\pi}{2}$ للأسفل (ج) $\frac{\pi}{2}$ لليمين (د) $\frac{\pi}{2}$ لليسار

(29) منحنى ص = جتاس هو نفس منحنى ق(س) = جاس بانسحاب قدره

(أ) $\frac{\pi}{2}$ للأعلي (ب) $\frac{\pi}{2}$ للأسفل (ج) $\frac{\pi}{2}$ لليمين (د) $\frac{\pi}{2}$ لليسار

(30) ما السعة للاقتران ق(س) = جا(س+ π) ؟

(أ) ١ (ب) صفر (ج) ١- (د) π

(31) ما دورة الاقتران ق(س) = جا^٣($\frac{س}{٣}$) - ٤ ؟

(أ) $\frac{\pi}{2}$ (ب) $\pi 2$ (ج) $\frac{\pi}{4}$ (د) $\pi 4$

(32) إذا كانت ظتاس = $\frac{5}{12}$ ، ما قيمة جتاس ؟

(أ) $\frac{5}{13}$ (ب) $\frac{12}{13}$ (ج) $\frac{12}{13}$ - (د) $\frac{13}{12}$

$$(33) \text{ جاه قاه} =$$

(أ) جتا هـ (ب) ظتا هـ (ج) ظا هـ (د) ١

$$(34) \text{ ظاه جتا هـ} =$$

(أ) جتا هـ (ب) جاه (ج) ظا هـ (د) ١

$$(35) \text{ جا } 2\text{هـ} + 1 =$$

(أ) (جاه - جتا هـ)^٢ (ب) (جاه + جتا هـ)^٢ (ج) جا^٢ هـ + جتا^٢ هـ (د) جا^٢ هـ - جتا^٢ هـ

$$(36) 1 - \text{جا } 2\text{هـ} =$$

(أ) جا^٢ هـ (ب) جتا^٢ هـ (ج) جاه (د) جتا هـ

$$(37) \text{ ظاس} + \text{ظتاس} =$$

(أ) ١ (ب) قاس (ج) قناس قاس (د) صفر

٣٨) إذا كان $\cos \theta = \frac{7}{5}$ ، فما قيمة $\sin \theta$ ؟

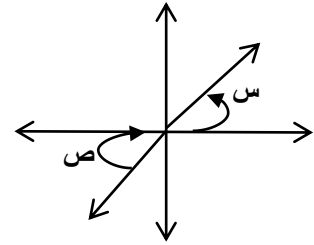
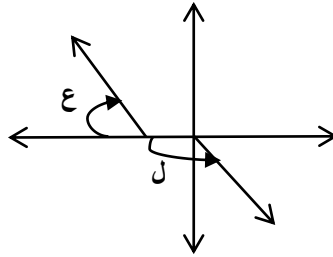
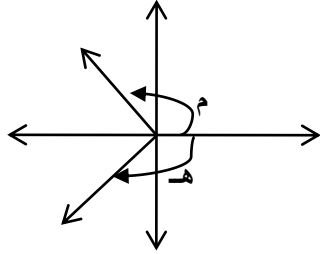
أ) $\frac{24}{25}$

ب) $\frac{14}{10}$

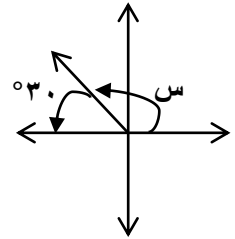
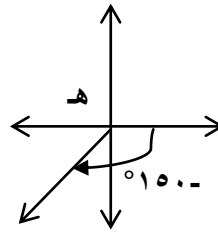
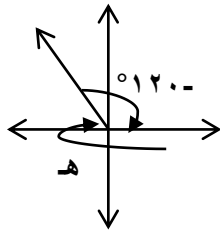
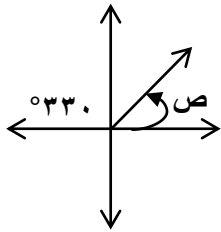
ج) $\frac{49}{25}$

د) $\frac{24}{25}$

السؤال الثالث : أي الزوايا التالية في وضع قياسي :-



السؤال الرابع : أجد قياس الزوايا المجهولة في الأشكال التالية :-



السؤال الخامس :

أ) أحول القياسات التالية من الدرجات إلي الراديان :-

135° ، 720° ، -225° ، 315°

ب) أحول القياسات التالية من الراديان إلي الدرجات :-

$\frac{\pi}{4}$ ، 2.25 ، $\pi 4.5$ ، $\frac{\pi}{4}$

السؤال السادس : ضع إشارة " \sqrt " أمام العبارة الصحيحة و إشارة " \times " أمام العبارة الخاطئة :-

- (١) الزاوية القياسية هي زاوية رأسها في نقطة الأصل و ضلع ابتدائها فوق محور السينات .
- (٢) كل زاوية ربعية هي زاوية قياسية .
- (٣) ضلع الابتداء للزاوية يحدد الربع الذي تقع فيه .
- (٤) إذا قطع ضلع انتهاء الزاوية دائرة الوحدة في النقطة (س ، ص) فإن $\cos \theta = \text{ص}$ ، $\sin \theta = \text{س}$
- (٥) إذا كانت النقطة (س ، ص) تقع علي دائرة الوحدة فإن $0 \leq \cos \theta \leq 1$
- (٦) جميع النسب المثلثية موجبة في الربع الأول .
- (٧) $2 \cos 30^\circ = \cos 60^\circ$

$$(٨) \quad \text{جا} \frac{\pi}{٨} = \frac{\pi}{٨} \text{جتا} \frac{\pi}{٤}$$

$$(٩) \quad \text{جتا} ٦٠^\circ = \text{جا} ٣٠^\circ - \text{جتا} ٣٠^\circ$$

(١٠) إشارة ظا ٨٤° تكون موجبة .

(١١) زاوية الاسناد للزاوية ٤٨° هي ١٢°

(١٢) زاوية الاسناد للزاوية ١٥° هي ٣°

(١٣) إذا كانت ه تقع في الربع الثالث وكان ظاه = ١ فإن ه = ٢٢٥°

(١٤) الاقتران ق(س) = $٢\text{جا}٣\text{س}$ هو اقتران فردي

(١٥) الاقتران ص = $٢ - \text{جتا}٥\text{س}$ هو اقتران زوجي

(١٦) طول دورة الاقتران ق(س) = $٤ - \text{جتا}(\frac{\text{س}}{٣})$ هو ٣π

(١٧) إذا كان ق(س) = $٥ - ٣\text{جتا}٢\text{س}$ فإن السعة تساوي ٣

(١٨) الاقتران ق(س) = جاس هو اقتران فردي دورته الأساسية π

(١٩) إذا كان ق(س) = $٢\text{جتا}(٤\text{س}) + ٥$ فإن القيمة الصغرى للاقتران يساوي ٤

(٢٠) إذا كان ص = $٥ - \text{جا}(٤\text{س})$ فإن القيمة العظمى للاقتران هي ٥

(٢١) جتا(س + ص) = جتاس + جتاص

السؤال السابع : قارن بين منحنى الاقترانات المثلثية التالية من حيث :-

وجه المقارنة	ق(س) = جاس	ه(س) = جتاس	ل(س) = ظاس
نوع الاقتران	اقتران فردي	_____	_____
المجال	_____	ح	_____
المدي	_____	_____	ح
السعة	١	_____	_____
مقدار الدورة	_____	_____	π

السؤال الثامن: أجد قيمة النسب المثلثية التالية اعتمادا على زاوية الاسناد ودون استخدام الآلة الحاسبة :-

$$\text{جتا} ٤٠^\circ = \text{_____} \quad \text{جا} ٧٨^\circ = \text{_____} \quad \text{ظا} ١٢^\circ = \text{_____}$$

$$\text{جا} ١٥^\circ = \text{_____} \quad \text{جتا} ٦٠^\circ = \text{_____} \quad \text{جا} -٣٠^\circ = \text{_____}$$

$$\text{ظا} \frac{\pi 4}{3} = \text{جتا} - 45^\circ = \frac{\pi 7}{4} \text{جا} \quad \text{جتا} - 45^\circ = \frac{\pi 4}{3} \text{ظا}$$

السؤال التاسع: أجد قيمة ما يلي باستخدام القوانين المناسبة ودون استخدام الآلة الحاسبة :-

$$\begin{aligned} \text{جتا} 2^\circ 30' &= 1 - \text{جتا} 15^\circ 15' \\ 1 - \text{جتا} 2^\circ 30' &= \frac{\pi}{3} \text{جتا} 2^\circ 30' \\ \text{جتا} 60^\circ - \text{جتا} 60^\circ &= \frac{\pi}{6} \text{جتا} \frac{\pi}{6} \\ \text{جتا} 45^\circ 55' &= \frac{\pi}{6} \text{جتا} \frac{\pi}{6} \\ \text{جتا} 2^\circ 22,5' &= \text{جتا} 22,5^\circ \\ \text{جتا} 2^\circ 15' 35' &= 1 - \text{جتا} 2^\circ 15' 35' \end{aligned}$$

السؤال العاشر:

(أ) أجد الاقترانات المثلثية لزاوية ضلع انتهائها يمر بالنقطة (٥ ، -٢) .

(ب) إذا كان ظا س = $\frac{5}{12}$ حيث $90^\circ \geq س \geq 270^\circ$ أجد قيمة الاقترانات المثلثية للزاوية س .

(ج) أ زاوية منعكسة بحيث جا = $-\frac{8}{10}$ ، أجد قيمة جتا ، جا ، جتا ؟

(د) أ زاوية منعكسة بحيث أن جتا = $\frac{3}{5}$ ، أجد قيمة جا ، جتا ؟

(هـ) أ زاوية منفرجة بحيث أن جتا = $-\frac{4}{5}$ ، أجد قيمة جا ، جتا ؟

السؤال الحادي عشر: أجد مجموعة حل المعادلات المثلثية التالية :-

$$(1) \text{جتا} 2^\circ - 1 = 0, \quad 0 \leq \text{جتا} 2^\circ \leq \pi$$

$$(2) \text{جتا} 2^\circ + \sqrt{3} = 0, \quad 0 \leq \text{جتا} 2^\circ \leq \pi$$

$$(3) \text{جتا} 2^\circ - \text{جتا} 60^\circ = 0, \quad 0 \leq \text{جتا} 2^\circ \leq \pi$$

$$(4) \text{جتا} 2^\circ + \text{جتا} 3^\circ = 3, \quad 0 \leq \text{جتا} 2^\circ \leq \pi$$

$$(5) \text{ظا} 2^\circ - \text{ظا} 3^\circ = 1, \quad 0 \leq \text{ظا} 2^\circ \leq \pi$$

$$(6) \text{جتا} 2^\circ - \text{جتا} 5^\circ - 3 = 0, \quad 0 \leq \text{جتا} 2^\circ \leq \pi$$

$$(7) \text{جتا} 2^\circ + \frac{1}{4} \text{جتا} 3^\circ = 0, \quad 0 \leq \text{جتا} 2^\circ \leq \pi$$

$$(8) \text{جتا} 2^\circ - \text{جتا} 3^\circ = 0, \quad 0 \leq \text{جتا} 2^\circ \leq \pi$$

$$(9) \text{جتا} 2^\circ - 1 = 0, \quad 0 \leq \text{جتا} 2^\circ \leq \pi$$

$$(10) \text{ ظاه} = 3 - \text{ه} , \quad \pi \geq \text{ه} \geq 0 ,$$

$$(11) \text{ جتاس} + \text{قاس} = 3 , \quad \pi^2 \geq \text{س} \geq 0 ,$$

$$(12) \text{ جتاس} - \text{جاس} = \frac{1}{4} , \quad \pi^2 \geq \text{س} \geq 0 ,$$

$$(13) \text{ جا} \left(\frac{\pi}{4} - \text{س} \right) = \text{جتا} \left(\text{س} + \frac{\pi}{4} \right)$$

السؤال الثاني عشر : أثبت صحة المتطابقات المثلثية التالية :-

$$(1) \text{ جا}^2 \text{ه} - \text{جتا}^2 \text{ه} = 2 \text{ جا}^2 \text{ه} - 1$$

$$(2) (\text{جاس} + \text{جتاس})^2 = 1 + \text{جا}^2 \text{س}$$

$$(3) \sqrt{\text{جاس} \text{جتاس}} = \text{ظاس} = \text{جاس}$$

$$(4) 1 = \text{جتاس}^2 + (\text{ظاس} \text{جتاس})^2$$

$$(5) (1 - \text{جاس}) (\text{جاس} - 1) = (1 + \text{ظاس})$$

$$(6) \text{ظتاس} \text{قاس} = \text{قتاس}$$

$$(7) \text{ظاه} + \text{ظتاه} = \text{قاه} \times \text{قتاه}$$

$$(8) \frac{\text{جتاس} - 1}{\text{جاس} + 1} = \frac{1 - \text{جاس}}{\text{جتاس}}$$

$$(9) \frac{1 - \text{جتاس}^2}{1 + \text{جتاس}^2} = \text{ظتاس}$$

$$(10) \frac{1 - \text{جتاس}}{1 + \text{جتاس}} = \frac{1 - \text{جتاس}^2}{\text{جاس}}$$

$$(11) \text{ظاس} \text{جتاس} = 1 - \text{جتاس}^2$$

$$(12) \frac{1}{\text{قاه}} = \frac{\text{جاه}}{\text{ظتاه} + \text{ظاه}}$$

$$(13) \text{قاه}^2 + \text{قتاه}^2 = \text{قاه} \times \text{قتاه}$$

$$(14) \text{قاس} - \text{قاس}^2 = \text{ظاس} + \text{ظاس}^2$$

$$(15) \text{جاه}^2 \text{ظاه} - \text{جتاه}^2 \text{ه} = \text{قاه}^2 - 2$$

السؤال الثالث عشر : أمثل بيانيا منحني الاقترانات التالية مع تحديد كلا من السعة والمدى ومقدار الدورة فيما يلي:-

$$(1) \text{ ق(س) = جتا}^2 \text{س} + 1$$

$$(2) \text{ ل(س) = جا}^3 \text{س} - 2$$

$$(3) \text{ م(س) = جاس} + 4$$

$$(4) \text{ ع(س) = -2 جتا(-س)}$$

$$(5) \text{ ق(س) = جا(-س) + 3}$$

$$(6) \text{ ق(س) = 2جتا}^3 \text{س} + 1$$

$$(7) \text{ ل(س) = ظاس} + 5$$

$$(8) \text{ ق(س) = 3جا}^{\frac{3}{2}} \text{س} + 2$$

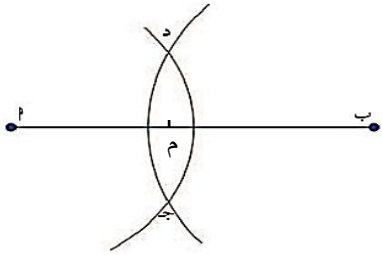
$$(9) \text{ ع(س) = 3جا(-س)}$$

الوحدة الخامسة

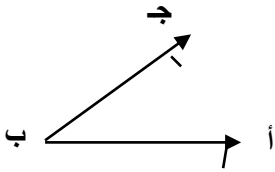
الدرس/إنشاءات هندسية (١)

الأهداف:


- (١) تنصيف قطع مستقيمة.
- (٢) تنصيف زاوية معلومة.
- (٣) رسم مستقيم مواز لآخر من نقطة معلومة .



١. أثبت هندسياً أن النقطة م هي منتصف القطعة المستقيمة أب.


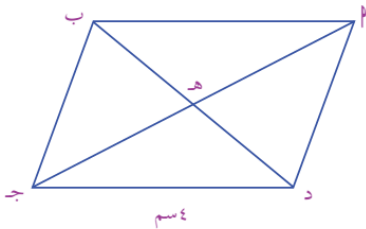


٢. أنصف الأشكال الهندسية التالية باستخدام الإنشاءات الهندسية.

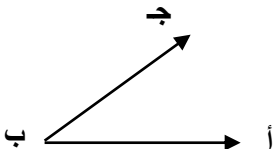


٣. أجد محيط المثلث ج ب هـ في متوازي الأضلاع المجاور إذا علمت أن

$$\overline{ب د} = \overline{أ هـ} = \overline{أ د} = \overline{ب هـ}.$$




٤. أقسم القطعة المستقيمة أ ب إلى أربعة أجزاء متساوية.



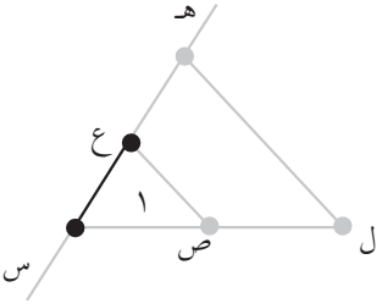
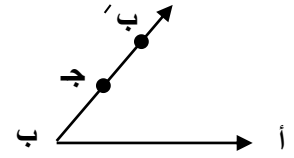
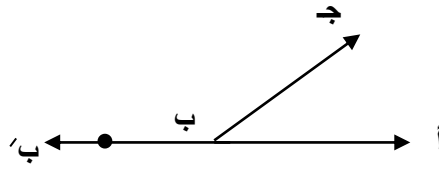
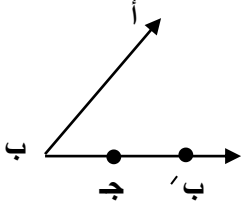
٥. أكمل الرسم للحصول على متوازي الأضلاع أ ب ج د

٦. أرسم مستقيم يوازي ب ج ، ويمر بالنقطة أ.

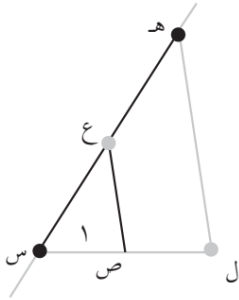
أ •



٧. أنقل الزاوية أ ب ج عند النقطة ب في الأشكال التالية:



٨. أثبت أن $\overline{س ه} = \overline{أ}$. ب إذا علمت أن $\overline{س ع} = \overline{ب}$ وحدة $\overline{س ل} = \overline{أ}$ وحدة ، $\overline{س ص} = \overline{ا}$ وحدة.




٩. أثبت أن $\overline{س ع} = \frac{\overline{ب}}{\overline{أ}}$ إذا علمت أن $\overline{س ه} = \overline{ب}$ وحدة ، $\overline{س ص} = \overline{ا}$ وحدة ، $\overline{س ل} = \overline{أ}$ وحدة.

١٠. إذا كان $\overline{أ} = ٢$ وحدة ، $\overline{ب} = ٣$ وحدة، أمثل باستخدام الإنشاءات الهندسية:

(١) $\overline{أ + ب}$ (٢) $\overline{أ - ب}$ (٣) $\overline{ب - أ}$

(٤) $\overline{أ \times ب}$ (٥) $\frac{\overline{ب}}{\overline{أ}}$

١١. أنشيء دائرة داخل مثلث باستخدام الحافة المستقيمة والفرجار معتمداً على منصفات زوايا المثلث.



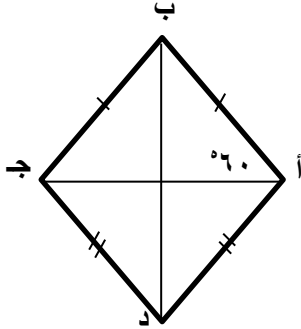

١٢. أفسم القطعة المستقيمة أ ب إلى خمسة أجزاء متساوية؟

١٣. أوضح باستخدام الحافة المستقيمة والفرجار أن القطعة المستقيمة الواصلة بين منتصفين ضلعين في مثلث تساوي نصف القاعدة.

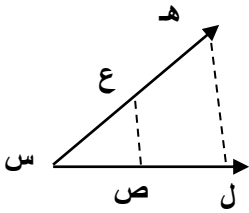
١٤. أقم الزاوية المستقيمة إلى ثلاثة أقسام متساوية.

١٥. أنشئ معيناً أحد أقطاره القطعة المستقيمة $\overline{أ ب}$.

١٦. ما قياس الزاوية $\angle أ ب ج$ في الشكل المجاور.



١٧. في الشكل المقابل ما طول $\overline{س ع}$ إذا علمت أن $\overline{س هـ} = ١٢$ وحدة، $\overline{س ل} = ٣$ وحدات $\overline{س ص} = ١$ وحدة.



الدرس / إنشاءات هندسية ٢

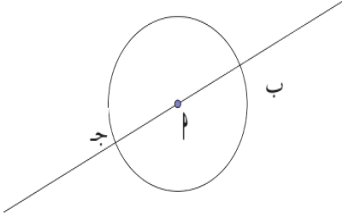
الأهداف:

- (١) إقامة عمود على قطعة مستقيمة من نقطة عليها.
- (٢) تمثيل الأعداد غير النسبية التي على هيئة جذور تربيعية لأعداد ليست مربعات كاملة على خط الأعداد.
- (٣) إنشاء عمود على مستقيم من نقطة خارجة عنه.



١. أنشئ عموداً طوله وحدتان عند النقطة أ.

٢. أكمل في الشكل المقابل رسم أ ه عمودي على ب ج ثم أثبت هندسياً أن المستقيم أ ه عمودي على ب ج.



٣. أنشيء المثلث أ ب ج قائم الزاوية في ب.

٤. أنشيء كل من الزوايا الآتية موضعاً خطوات الرسم.

٩٠° ، ٤٥° ، ٢٢,٥°

٥. مستخدماً الحافة المستقيمة والفرجار أرسم المثلث س ص ع القائم الزاوية في ص ، نصف س ع في م

ارسم ص م ، هل م س = ص ع = م ع ؟

٦. أمثل $\sqrt{2}$ على خط الأعداد بطريقتين مختلفتين.

٧. أمثل $\sqrt{3}$ على خط الأعداد بطريقتين مختلفتين.

٨. أجد طول ب ج إذا علمت أن Δ أ ب ج قائم الزاوية في ب ، أ ب = $\frac{1-s}{2}$ ، أ ج = $\frac{1+s}{2}$

٩. أمثل كلاً من الأعداد التالية على خط الأعداد باستخدام الإنشاءات الهندسية.

(١) $1 + \sqrt{2}$ (٢) $\sqrt{5}$ (٣) $2\sqrt{3}$ (٤) $1 - \sqrt{3}$

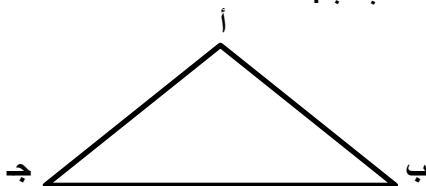
(٥) $1 - \sqrt{11}$ (٦) $2 + \sqrt{7}$ (٧) $2 + \sqrt{5}$ (٨) $2\sqrt{2} - \frac{1}{2}$

١٠

١٠. أنشيء عموداً من النقطة أ على القطعة ب ج.

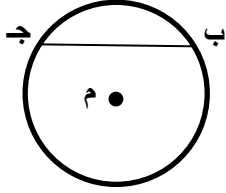


١١. في الشكل المقابل أنشيء عموداً للمثلث أ ب ج من الرأس أ على القاعدة ب ج.



١٢. في الشكل المقابل أقم عموداً على الوتر ب ج من منتصفه ،

هل العمود يمر بمركز الدائرة؟



الدرس/ مثلث متساوي الساقين

الأهداف

١. أرسم مثلث متساوي الساقين.

٢. أرسم مثلث متساوي الأضلاع .

١. أرسم رسماً تقريبياً للمثلث الذهبي.

٢. أرسم مثلثاً متساوي الساقين قاعدته س ص

٣. أرسم مثلثاً متساوي الساقين قاعدته تساوي $\sqrt{5}$ وحدة وطول كل من ساقيه تساوي وحدتان.

٤. أنشئ مثلثاً قائم الزاوية متساوي الساقين.

٥. أرسم مثلثاً متساوي الأضلاع طول ضلعه ٣ وحدات.

٦. أرسم مثلثاً متساوي الأضلاع طول ضلعه $\sqrt{11}$ وحدة.

٧. أرسم مثلثاً متساوي الساقين على القاعدة أ ب ثم ارسم محور التماثل له.

٨. أرسم مثلثاً متساوي الساقين طول ضلعه $1 + \sqrt{3}$ وطول قاعدته ٢ وحدة.

٩. أنشئ كل من الزوايا التالية موضحاً خطوات الرسم:

60° * 120° * 75° * 105° * 135° *

30° * 150° * $37,5^\circ$ * 15° * $67,5^\circ$ *

أكمل الفراغ بما يناسبه:

١. المثلث الذهبي هو _____

٢. محور التماثل هو _____

٣. النسبة الذهبية = _____

٤. عدد محاور التماثل للمثلث متساوي الساقين = _____

٥. عدد محاور التماثل للمثلث متساوي الأضلاع = _____

الأهداف

١. أرسم مضلع سداسي منتظم إذا علم طول أحد أضلاعه.

٢. أرسم مضلع منتظم إذا علم طول أحد أضلاعه.

أكمل الفراغ بما يناسبه:

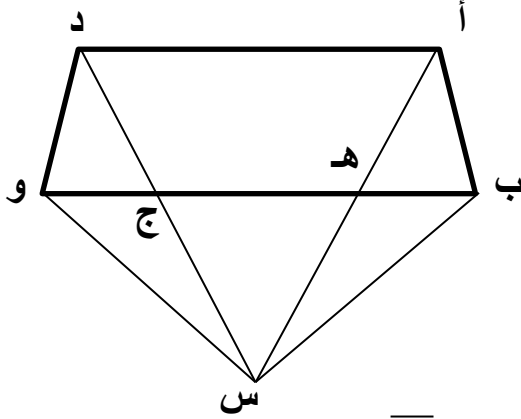
١. المضلع المنتظم هو مضلع قياسات زواياه _____ وأطوال أضلاعه _____
٢. المضلع الذي يعطي أكبر مساحة بأقصر محيط هو _____
٣. مجموع زوايا المضلع المنتظم الذي عدد أضلاعه $n =$ _____
٤. قياس الزاوية الداخلية للمضلع المنتظم الذي عدد أضلاعه $n =$ _____
٥. قياس الزاوية الخارجية للمضلع المنتظم الذي عدد أضلاعه $n =$ _____
٦. عدد محاور تماثل المضلع المنتظم الذي عدد أضلاعه $n =$ _____
٧. عدد محاور المضلع السداسي المنتظم = _____
٨. مجموع قياسات زوايا المضلع الثماني المنتظم = _____
- وقياس زاويته الداخلية = _____ ، وقياس زاويته الخارجية = _____
٩. مجموع قياسات زوايا المضلع المثلث المنتظم = _____
- وقياس زاويته الداخلية = _____

- أرسم باستخدام الحافة المستقيمة والفرجار مربعاً بطريقتين مختلفتين.
- أرسم مضلعاً خماسياً منتظماً إذا علمت أن أحد أضلاعه يساوي ٣ وحدات.
- أرسم مضلعاً سباعياً إذا علمت أن أحد أضلاعه يساوي وحدتان.
- أرسم مضلعاً سداسياً منتظماً إذا علمت أن أحد أضلاعه يساوي ٥.
- أرسم مضلعاً سداسياً منتظماً إذا علمت أن أحد أضلاعه يساوي $1 + \sqrt{2}$ وحدة.

أجب عن الأسئلة التالية :

١. في الشكل المقابل أ ب ج د ، أ ه و د متوازي أضلاع ، مُد أ ه ، د ج على استقامتهما فتلاقيا في س ،

أبرهن أن :

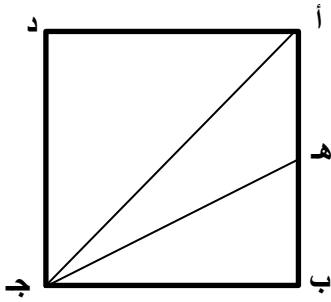


(أ) \square أ ب ج د يكافئ \square أ ه و د

(ب) \triangle أ ب س يكافئ \triangle د و س

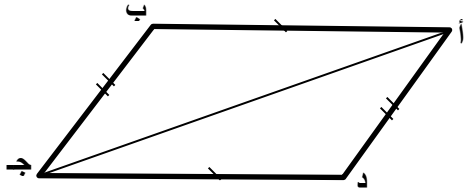
٢. في الشكل المقابل أ ب ج د مربع طول ضلعه ١٢ سم النقطة ه منتصف أ ب ،

أجد مساحة المثلث أ ه ج ؟



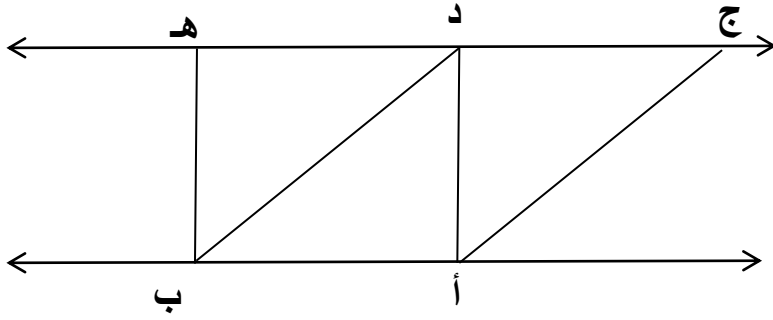
٣. أ ب ج د متوازي أضلاع س ، ص منتصفا د ج ، أ و على الترتيب أثبت أن المثلثين أ س ب ، ب ج ص متكافئان.

٤. يمثل الشكل المجاور متوازي أضلاع أ ب ج د ، أثبت أن المثلثين أ ب ج ، أ ج د متكافئان.



أضع دائرة حول رمز الإجابة الصحيحة فيما يأتي :

١. ما المثلث الذي يكافئ Δ أ ب ج في الشكل المجاور.



(أ) Δ أ د ج

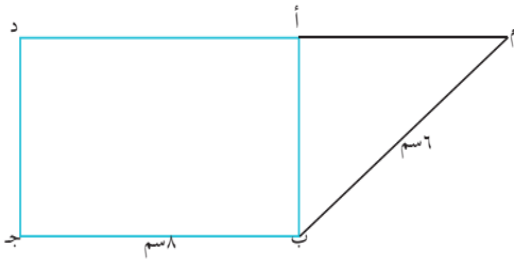
(ب) Δ أ ب د.

(ج) Δ د ج ب

(د) Δ هـ د ب

٢. في الشكل المجاور إذا كانت مساحة المثلث م ب ج = ١٥ سم^٢

فما مساحة المستطيل أ ب ج د؟



(أ) ٢٤ سم^٢ (ب) ٣٠ سم^٢ (ج) ٤٨ سم^٢ (د) ٦٤ سم^٢

أسئلة على الوحدة الخامسة

أضع دائرة حول رمز الإجابة الصحيحة فيما يأتي:-

١. ماذا يسمى الشكلان المتساويان في المساحة؟

(أ) متطابقين (ب) متشابهين (ج) متكافئين (د) غير ذلك

٢. ما عدد المثلثات متساوية الأضلاع المرسومة على القطعة المستقيمة أ ب؟

(أ) ٢ (ب) ٣ (ج) ١ (د) عدد لا نهائي

٣. ما عدد المثلثات متساوية الساقين المرسومة على القطعة المستقيمة أ ب؟

(أ) ٢ (ب) ٣ (ج) ١ (د) عدد لا نهائي

٤. ما طول ضلع العمود المقام عند الصفر عند تمثيل $\sqrt{5}$ ؟

- (أ) ٣ (ب) ٤ (ج) ٢ (د) $\sqrt{2}$

٥. ما طول نصف قطر الدائرة عند تمثيل $\sqrt{5}$ هندسياً؟

- (أ) ٣ (ب) ٤ (ج) ٢ (د) $\sqrt{2}$

٦. ما مجموع قياسات زوايا الثماني المنتظم؟

- (أ) 1260° (ب) 1080° (ج) 540° (د) 1620°

٧. ما قياس الزاوية الداخلية للمضلع السباعي المنتظم؟

- (أ) 120° (ب) 135° (ج) $128,5^\circ$ (د) 90°

٨. أي من العبارات الآتية ليست صحيحة؟

(أ) الشكلان المتكافئان متطابقان.

(ب) الشكلان المتطابقان متكافئان.

(ج) الشكلان الهندسيان المتكافئان هما شكلان متساويان في المساحة.

(د) متوازي الأضلاع المشتركان في القاعدة ومحصوران بين مستقيمين متوازيين متكافئان.

٩. المثلث الذهبي هو مثلث متساوي الساقين ما نسبة طول أحد الساقين إلى طول القاعدة؟

- (أ) $\frac{\sqrt{5}+1}{2}$ (ب) $\frac{\sqrt{5}-1}{2}$ (ج) $\frac{\sqrt{5}+1}{3}$ (د) $\frac{\sqrt{5}-1}{3}$

١٠. أ ب ج د مربع مساحته 36سم^2 ، ه منتصف ب ج ما مساحة المثلث أ ه ج؟

- (أ) 6سم^2 (ب) 9سم^2 (ج) 18سم^2 (د) 20سم^2

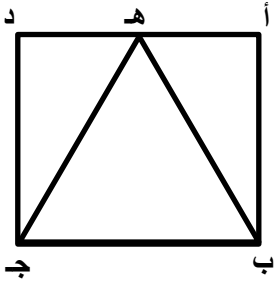
١١. أ ب ج مثلث قائم الزاوية في ب فيه : أ ب = 8سم ، ب ج = 6سم ، ومنتصف أ ج ، فما طول ب د؟

- (أ) 4سم (ب) 3سم (ج) 10سم (د) 5سم

١٢. ما علاقة متوازي الأضلاع المشتركان في القاعدة والمحصوران بين مستقيمين متوازيين؟

- (أ) متطابقان (ب) متكافئان (ج) لا علاقة بينهما (د) مختلفان في المساحة.

١٣. في الشكل المجاور أ ب ج د مستطيل مساحته م سم^٢ ما مساحة المثلث ه ج د؟



(د) ٢ م سم^٢

(ج) م سم^٢

(ب) $\frac{٢}{٣}$ م سم^٢

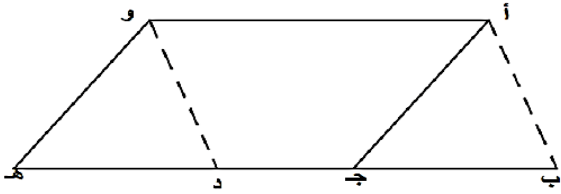
(أ) $\frac{٢}{٣}$ م سم^٢

* أ ب ج مثلث مساحته ١٨ سم^٢ أنشئ على قاعدته ب ج المربع س ب ج د بحيث تقع النقطة أ على س د

أوجد :

(أ) مساحة المربع س ب ج د

(ب) طول ب ج



* في الشكل المجاور أ ب // و د ، أ ج // و ه، أ و // ب ه

أبين أن المثلث أ ب ج يكافئ المثلث و د ه

الوحدة السادسة

الدرس الأول الأسهم

التعريفات الواردة في الدرس

- (١) شركة المساهمة : هي الشركة التي يقسم فيها رأس المال الى أسهم متساوية القيمة وقابلة للتداول بالطرق التجارية وتتكون من شركاء لا يتحملون الخسائر الا بقدر حصتهم في رأس المال .
- (٢) السهم : عبارة عن ورقة مالية "صك" يثبت أن لحامله حصة في ملكية أصول الشركة ولحامله الحق بنسبة من الأرباح وتحمل جزء من الخسائر التي تلحق بالشركة .
- (٣) القيمة الإسمية للسهم : هي القيمة التي يحددها مؤسسو الشركة ، وهي قيمة السهم عند الشراء وتظهر في الدفاتر المحاسبية للشركة وعلى شهادة السهم وتحسب الأرباح بناءً عليها .
- (٤) قد تكون القيمة السوقية أقل من القيمة الإسمية للسهم وهذا يدل على أن هناك "خسارة" والعكس صحيح .
- (٥) القيمة الحالية للسهم : هي قيمة السهم في السوق المالي لحظة التداول .

أهم القوانين الخاصة بالأسهم

- (١) مقدار الربح البسيط = المبلغ الأصلي × سعر الفائدة × المدة الزمنية
- (٢) مقدار ربح الأسهم = عدد الأسهم × القيمة الإسمية للسهم × نسبة الربح
- (٣) القيمة الحالية للأسهم = القيمة الحالية للسهم × عدد السهم
- (٤) النسبة المئوية الفعلية للربح في الأسهم = $\frac{\text{مقدار الربح}}{\text{القيمة الحالية للأسهم}} \times 100\%$
- (٥) علاوة الإصدار = القيمة السوقية - القيمة الإسمية

السؤال الأول : ضع علامة (√) أمام العبارة الصحيحة وعلامة (×) أمام العبارة الخاطئة فيما يلي :

- ١- () حامل السهم يعتبر مالكا في أصول الشركة .
- ٢- () لا يحق لمالك الأسهم التصرف بها إلا بعد موافقة الشركة المكتتبه للأسهم .
- ٣- () القيمة الاسمية للسهم هي قيمة السهم في السوق المالي .
- ٤- () القيمة الحالية للسهم هي القيمة التي تظهر على شهادة السهم وتحسب الأرباح بناءً عليها .
- ٥- () القيمة السوقية للسهم دائماً تكون أكبر من القيمة الاسمية له .
- ٦- () يعتمد في حساب الأرباح في الأسهم على الربح المركب .

السؤال الثاني : أضع دائرة حول رمز الإجابة الصحيحة :-

- ١) _____ يعتبر مالكا في شركة المساهمة
(أ) المؤمن (ب) المؤمن له (ج) المساهم (د) حامل السند
- ٢) _____ عبارة عن صك يثبت أن لحامله حصة في ملكية أصول شركة المساهمة
(أ) السند (ب) السهم (ج) شهادة التأمين (د) الشيك
- ٣) _____ قيمة السهم عند الشراء و التي تظهر في الدفاتر المحاسبية
(أ) القيمة الاسمية للسند (ب) القيمة السوقية للسهم (ج) القيمة الاسمية للسهم (د) ليس مما ذكر
- ٤) يملك محمود ٢٠٠ سهم في شركة الاتصالات الفلسطينية قيمة السهم الاسمية دينارين والقيمة الحالية له ديناران ونصف فإن القيمة السوقية لجميع الأسهم _____
(أ) ٥٠٠ دينار (ب) ٤٠٠ دينار (ج) ١٠٠ دينار (د) ٤٥٠ دينار
- ٥) في بند رقم ٤ إذا وزعت الشركة أرباحاً بنسبة ٧% فإن مقدار ربح محمود _____
(أ) ٣٨ دينار (ب) ٣٥ دينار (ج) ٢٨ دينار (د) ٤٨ دينار
- ٦) في بند رقم ٤ ما النسبة المئوية الفعلية للربح في الأسهم ؟
(أ) ٥,٦% (ب) ١٤% (ج) ١٧% (د) ١١,٢%

١) اشترى براء ٧٠٠ سهم من أسهم إحدى الشركات الفلسطينية القيمة الإسمية للسهم ٥ دنانير بينما كانت القيمة السوقية له ٨ دنانير فإذا وزعت الشركة أرباحاً ٤٠% فاحسب :

أ) الأرباح التي حصل عليها براء .

ب) النسبة المئوية الفعلية للربح .

٢) اكتتب جمال ٤٠٠ سهم من أسهم بنك فلسطين بقيمة إسمية دينار بالإضافة لعلاوة إصدار بقيمة ٣ دنانير للسهم الواحد فإذا قام البنك بتوزيع ٢٥% أرباحاً في نهاية إحدى السنوات احسب :

أ) قيمة الأسهم التي اكتتب بها جمال .

ب) مقدار الربح الذي حصل عليه .

ج) النسبة المئوية الفعلية للربح علماً بأن القيمة الحالية للسهم ٤ دنانير .

٣) اشترى أحمد ٢٠٠٠ سهم من شركة الكوثر للأدوية بقيمة إسمية مقدارها ٤ دنانير للسهم فإذا كانت الأرباح المستحقة له في نهاية سنتين بحساب الربح البسيط ٨٨ ديناراً أجد معدل الفائدة السنوي الذي حددته الشركة .

٤) تبلغ قيمة السهم الإسمية في مقصف مدرسة عبد الفتاح حمود الأساسية دينارين إذا اشترى رامي ١٠ أسهم ووزعت المدرسة في نهاية العام أرباحاً بنسبة ٢٢٠% فكم ربح رامي في نهاية العام الدراسي ؟

التعريفات الواردة في الدرس

- ٢) السندات : هي أوراق مالية تصدرها المنشآت أو الحكومات بقيمة معينة تسمى القيمة الإسمية تثبت أن حاملها دائن للجهة المصدرة للسند .
- ٢) القيمة الإسمية "قيمة الإصدار" للسند : هي القيمة التي أصدرت بها السندات وتحددها الشركة .
- ٣) القيمة السوقية "التجارية" "الحالية" للسند: المبلغ الذي يباع فيه السند في السوق المالي .
- ٤) تاريخ الاستحقاق :الوقت المحدد لسداد القيمة الإسمية للسند .

أهم القوانين الخاصة بالسندات

$$(١) \text{ الربح السنوي للسندات} = \text{القيمة الإسمية للسند} \times \text{عدد السندات} \times \text{نسبة الفائدة}$$

$$(٢) \text{ مقدار الربح الكلي} = \text{الفائدة السنوية} \times \text{عدد السنوات}$$

$$(٣) \text{ العائد} = \text{القيمة الإسمية} + (\text{الفائدة السنوية} \times \text{عدد السنوات})$$

$$= \text{القيمة الإسمية} + \text{الربح الكلي}$$

$$(٤) \text{ القيم الإسمية للسندات} = \text{عدد السندات} \times \text{القيمة الإسمية للسند الواحد}$$

$$(٥) \text{ القيمة السوقية للسندات} = \text{عدد السندات} \times \text{القيمة السوقية للسند الواحد}$$

$$(٦) \text{ الربح / الخسارة} = \text{القيمة السوقية} - \text{القيمة الإسمية}$$

السؤال الأول : أضع علامة (√) أمام العبارة الصحيحة وعلامة (×) أمام العبارة الخاطئة:

- ١- () القيمة التجارية للسندات هي التي تحسب على أساسها الفائدة .
- ٢- () تعتبر السندات إحدى أدوات الاستثمار المضمون التي توفر عائداً جيداً للمستثمرين .
- ٣- () الأسهم هي أوراق مالية تثبت أن مالكةا دائماً للجهة المصدرة لها .
- ٤- () تاريخ الاستحقاق هو الوقت المحدد لسداد القيمة السوقية للسند .
- ٥- () يتم إصدار السندات باسم المشتري فقط .
- ٦- () القيمة الإسمية للسند دائماً أقل من القيمة السوقية .

السؤال الثاني : أضع دائرة حول رمز الإجابة الصحيحة :-

- (١) _____ = القيمة الإسمية + الربح الكلي
- (أ) النسبة الفعلية للربح (ب) العائد (ج) الربح المركب (د) نسبة الفائدة
- (٢) _____ المبلغ الذي يباع فيه السند في السوق المالي
- (أ) القيمة الحالية للسند (ب) العائد (ج) القيمة الاسمية للسند (د) الربح الكلي
- (٣) _____ تعتبر من الاستثمارات المضمونة التي توفر عائداً جيداً للمستثمرين
- (أ) السندات (ب) الأسهم (ج) بوليصة التأمين (د) الشيكات
- (٤) اشترت شركة القدس سندات بقيمة ١٠٠٠٠٠ دينار بنسبة فائدة ٣,٥% ربع سنوية فما قيمة الربح الكلي بعد ٥ سنوات ؟
- (أ) ٧٠٠٠ دينار (ب) ١٤٠٠٠ دينار (ج) ١٧٥٠ دينار (د) ٥٠٠٠ دينار
- (٥) اشترى أحمد ٦٠ سنداً بقيمة إسمية ٥٠ دينار بفائدة سنوية مقدارها ٨% فما قيمة العائد بعد مضي ٣ سنوات ؟
- (أ) ٣٧٢٠ دينار (ب) ٣٢٤٠ دينار (ج) ٧٢٠ دينار (د) ٣٤٨٠ دينار
- (٦) إذا أرادت شركة ما زيادة رأس مالها فمن الأفضل لها أن تصدر _____
- (أ) سندات (ب) أسهم (ج) كمبيالات (د) شيكات

١) اشترت شركة النهضة للمواد الغذائية ٨٠٠ سند القيمة الاسمية للسند الواحد ١٠٠ دينار والقيمة التجارية ٢٠٠ دينار
وبنسبة فائدة ٤,٥% احسب كلاً من :

أ) القيمة الاسمية للسندات .

ب) القيمة الحالية للسندات .

ج) الربح السنوي للسندات .

د) العائد الكلي للسندات بعد مضي ٩ سنوات.

٢) اشترى سليمان ٣٠٠ سند بفائدة ١٢% فكان ربحه في نهاية السنة ٣٦٠ دينار أجد :

أ) القيمة الاسمية للسندات .

ب) القيمة الحالية للسندات .

ج) العائد بعد مضي ٤ سنوات .

٣) طرحت شركة مجموعة من السندات للجمهور بفائدة مقدارها ٩% سنوياً وبقيمة اسمية ٣٠ دينار للسند الواحد
وفي نفس الوقت قامت شركة اخرى بطرح سندات بفائدة مقدارها ١١% سنوياً و بقيمة اسمية ٢٥ دينار للسند
إذا أراد مستثمر شراء ٥٠ سند فبأي الشركتين تتصححه؟

التعريفات الواردة في الدرس

(١) عقد "بوليصة التأمين"

هو عقد بين طرفين يسمى الطرف الأول بالمؤمن (شركة التأمين) والطرف الثاني بالمؤمن له ويلتزم بموجب هذا العقد بأن تدفع شركة التأمين مبلغ من المال أي (تعويض مادي) إلى المؤمن له عند تعرضه لحادث أو خطر مبين ومثبت في عقد التأمين مقابل أن يقوم المؤمن له بدفع أقساط ثابتة (شهرية ، نصف شهرية، سنوية) لشركة التأمين .

أهم القوانين الخاصة بالتأمين

(١) المبلغ المدفوع = القسط السنوي × عدد السنوات

(٢) مقدار الاستهلاك = المبلغ المؤمن × نسبة الاستهلاك × عدد السنوات

(٣) مقدار ما تدفعه شركة التأمين عند وقوع الخطر = مبلغ التأمين - الاستهلاك

(٤) الربح / الخسارة = ما يدفعه المؤمن له - ما تدفعه شركة التأمين

ملاحظة

في بند (٤) * إذا كان الناتج (+) فهو ربح شركة التأمين

* إذا كان الناتج (-) فهو خسارة لشركة التأمين

* نسبة الاستهلاك = نسبة الخصم

السؤال الأول : ضع علامة (√) أمام العبارة الصحيحة وعلامة (×) أمام العبارة الخاطئة :

- ١- () تقوم شركة التأمين بالتعويض بعد انتهاء سداد الأقساط المتفق عليها.
- ٢- () عقد التأمين يلزم المؤمن له بدفع تعويض لشركة التأمين في حالة وقوع الخسائر .
- ٣- () يتشابه كلاً من بوليصة التأمين والأسهم بأن لهما قيمة سوقية وأخرى إسمية .
- ٤- () يحصل المؤمن له على تعويض بعد خصم الاستهلاك من مبلغ التأمين المتفق عليه .
- ٥- () بوليصة التأمين هي ورقة مالية (صك) مضمون الاستثمار.
- ٦- () إذا كان (ما يدفع المؤمن له - ما يدفعه شركة التأمين) < صفر فإن ذلك يمثل ربح لشركة التأمين .

السؤال الثاني : أضع دائرة حول رمز الإجابة الصحيحة :

- ١) _____ المبلغ الذي التزمت شركة التأمين بدفعه في حال وقوع خطر .
(أ) عقد التأمين (ب) مبلغ التأمين (ج) المؤمن له (د) القيمة الإسمية لبوليصة للتأمين
- ٢) جميع الأمور التالية يحسب لها استهلاك ما عدا _____
(أ) السيارات (ب) المباني (ج) البضائع (د) الآلات
- ٣) إذا كان (ما يدفعه المؤمن له - ما تدفعه شركة التأمين) يعطي ناتج سالب فإن ذلك يدل على
(أ) خسارة شركة التأمين (ب) ربح شركة التأمين (ج) لا ربح ولا خسارة (د) خسارة المؤمن له
- ٤) أمن محمد سيارة ثمنها ١٠٠٠٠ دينار بقسط سنوي ٣% ولمدة ٧ سنوات فإن مقدار ما دفعه محمد خلال ٧ سنوات
(أ) ٢١٠٠ دينار (ب) ٣٠٠ دينار (ج) ٧٠٠٠٠ دينار (د) ٢١٠٠٠٠ دينار
- ٥) يملك أحمد سيارة ثمنها ٧٠٠٠ دينار وكان قسط الاستهلاك السنوي ٤% من ثمنها فإن مجموع الاستهلاك بعد ٥ سنوات
(أ) ٢٨٠ (ب) ٣٥٠ (ج) ١٤٠٠ (د) ٢٨٠٠
- ٦) أمن تاجر بضاعة بقيمة ٤٠٠٠ دينار برسم تأمين ٥% فإذا تلف أثناء النقل ربع الكمية
فإن ربح أو خسارة شركة التأمين _____
(أ) ٨٠٠ دينار ربح (ب) ٨٠٠ دينار خسارة (ج) ١٠٠٠ دينار ربح (د) ٦٠٠ دينار خسارة

١) يملك مصنع للأثاث آلات ثمنها ٦٠٠٠٠٠ دينار أمن عليها بقسط سنوي مقداره ٤% ولمدة ٣٠ عاماً على أن يدفع القسط السنوي على أقساط شهرية متساوية فإذا تلفت المعدات بعد مرور ٢٠ عاماً أجد :

أ) مقدار القسط السنوي .

ب) مقدار القسط الشهري .

ج) مقدار ربح أو خسارة شركة التأمين .

٢) أمن شخص على حياته لدى شركة تأمين بمبلغ ٢٨٠٠٠٠ دينار بقسط سنوي مقداره ١٢% من قيمة التأمين ولمدة ١٥ سنة فإذا توفي هذا الشخص بعد ١١ عاماً أوجد مقدار ربح أو خسارة شركة التأمين ؟

٣) يملك بهاء سيارة ثمنها ١٢٠٠٠٠ أمن عليها لدى شركة ترست للتأمين بقسط سنوي مقداره ٣٠٠ دينار ونص عقد التأمين على أن تقوم الشركة بالتعويض عن أي ضرر يلحق بالسيارة بعد خصم الاستهلاك السنوي ومقداره ٥% من المبلغ المؤمن به فإذا تعرضت السيارة لحادث بعد مضي ٧ سنوات وقدرت الأضرار بقيمة ٤٠% من ثمنها في تاريخ الحادث أوجد:

أ) مقدار ما يدفعه بهاء في سبع سنوات ؟

ب) مقدار الاستهلاك من قيمة السيارة خلال ٧ سنوات .

ج) مقدار ما تدفعه الشركة لبهاء كتعويض .

٤) في السؤال السابق على فرض أن الأضرار قدرت بقيمة ١٠٠% من ثمن السيارة ،

أوجد ربح أو خسارة الشركة ؟