



دائرة التربية والتعليم  
مركز التطوير التربوي - غزة  
وحدة التطوير المهني والمنهاج

# مادة تدريبية في التربية الوطنية والحياتية

## الصف الثاني الابتدائي

## الفصل الدراسي الثاني

## الوحدة الأولى / : أجزاء النباتات:

اختر الإجابة الصحيحة:-

١ يصنع الصابون النابلسي من زيت

أ. الصبار      ب. الزيتون      ج. السمسم      د. جوز الهند

٢- يمتص النبات الماء و الغذاء من التربة بواسطة

أ. الزهرة      ب. الساق      ج. الورقة      د. الجذر

٣- من النباتات التي تؤكل جذورها

أ. الجزر      ب. الفجل      ج. اللفت      د. جميع ما ذكر

٣- جميع ما يلي تؤكل سيقانها ما عدا

أ. قصب السكر      ب. البطاطا      ج. دوار الشمس      د. البصل

٤- من الصناعات التي تعتمد على النباتات ما عدا :

أ. المربي      ب. السيارات      ج. العصائر      د. الصابون النابلسي

**رتب خطوات زراعة النبات :-**

( ) - وضع كمية من التراب فوق البذور وريها بالماء

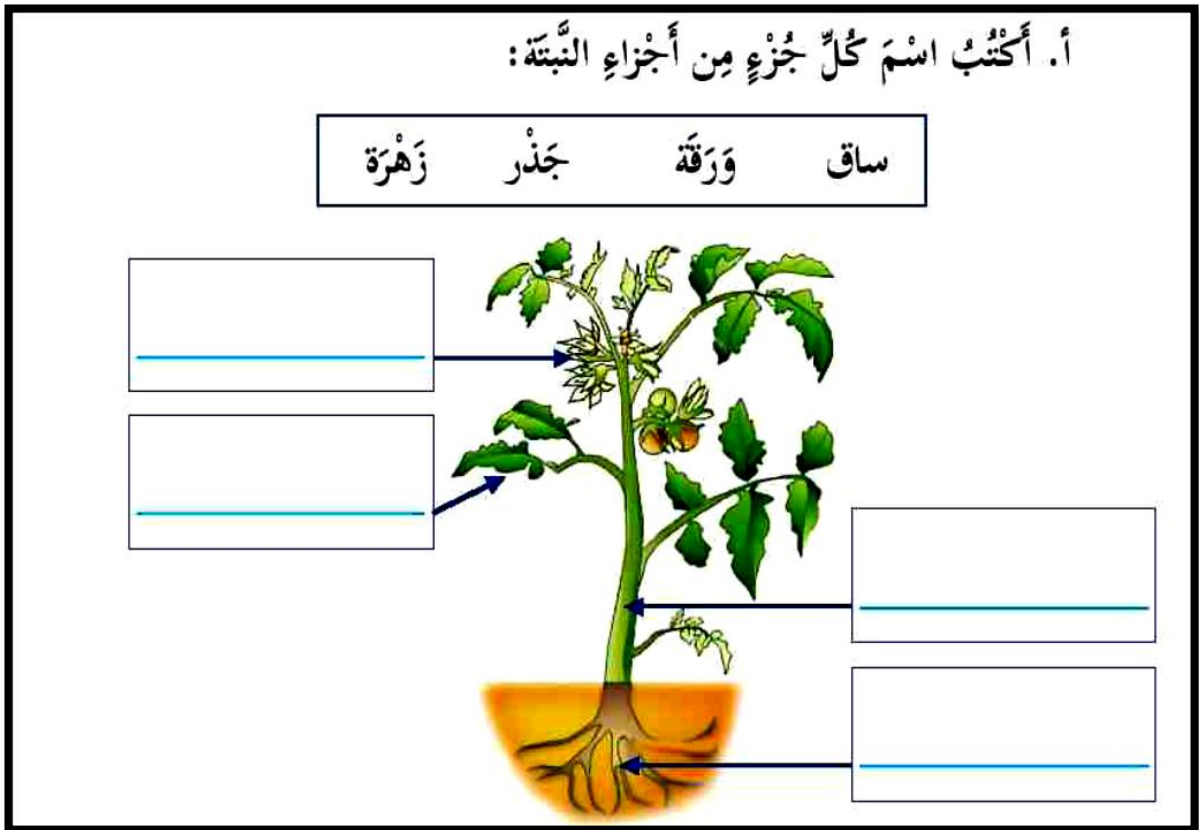
( ) - وضع الوعاء في مكان مناسب بالقرب من النافذة

( ) - وضع كمية من التراب في وعاء

( ) - مراقبة نمو البذور

ضع علامة ( √ ) أمام العبارة الصحيحة و علامة (x) أمام العبارة الخاطئة .

- ١- ( ) نأكل ساق نبات الزيتون .
- ٢ ( ) من الواجب شراء المنتجات الوطنية .
- ٣ ( ) من أجزاء النبات الأوراق و الساق فقط.
- ٤ ( ) تستخرج العطور من الزهرة.
- ٥ ( ) تستخدم أوراق نباتات الزعتر في الطعام .
- ٦ ( ) من النباتات التي تؤكل أوراقها العنب و الملوخية .
- ٧ ( ) قصب السكر من النباتات التي تؤكل سيقانها .
- ٨ ( ) من النباتات التي لا تؤكل سيقانها دوار الشمس .



## اختر الإجابة الصحيحة :-

- ١- من النباتات التي تؤكل جذورها..... ( اللفت – الزيتون – البرتقال )
- ٢- من النباتات التي تؤكل سيقانها..... (الكينا-البطاطا-الفجل )
- ٣- من النباتات التي تؤكل أوراقها..... ( الخس –اللفت –الجزر )
- ٤- من النباتات التي تؤكل أوراقهاوسيقانها..... ( التفاح-البقدونس- البطاطا )
- ٥- من النباتات التي تؤكل أوراقهاوثمارها.....(العنب- السبانخ - الملوخية )
- ٦- من النباتات التي تستخدم كعلاج ..... ( الزعتر – البابونج – كلاهما )

=====  
ضع علامة ( √ ) أمام العبارة الصحيحة و علامة (x)أمام العبارة الخاطئة .

- ١- ( ) جذور النباتات متنوعة ومفيدة .
- ٢- ( ) نأكل سيقان شجرة الكينا .
- ٣- ( ) نأكل أوراق الملوخية .
- ٤- ( ) نصنع الزيت من ثمرة الزيتون .
- ٥- ( ) نأكل جذور شجرة الليمون .

=====  
أكمل الفراغ بالكلمة المناسبة مما بين القوسين:

( دوار الشمس – العطور – الذرة – الطعم – الجزر )

- ١- نأكل جذور نبات ..... ولا نأكل جذور نبات.....
- ٢- لا نأكل ساق نبات.....
- ٣- تختلف ثمار النباتات من حيث الشكل و.....
- ٤- نصنع من أزهار النباتات.....

وفقمناالعمود(أ)بمايناسبهماالعمود(ب) :

( ب )

( أ )

- ١ - نأكل جذور نبات ( ) ملوخية  
 ٢ سيقان النباتات ( ) زيتون  
 ٣ نبات نأكل أوراقه ( ) متنوعة ومفيدة  
 ٤ نبات نأكل ثماره ( ) الفجل

### اكتب المصطلح العلمي :

- ١- الجزء الذي يثبت النبات في التربة ويمتص الماء والغذاء (.....) ٢-  
 الجزء الذي يحمل الأوراق والثمار (.....)

### صنف النباتات الآتية حسب الجزء الذي تؤكل منها :-

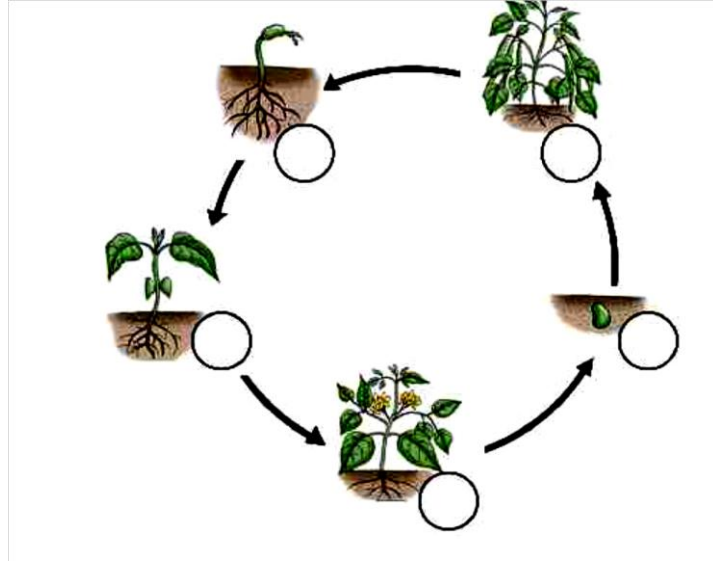
( الجزر – التفاح – البرتقال – البطاطا – البصل – الملوخية – الفجل – الخس )

نبات نأكل جذره	نبات نأكل ساقه	نبات نأكل أوراقه	نبات نأكل ثماره
.....	.....	.....	.....
.....	.....	.....	.....

### اختر الإجابة الصحيحة :-

- ١ يصنع الصابون من زيت ..... (الزيتون-عباد الشمس- السمس) )  
 ٢ يصنع العصير والمربى من.....( البرتقال-الفاولة- كل ماسبق )  
 ٣ تصنع العطور من.....(الأزهار –السيقان – الثمار )  
 ٤ تشتهر مدينة ..... بصناعة الصابون ( أريحا- نابلس-السبع )  
 ٥ يصنع الخبز و البسكويت من ..... ( القمح –الفجل – الأرز )  
 ٦- من الواجب شراء المنتجات .....( الوطنية – المستوردة – منتجات الاحتلال )

أعيد ترتيب مراحل دورة حياة النبات بوضع الرقم المناسب في الدائرة :



أكمل الفراغ بالكلمة المناسبة :-

( جنين- اللوز - التنقيط - الأمطار - المروية )

- ١ تعتمد الزراعة البعلية في فلسطين على مياه .....
- ٢ تعتمد الزراعة ..... على تدخل الإنسان .
- ٣ من النباتات البعلية .....
- ٤ من طرق ري المزروعات الري بـ.....
- ٥ تستخدم طريقة الري بالتنقيط في سهول.....

اختر الإجابة الصحيحة :-

- ١- من النباتات دائمة الخضرة ..... ( العنب - الزيتون - التفاح )
- ٢- من النباتات متساقطة الأوراق ..... ( النخيل - التين - البرتقال )
- ٣- من النباتات التي تؤكل ثمارها ..... ( السرو- أسكندنيا- سنديان )
- ٤- من النباتات التي لا تؤكل ثمارها.....( عنب - موز - كينا )

ضع علامة ( √ ) أمام العبارة الصحيحة، وعلامة ( x ) غير الصحيحة :

- ١ ( ) الخروب من النباتات متساقطة الأوراق .
- ٢ ( ) اللوز من النباتات متساقطة الأوراق .
- ٣ ( ) تنوع النباتات في فلسطين يسهم في دعم المنتجات الوطنية.
- ٤ ( ) عندما ينمو النبات يزداد طوله.
- ٥ ( ) زيت الزيتون والسمسم من الصناعات التي تعتمد على النباتات.
- ٦ ( ) لا يحتاج النبات إلى ضوء الشمس.

=====

### صنف النباتات إلى زراعة بعلية و زراعة مروية :-

( البندورة - القمح - الذرة - الخوخ - اللوز - الزيتون - البطيخ - السمسم )

زراعة مروية	زراعة بعلية
.....	.....
.....	.....
.....	.....

### صنف النباتات الآتية إلى معمرة وموسمية :-

(- الأزهار البرية- البرتقال - نخيل - زيتون - خروب - بندورة -- فراولة - قمح )

نباتات موسمية	نباتات معمرة
.....	.....
.....	.....
.....	.....
.....	.....

صحح الخطأ :

- ١- النخيل من النباتات متساقطة الأوراق ( )
- ٢- من النباتات التي لا توكل ثمارها التفاح ( )
- ٣- التين من النباتات الموسمية ( )
- ٤- من الواجب شراء المنتجات المستوردة ( )

من أنا :

(.....) زراعة تعتمد على مياه الأمطار في سقي المزروعات.

(.....) نبات ينضج في الصيف وتؤكل ثماره وأوراقه

ما رأيك :

شخص يشتري منتجات الاحتلال .

فلاح يعتني بأرضه

نمو النباتات / أكمل الفراغ

١ - عندما ينمو النباتات يتغير ..... و.....

٢ يحتاج النباتات لكي ينمو نمواً سليماً إلى ..... و.....

..... و.....

٣ تكثر زراعة الخضروات في .....

٤ من الطرق الحديثة في الري بـ ..... و الري بـ.....

و من طرق الري القديمة الري بـ.....

٥ تعتمد الزراعة البعلية في فلسطين على مياه .....

ضع علامة (√) أمام العبارة الصحيحة، و (X) أمام العبارة غير الصحيحة:



- ١- ( ) يزرع السمسم و القمح في جبال فلسطين .
- ٢ ( ) يحتاج النبات لكي ينمو نمواً سليماً إلى ماء فقط.
- ٣- ( ) تذبل و تصفر أوراق الشجر إذا منع الماء عنها .
- ٤ ( ) عندما ينمو النبات يتغير شكله و حجمه .
- ٥ ( ) من طرق المحافظة على الماء الري بالقنوات .
- ٦ ( ) تعتمد الزراعة المروية على ري الانسان لها.

---

---

### اكتب المصطلح العلمي :

- ١ (.....) الزراعة التي تعتمد على مياه الأمطار .
- ٢ (.....) الزراعة التي تعتمد على مياه الآبار .

### ماذا يحدث لو ؟

- ١ استخدم الفلاح طريقة التنقيط في ري المزروعات.

يحدث/.....

- ٢ منعنا الماء عن النباتات .

يحدث/.....

- ٣ وضعنا .. النبات في غرفة مظلمة .

يحدث/.....

- ٤ زرعنا نبات ووضعناه في حوض مغلق.

يحدث /.....

- ٥- وضع أحمد النبات في غرفة مظلمة .

يحدث /.....

---

---

### اذكر السبب :

يضع الفلاح روث الحيوانات حول مزروعاته

السبب : .....

يعد الري بالتنقيط أفضل أنواع الري.

السبب : .....

### الدرس الثالث :أنواع النباتات

#### وفق من العمود ( أ ) بما يناسبه من العمود ( ب )

( أ ) ( ب )

١-تشتهر مدينة الخليل بزراعة ( ) الحمضيات

٢- تشتهر مدينة طوباس بزراعة ( ) الموز

٣ تشتهر مدينة أريحا بزراعة ( ) العنب

٤ تشتهر مدينة يافا بزراعة ( ) الخضروات

٥ تشتهر مدينة الخليل بزراعة ( ) الخوخ

=====

اختر الإجابة الصحيحة مما بين القوسين ١ :

١. من النباتات الموسمية ..... ( التفاح - النخيل - عصا الراعي )

٢. جميع النباتات معمرة عدا ..... ( الباذنجان - الصنوبر - العنب )

٣. تسقط أوراق الأشجار في فصل ..... ( الصيف - الخريف - الربيع )

٤. من الأشجار التيلانأكل ثمارها ..... ( أسكندنيا - موز - سنديان )

٥. جميع الأشجار لا نأكل ثمارها عدا ..... ( السرو - السنديان - التفاح )

=====

اكتب المصطلح العلمي

١. الأشجار التي تعيش أكثر من سنة. (.....).
٢. الأشجار التي تعيش أقل من سنة (.....).
٣. نباتات تسقط أوراقها في فصل الخريف (.....).
٤. نباتات لا تسقط أوراقها في فصل الخريف (.....).

### حاكم التصرفات التالية (يعجبني / لايعجبني )

١. أساعد أسرتي في تنظيف أوراق الأشجار المتساقطة في فصل الخريف (.....).
٢. أتناول ثمار نباتات لا أعرفها (.....).
٣. غسل الفواكه قبل أكلها (.....).

=====

### أكمل الفراغ

- ١ تشتهر الخليل بزراعة ..... بينما تشتهر أريحا بزراعة .....
- ..... و تزرع الخضروات في .....
- ٢ تسمى النباتات التي تعيش طويلاً بالنبات .....
- ٣ تسمى النباتات التي تعيش أقل من سنة بالنبات .....
- ٤ تسمى النباتات التي لا تسقط أوراقها بالنباتات .....
- ٥ تسمى النباتات التي تسقط أوراقها في فصل الخريف .....
- ٦ من النباتات الموسمية..... ، .....
- .....
- ٧ من النباتات المعمرة.....، .....
- ٨ من النباتات متساقطة الأوراق .....
- ٩ من النباتات التي لا تتساقط أوراقها .....

ضع علامة (√) أمام العبارة الصحيحة وعلامة (X) أمام العبارة غير الصحيحة:

- ١ ) ( تعد البندورة و الفراولة من النباتات الموسمية
- ٢ ) ( من النباتات متساقطة الأوراق العنب
- ٣ ) ( نبات السنديان من النباتات التي لا تؤكل ثمارها
- ٤ ) ( تتساقط أوراق النباتات في فصل الربيع
- ٥ ) ( تشتهر مدينة أريحا في زراعة العنب
- ٦ ) ( البرتقال و الزيتون من الأشجار دائمة الخضرة
- ٧ ) ( الخروب و النخيل من النباتات المعمرة
- ٨ ) ( نتناول الفواكه و الخضروات دون غسلها

### اختر الإجابة الصحيحة

١ كل النباتات التالية موسمية ما عدا :

أ. السبانخ      ب. البطيخ      ج. الزيتون      د. البندورة

٢ - تتسقط أوراق الأشجار في فصل

أ. الصيف      ب. الربيع      ج. الخريف      د. الشتاء

٣- النباتات الدائمة تعيش

أ. شهر      ب. سنة      ج. سنتين      د. طويلاً

٤- من الأشجار متساقطة الأوراق

أ. اللوز      ب. العنب      ج. أوب معاً      د. البرتقال

٥- من النباتات المعمرة

أ. الخيار      ب. التين      ج. البندورة      د. الكوسا

### صنف النباتات التالية

أ. التين - اللوز - السرو - الليمون - البرتقال - تفاح - رمان - نخيل

متساقطة الأوراق	دائمة الخضرة
.....	.....
.....	.....
.....	.....
.....	.....

ب. الخيار - العنب - الزيتون - الفاصوليا - خس - الجوافة - البرتقال - الجزر

نباتات موسمية	نباتات معمرة
.....	.....
.....	.....
.....	.....
.....	.....

### الوحدة الثانية: الحيوانات تتغذى و تنمو

( النباتات - حجمه - الضفدع - الغذاء - الكلب - السلحفاة )

١. عندما ينمو الحيوان يزداد طولهُ و.....
٢. من الحيوانات التي تشبه أبايها .....
٣. من الحيوانات التي تشبه صغارها.....
٤. يحتاج الحيوان لكي ينمو إلى الماء و.....
٥. تتغذى الغزالة على .....
٦. يتغذى ..... على النباتات واللحوم

=====

ضع علامة (✓) أمام العبارة الصحيحة و علامة ( x ) أمام العبارة غير الصحيحة:

١. ( ) تعد البطة من الحيوانات آكلة اللحوم والنباتات
٢. ( ) البيئة النظيفة تساعد الحيوان على النمو
٣. ( ) يزداد وزن الحيوانات فقط عند النمو
٤. ( ) تعيش الحيوانات في مجموعات لتحمي نفسها
٥. ( ) يتغذى القنفذ على الديدان
٦. ( ) يسمى صغير البقرة العجل
٧. ( ) الحيوانات لا تحتاج لبعضها البعض
٨. ( ) الأسد والنمر من الحيوانات التي تتغذى على النباتات
٩. ( ) الطبيب البيطري يشرف على علاج الانسان
١٠. ( ) يسمى صغير الحصان جدي

### صنف الحيوانات حسب الجدول

( أرنب – نمر – بطة – فأر – نمر – الخروف - أسد – بقرة - عصفور – قنفذ –  
الهرباء – الاسماك – الغزال – الحصان )

حيوانات آكلة النباتات ولحوم (قوارت )	حيوانات آكلة لحوم	حيوانات آكلة النباتات
.....	.....	.....
.....	.....	.....
.....	.....	.....
.....	.....	.....
.....	.....	.....

### اختر الإجابة الصحيحة مما بين القوسين

١. من الحيوانات آكلة اللحوم ..... ( النمر – البطة – الزرافة )
٢. من الحيوانات التي تشبه صغارها ..... ( الضفدع – الفراشة – الارنب )
٣. عندما تنمو الحيوانات يزداد ..... ( حجمها – طولها – كلاهما )
٤. حيوانات من القوارت ..... ( الغزال – العصفور – البطة )
٥. الحيوان الذي يتغذى على النباتات ..... ( الأرنب – النمر – الأسد )

اذكر السبب:

١. وجود نوافذ في حظائر الحيوانات

...../السبب/

٢. ترعى الحيوانات في سهول فلسطين في موسم الحصاد

...../السبب/

٣. يوجد للحيوانات آكلة اللحوم أنياب حادة

...../السبب/

=====

### اكتب الاسم العلمي

١. ( ..... ) حيوانات تتغذى على اللحوم

٢. ( ..... ) حيوانات تتغذى على النباتات

٣. ( ..... ) حيوانات تتغذى على نباتات ولحوم

=====

### اكتب مثالا لكل من :

١. حيوان يتغذى على اللحوم .....

٢. حيوان لا يشبه أبويه .....

٣. حيوان يتغذى على نباتات ولحوم .....

٤. حيوان يشبه صغارها .....

٥. حيوان يتغذى على النباتات .....

=====

ضع علامة (✓) أمام العبارة الصحيحة و علامة ( x ) أمام العبارة غير الصحيحة:

- ١ ( ) يسمى صغير الطير فرخ
- ٢ ( ) عندما تنمو الحيوانات يزداد عددها
- ٣ ( ) لكل حيوان أم و أب
- ٤ ( ) من الحيوانات التي تتكاثر بالبيض الحصان
- ٥ ( ) بيض الحيوانات متشابه
- ٦- ( ) من الحيوانات التي تعتني بصغارها الارانب

اختر الإجابة الصحيحة مما بين القوسين:

- ١ تتكاثر الحيوانات ب..... ( الولادة - البيض - كلاهما )
- ٢ عندما تتكاثر الحيوانات يزداد..... ( حجمها - عددها - طولها )
- ٣ من الحيوانات التي تتكاثر بالولادة..... ( الخفاش - الدجاج - البط )
- ٤ من الحيوانات التي تعتني بصغارها..... ( الضفدع - السلاحف - الدجاج )

ضع علامة (√) أمام العبارة الصحيحة ، وعلامة ( X ) أمام العبارة غير الصحيحة .

- ١- ( ) تتكاثر جميع الحيوانات بالولادة فقط
- ٢- ( ) السلحفاة من الحيوانات التي تتكاثر بالبيض
- ٣- ( ) جميع البيوض تتشابه في اللون و الحجم و الشكل
- ٤- ( ) البقرة من الحيوانات التي تتكاثر بالبيض
- ٥- ( ) اللبؤة من الحيوانات التي تعتني بصغارها
- ٦- ( ) الخنفساء من الحيوانات التي لا تعتني بصغارها

أكمل بالكلمة المناسبة مما بين القوسين



( الماء - الولادة - البيضة - الطيران - البيض - الضفدع )

- ١ تتكاثر الحيوانات بـ..... أو .....
- ٢ من الحيوانات التي لاتعتني بصغارها .....
- ٣ العصافير تعلم صغارها .....
- ٤ أول مرحلة من مراحل دورة حياة الفراشة .....
- ٥ تضع انثى الضفدع البيض في .....

### صح ما تحته خط

- ١ النمر من الحيوانات التي تتكاثر بالبيض (.....)
- ٢ الدجاجة من الحيوانات التي تتكاثر بالولادة (.....)
- ٣ الفراشة اول دورة حياتها الشرنقة (.....)
- ٤ الأرانب من الحيوانات التي لا تعتني بصغارها (.....)

### صنف الحيوانات حسب طريقة التكاثر:

( السمك - البقرة - السلحفاة - الغزال - الخفاش - الدجاج - النسر - الحوت )

حيوانات تتكاثر بالولادة	حيوانات تتكاثر بالبيض

### الدرس الثالث : الحيوانات التي تعيش في مجموعات

اختر الإجابة الصحيحة مما بين الأقواس:

- ١ تهاجر الطيور بحثاً عن..... ( الدفاء - الطعام - كلاهما )
- ٢ يسمى تجمع الأسماك ..... ( قطع - سرب - جماعة )
- ٣ تعيش الحيوانات في تجمعات من أجل..... ( الحماية - الهجرة - كلاهما )
- ٤ حيوانات تتجمع من أجل الهجرة و التنقل..... ( الفيلة - الحمام - النحل )

٥ تجمع النحل ينتج عنه صنع ..... ( الحرير - العسل - العطور )

ما رأيك ؟

طفل يأخذ بيض الطيور من أعشاشها .

صحّ ما تحته خط

١ نسمّي تجمع النمل قطيع (.....)

٢ تعيش الحيوانات في مجموعات لهلاك بعضها البعض (.....)

٣ يسمى تجمع الفيلة و الابقار جماعة (.....)

٤ تهاجر الغزلان بحثاً عن الطعام و الدفاء (.....)

ضع علامة صح ( ✓ ) أمام العبارة الصحيحة و علامة خطأ ( X ) أمام العبارة غير الصحيحة:

١ ( - ) نسمّي مجموعة الطيور قطيع

٢ ( - ) تعيش الأبقار في مجموعات لتهاجر معاً

٣ ( - ) تهاجر الطيور معاً بحثاً عن الطعام و الدفاء

٤ ( - ) الغزلان من الحيوانات التي تعيش في مجموعات

٥ ( - ) أتعلم من تجمع النمل و النحل التعاون و النظام

٦ ( - ) تجمع النحل ينتج عنه صنع الحرير

صل اسم الحيوان باسم ابنه:-

- ١- الجمل ( ) فرخ
- ٢- الماعز ( ) مهر
- ٣- الكلب ( ) قاعود
- ٤- البقرة ( ) شبل
- ٥- الطير ( ) جدي
- ٦- الحصان ( ) جرو
- ٧- الأسد ( ) عجل

اذكر السبب:

١- يزرع الفلاح بعض النباتات لتتغذى عليها بعض الحيوانات

السبب/.....

٢- توضع حيوانات مثل الأسد و النمر في أقفاص في حديقة الحيوانات

السبب/.....

١- تعد تربية الحيوانات مصدر رزق لكثير من المزارعين في فلسطين

السبب/.....

٢- تتكاثر الكثير من الحيوانات في فصل الربيع

السبب/.....

اذكر السبب:

يعيش النحل في مجموعات كثيرة

السبب/.....





تعيش الطيور في مجموعات

السبب/.....

تعيش الغزلان في مجموعات

السبب/.....

اكتب اسم المرحلة من حياة الفراشة في المكان المناسب

 . ١	 . ٤
<hr/>	<hr/>
 . ٢	 . ٣
<hr/>	<hr/>

الوحدة الثالثة: سماء بلادي

الدرس الأول: الشمس

أكمل بالكلمة المناسبة

(ظهرا - الضوء - الغرب - الشمس - القبعات - تسخن - )

١. الشمس مصدر رئيسي لـ .....

٢. ينصح بعدم التعرض لأشعة الشمس .....

٣. تشرق .....

٤. الشمس .....

٥. نرتدي .....

٦. تغيب الشمس من جهة .....

اختر الإجابة الصحيحة مما بين القوسين

١. تغرب الشمس من جهة ..... (الغرب - الشرق - الشمال)
٢. المصدر الرئيسي للضوء ..... (النجوم - القمر - الشمس)
٣. تمدنا الشمس بالضوء و ..... (الهواء - الماء - الدفء)
٤. نرى الشمس وسط السماء عند ..... (الظهر - المساء - الصباح)
٥. نرى في النهار ضوء ..... (الشمس - القمر - النجوم)

ضع علامة (✓) أمام العبارة الصحيحة و (x) أمام العبارة غير الصحيحة :

١. ( ) نرتدي القبعات للوقاية من أشعة الشمس

٢. ( ) الطاقة الشمسية أفضل أنواع الطاقة على سطح الأرض

٣. ( ) يشعر الإنسان بالحر والعطش في فصل الشتاء

٤. ( ) تشرق الشمس من جهة الغرب

٥. ( ) يحتاج النبات والحيوان الى الشمس

٦. ( ) الشمس من مصادر الطاقة

٧. ( ) ينجز الإنسان أعماله في الليل المظلم

٨. ( ) لكل جسم ظل

٩. ( ) ينصح بالتعرض لأشعة الشمس ظهراً

١٠. ( ) الشمس تبرد الأشياء

اكتب المصطلح العلمي :

١ (.....) المصدر الرئيس للضوء والحرارة

٢ (.....) طاقة دائمة ونظيفة لا دخل للإنسان في وجود

حاكم التصرفات الآتية ( يعجبني - لا يعجبني )

- ١ ولد يمشي في الصيف حافي القدمين.....
- ٢ تلميذ يلعب وقت الظهيرة .....
- ٣ تلميذ يرتدى القبعات للوقاية من أشعة الشمس .....

أكمل بالكلمة المناسبة :

( الصباح ، الكهرباء ، النهار ، الشمس ، القبعة )

- ١ - مصدر رئيسي للضوء و الحرارة .....
- ٢ تشرق الشمس فيكون.....
- ٣ من مصادر الضوء .....
- ٤ يرتدي ..... للوقاية من أشعة الشمس
- ٥ أذهب إلى مدرستي في .....

ضع علامة (√) أمام العبارة الصحيحة و علامة (X) أمام العبارة غير الصحيحة .

١. ( ) أذهب إلى مدرستي ليلاً
٢. ( ) تسخن الشمس الماء و يصبح ساخناً
٣. ( ) يكون الجو حاراً في منتصف النهار
٤. ( ) تكثر استعمالات السخانات الشمسية في فصل الشتاء
٥. ( ) ينصح بعدم التعرض لأشعة الشمس ظهراً
٦. ( ) ترتفع درجة الحرارة في فصل الصيف

اذكر السبب

١- يذهب الكثير من الناس إلى شاطئ البحر في فصل الصيف

السبب/.....

٢- يقل الاعتماد على السخانات الشمسية في فصل الشتاء

السبب/.....

٣- تنشط حركة الناس في النهار

السبب/.....

=====

### الدرس الثاني القمر:

**ضع خطأ تحت الإجابة الصحيحة مما بين القوسين :**

- ١ - عدد شهور السنة القمرية ..... شهراً ( أحد عشر - اثنا عشر - ثلاثة عشر )
- ٢ يبدأ القمر هلالاً وينتهي ..... ( بدر - محاقاً - هلالاً )
- ٣ يصوم المسلمون في شهر ..... ( شعبان - رمضان - شوال )
- ٤ مراقب ظهور الهلال لتحديد موعد بدء شهر .... ( رمضان - شوال - شعبان )
- ٥ يكون القمر في منتصف الشهر..... ( هلالاً - بدرأ - ربيع أول )
- ٦ يحج المسلمون في شهر..... ( ذو القعدة - ذو الحجة - ربيع الأول )
- ٧ الشهر الثاني في السنة القمرية ..... ( صفر - محرم - ذو الحجة )

=====

### **صحح ما تحته خط**

- ١ أول الأشهر القمرية هو شهر ربيع الأول (.....)
  - ٢ ولد الرسول صلى الله عليه وسلم في شهر محرم (.....)
  - ٣ يصوم المسلمون في شهر شعبان (.....)
  - ٤ من أوجه الشمس الهلال و البدر (.....)
- ضع علامة (✓) أمام العبارة الصحيحة و علامة (X) أمام العبارة غير الصحيحة .

- ١ ( ) يختفي القمر في نهاية الشهر
- ٢ ( ) من المناسبات الدينية المرتبطة بالشهور القمرية عيد الأم
- ٣ ( ) القمر يساعدنا على معرفة أوقات الشهر
- ٤ ( ) يعيش الإنسان على سطح القمر
- ٥ ( ) يبقى شكل القمر واحدًا على مدار الشهر
- ٦ ( ) نصوم شهر رمضان عند رؤية الهلال.
- ٧ ( ) القمر يصبح بدرًا في منتصف الشهر
- ٨ ( ) يراقب الناس ظهور الهلال لمعرفة حلول عيدي الفطر و الأضحى.
- ٩ ( ) للقمر أشكال مختلفة
- ١٠- ( ) يكون القمر في منتصف الشهر هلالاً

=====

**أكمل العبارة باختيار الكلمة المناسبة مما بين القوسين**

( ليلاً- الهلال- النجوم - الأرض -ضوء )

- ١ نرى القمر في السماء .....
- ٢ في الليل نرى .....القمر
- ٣ القمر نجم يدور حول .....
- ٤ في الليل نرى.....والقمر
- ٥ من أشكال القمر البدر و .....

=====

**اكتب اسم وجه القمر**





أكمل أشهر السنة القمرية بالترتيب: -

محرم ، صفر ، ربيع الأول ، .....

..... ، .....

.....، ذو الحجة

### الدرس الثالث : الجهات الأربع :

ضع علامة ( √ ) أمام العبارة الصحيحة و علامة ( x ) أمام العبارة غير الصحيحة

- ١ ( ) يقع البحر الميت غرب فلسطين
- ٢ ( ) تساعد البوصلة في تحديد اتجاه القبلة
- ٣ ( ) نستخدم البوصلة في تحديد الجهات الأربع
- ٤ ( ) يهتم المسلمون بمعرفة وقت شروق و غروب الشمس في شهر رمضان
- ٥ ( ) تشرق الشمس من جهة الشرق
- ٦ ( ) يستخدم قبطان السفينة الساعة في تحديد الجهات الاربع
- ٧ ( ) تقع مدينة القدس وسط فلسطين
- ٨ ( ) نسمي الجهة التي تقع في الجزء السفلي من الخريطة شمال
- ٩ ( ) يظهر في خريطة فلسطين ثلاث جهات أصلية
- ١٠ - ( ) استعان الإنسان القديم بالنجوم في تعيين الجهات الأربعة

اختر الإجابة الصحيحة مما بين القوسين

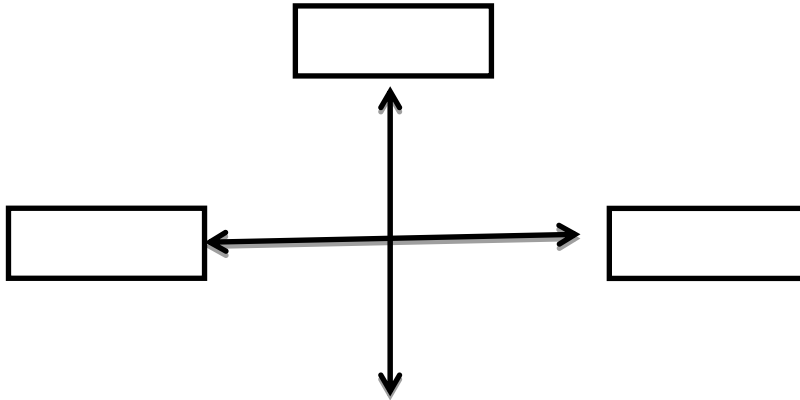
- ١ تشرق الشمس صباحا من جهة ..... ( الشرق - الغرب - الشمال )  
٢ - عدد الجهات الاصلية ..... ( ثلاثة - أربعة - خمسة )  
٣ - تغيب الشمس مساء من جهة ..... ( الشرق - الغرب - الجنوب )  
٤ - تقع صحراء النقب ..... فلسطين ( شمال - جنوب - غرب )  
٥ - تشرق فلسطين من جهة الشرق على البحر ..... ( الميت - المتوسط - الاحمر )
- =====

### صحح الكلمة التي تحتها خط

- ١ عدد الجهات الأصلية خمسة (.....)  
٢ تشرق الشمس من جهة الغرب (.....)  
٣ تقع صحراء النقب شمال فلسطين (.....)  
٤ تقع مدينة صفا جنوب فلسطين (.....)  
٥ تشرق فلسطين على البحر الميت من جهة الغرب (.....)
- =====

### اكتب الجهات الأصلية على الرسم

( الشرق - الشمال - الجنوب - الغرب )



اذكر السبب: -

١ يستخدم الصيادين البوصلة كثيراً و لا يتحركون بدونها

السبب/.....

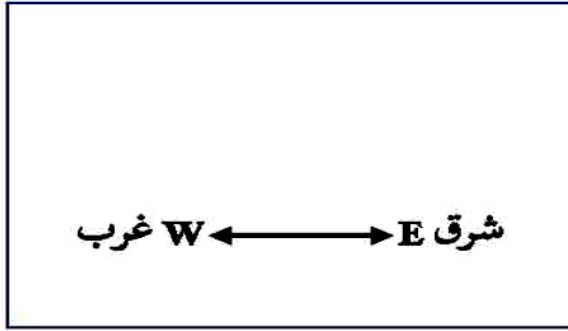
٢ ترسم على الخرائط أسهم أربعة على شكل إشارة زائد

السبب/.....

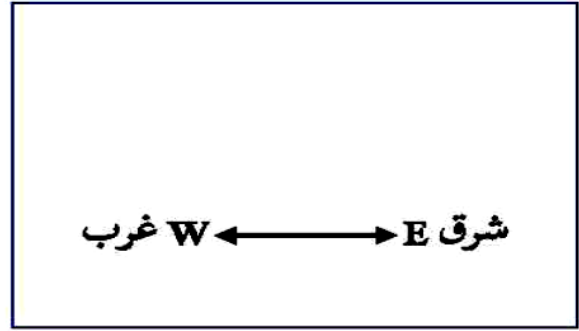
٣ تهتم كثيراً لمعرفة وقت غروب الشمس أيام شهر رمضان المبارك

السبب/.....

ارسم الشمس في الجهة الصحيحة حسب الوقت المحدد :



وَقْتُ الْغُرُوبِ



وَقْتُ الشُّرُوقِ

اكتب أسماء الجهات الأربع في المكان المخصص :

