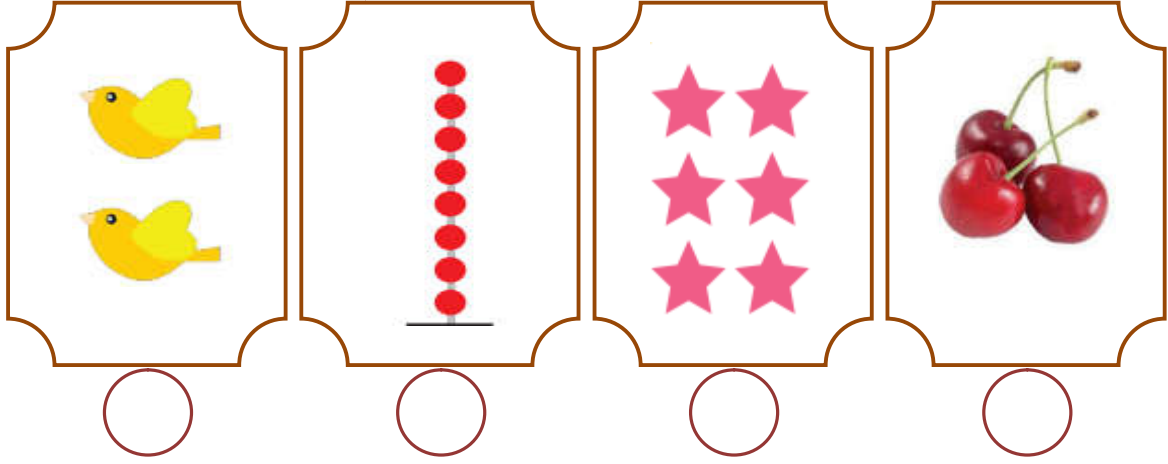



الدرجة

اسم الطالب: .....

السؤال الأول: أكتب عدد العناصر لكل مجموعة ( علامتان علامتان )



السؤال الثاني: أرسم دائرة حول العدد الدال على المجموعة ( علامتان )

19 - 18 - 17	2 - 20 - 10	9 - 20 - 13	17 - 16 - 6

السؤال الثالث: أرسم عناصر بحسب العدد المطلوب ( ثلاث علامتان )

6	12	11

السؤال الرابع: ( علامة واحدة )

ب- أضع دائر حول أصغر عدد:

8	16	12
---	----	----

أ- أضع دائر حول أكبر عدد:

9	10	0
---	----	---

السؤال الخامس: ( علامتان )

أ - أكتب العدد التالي:

٢٠		١٩		١٢		٢	
----	--	----	--	----	--	---	--

السؤال السادس: ( علامتان )

أ - أرتب الأعداد تصاعدياً:

٠	٩	١	٣	٨	٧
.....	.....	.....	.....	.....	.....

السؤال السابع: ( ست علامات )

- ١ - الجهة المقابلة لجهة الشمال هي { الجنوب - الغرب - الشرق }
- ٢ - عدد أصابع يديّ الإنسان { ١٥ - ١٠ - ٢٠ }
- ٣ - ( ٣ = ١ - ٤ ) المطروح منه هو العدد { ٣ - ٤ - ١ }
- ٤ - ( ٧ = ٤ + ٣ ) ناتج الجمع هو العدد { ٣ - ٤ - ٧ }
- ٥ - آخر يوم في الأسبوع { الإثنين - الثلاثاء - الجمعة }
- ٦ - العدد الترتيبي للعدد تسعة { السادس - التاسع - السابع }

السؤال الثامن: أضع إشارة ( < ) أو ( > ) أو ( = ) في  ( علامتان )

١٨	<input type="radio"/>	سبعة عشر	عشرة	<input type="radio"/>	٢٠
١ عشرات	<input type="radio"/>	٨ أحاد	١٢	<input type="radio"/>	١٠ + ٢

السؤال التاسع: أكمل المتتالية بالأعداد الناقصة ( علامتان )

١٩		١٧		١٥			١٢	١١
----	--	----	--	----	--	--	----	----





السؤال العاشر: أكتب العدد المناسب في  ( ثلاث علامات )

٥	٦	٤	٧	<input type="checkbox"/>	٤
١ -	٦ -	<input type="checkbox"/> -	٤ -	٠ +	٤ +
<input type="checkbox"/>	<input type="checkbox"/>	<input type="checkbox"/>	<input type="checkbox"/>	٥	<input type="checkbox"/>

السؤال الحادي عشر: أكتب مكونات كل عدد ( ثلاث علامات )

١٢	٤	٢٠




السؤال الثاني عشر: أكتب العدد المناسب في  بحسب الرسم (علامتان)

									
<input type="text" value="٥"/>	=	<input type="text" value="٣"/>	+	<input type="text"/>	<input type="text" value="٠"/>	=	<input type="text" value="٤"/>	-	<input type="text"/>


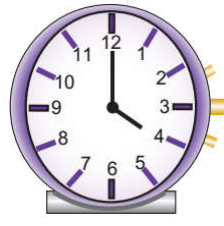


السؤال الثالث عشر: أكتب العدد المناسب في : ( ثلاث علامات )

$٨ = \square + ٤$	$٥ = \square + ٣$	$\square = ٤ + ٠$
$٦ = ١ - \square$	$١ = \square - ٢$	$\square = ٢ + ٥ + ٣$

السؤال الرابع عشر: أجب حسب المطلوب ( ثلاث علامات )

حديقة حيوانات بها سبعة نمور و ثلاثة أسود. كم يزيد عدد النمر عن عدد الأسود؟ الحل/.....
عند سماح  و عند دينا  و عند رشيد  كم مجموع الكتب التي يمتلكها رشيد و دينا و سماح؟ الحل/.....

السؤال الخامس عشر: أجب حسب المطلوب: ( أربع علامات )

ج- أرسم عقربي الساعة	ب- أكتب التوقيت	الطائرة ( فوق - تحت ) السحاب	حوط الأقصر
			
السابعة	<input type="text"/>		



أطيب الأمنيات بالنجاح و التفوق

