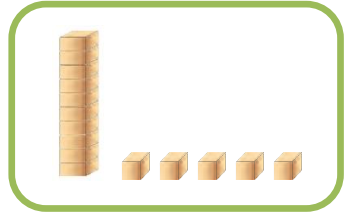

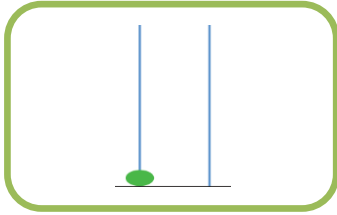


السؤال الأول: أكتب العدد الدال على عناصر المجموعة : (علامتين)



السؤال الثاني: أكمل المتتالية بالأعداد الناقصة: (علامتين)

١٧

١٦

١٣

١٠

٩

السؤال الثالث: أرتب الأعداد حسب المطلوب (علامتين)

ب- أرتب تنازلياً

٨	١١	٠	٢٠

ب- أرتب تصاعدياً

٦	٢	١٩	٩

السؤال الرابع: أضع دائرة حول الإجابة الصحيحة (علامتين)



١٣ •

١٧ •

١٦ •

١٩ •

(١) ٧ أحاد و ١ عشرات

(٢) العدد التالي للعدد (١٢)

(٣) العدد السابق للعدد (٢٠)

(٤) $10 + 6 =$

السؤال الخامس: أختار الإجابة الصحيحة مما بين القوسين (علامتين)

(١) رقم الآحاد في العدد (١٤) هو (٤ * ١)

(٢) رقم العشرات في العدد (٢٠) هو (٢ * ٠)

(٣) القيمة المنزلية للرقم الذي تحته خط (٣ ١) هي (٣٠ * ٣)

(٤) القيمة المنزلية للرقم الذي تحته خط (٦ ١) هي (١٠ * ١)

أطيب الأمنيات بالنجاح و التوفيق