

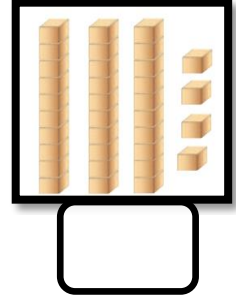
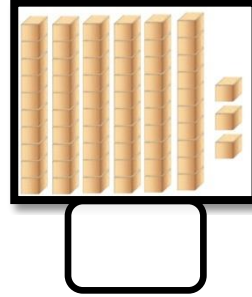
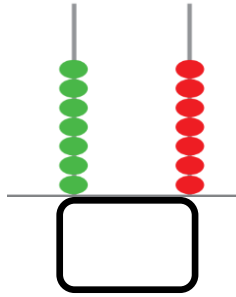
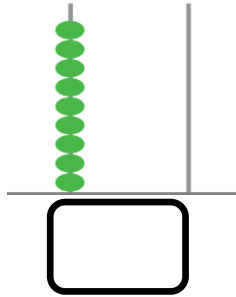
ورقة عمل تقييمية في مادة الرياضيات - للصف الأول الأساسي

شهر إبريل (الفصل الثاني) العام الدراسي ٢٠١٨-٢٠١٩ م

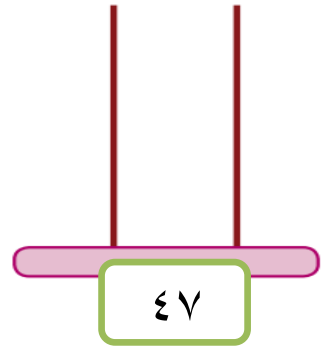
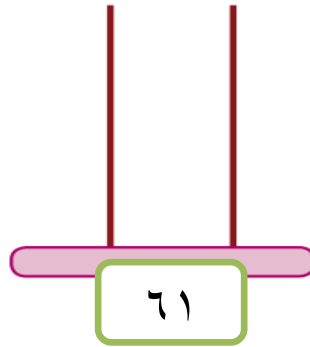
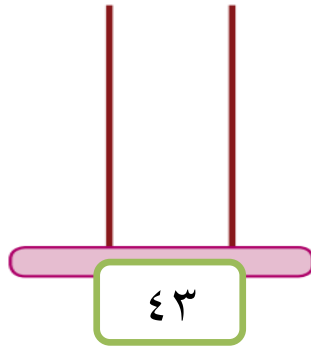
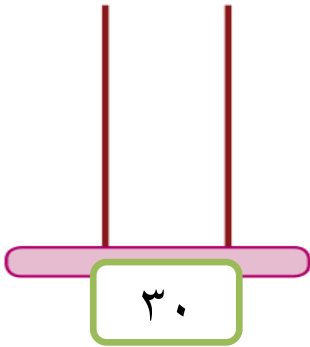
الدروس / من درس الطرح ضمن ١٨ ثالثاً - الأعداد من ٣٠ - ٩٩

اسم الطالب/ة: التقدير /

السؤال الأول: أكتب العدد المناسب:



السؤال الثاني: أمثل الأعداد على المعداد:



السؤال الثالث: أضع إشارة (<) أو (>) أو (=) في □ :

٢٦ □ اثنان و ستون	٨٧ □ سبع و ثمانون	٥٤ □ ٤٠ + ٥
□ ٥٠ + ٦ خمس و ستون	٧٤ □ ٤ + ٧٠	□ ٨٨ ثمانون

السؤال الرابع:

أرتب الأعداد تنازلياً:
٦٦ ٧٠ ٨٢ ٢٣
□ □ □ □

(ب)

أرتب الأعداد تصاعدياً:
٤٦ ٩٠ ٩ ٧٤
□ □ □ □

السؤال الخامس: أكمل المتتاليات بالأعداد الناقصة:

٥٣ □ ٥١ □ ٤٩ □ ٤٦ □ ٤٥

السؤال السادس: أكتب العدد بالرموز:

..... = ثلاث وثمانون = = ٩ + ٥٠ = ٨ عشرات =
------------------------	----------------	-------------------

السؤال السابع:

ب- أكتب العدد السابق:

أ- أكتب العدد التالي:

٥٦	
----	--

٧٠	
----	--

	٨٥
--	----

	٢٩
--	----

السؤال الثامن: أضع دائرة حول القيمة المنزلية للرقم الذي تحته خط:

<u>٥٤</u>
٥٠ ٥

<u>٩١</u>
٩٠ ٩

<u>٦٢</u>
٦٠ ٦

<u>٤٤</u>
٤٠ ٤

السؤال التاسع: أ) أكتب العدد المناسب في □: □



□ = ١١ - ١٦
٣ = ١٥ - □

١ ٤
٢ -
□

ب) قصة بها ١٦ صفحة، قرأت هالة منها ٩ صفحات. كم صفحة لم تقرأها هالة؟

الحل:

أطيب الأمنيات بالنجاح والتوفيق