



الاسم:
الصف: الثاني الأساسي " ب "
المادة: الرياضيات
التاريخ:

ورقة عمل تقويمية لشهر فبراير

الهدف : أن يجد الطالب ناتج جمع وطرح الأعداد ضمن (999)

نشاط 1. هيا بنا نجد الناتج أفقياً:

$$\boxed{} = 278 - 544$$




$$\boxed{} = 91 - 603$$



$$\boxed{} = 241 + 108$$

$$\boxed{} = 428 + 219$$

نشاط 2. هيا بنا نجد الناتج عمودياً:



نشاط 3. عدد طلاب مدرسة شهداء الشيوخ الأساسية للبنين 320 طالباً، وعدد طالبات مدرسة بنات الشيوخ

الأساسية 254 طالبة.

أ. كم عدد طلاب مدرسة شهداء الشيوخ الأساسية للبنين؟

ب. ما مجموع عدد الطلاب والطالبات في كلا المدرستين؟

ت. كم يزيد عدد طلاب مدرسة شهداء الشيوخ الأساسية للبنين عن عدد طالبات مدرسة بنات الشيوخ الأساسية؟

انتهت الأنشطة

معلم المادة: أ. إبراهيم محمود دباس