




الوحدة الثامنة - الدرس الثالث (المقارنة بين عددين)
ورقة عمل رقم (١) في مادة الرياضيات للصف الأول الأساسي - الفصل الدراسي الثاني

❖ أكتب عدد عناصر كل مجموعة ثم أضع إشارة < أو > أو = في :



❖ أرسم عناصر لتكون المقارنة صحيحة:



❖ أضع إشارة (<) أو (>) أو (=) في :

$٤ + ٢$

$٣ + ٦$

٥

$٣ + ٢$

١٢

١٦

٩

$٢ - ٧$

$٢ + ٠$

$٠ - ٢$

$١ - ١٠$

$١ + ١٠$

❖ أكتب عدداً مناسباً داخل كل مستطيل لتصبح المقارنة صحيحة:

<

١٠

>

١٤

<

١٢

>

=

$١٠ + ١$

٢٠

=