

مدرسة ذكور ابن خلدون الإعدادية للاجئين

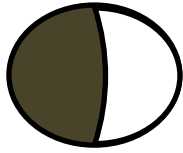
امتحان نصف الفصل الثاني لمادة العلوم العامة للصف الرابع الأساسي

الاسم: ..... الشعبة: ..... العلامة: ٢٠

السؤال الأول: ضع دائرة حول رمز الإجابة الصحيحة فيما يلي: ( ٥ علامات )

- ١- تقاس كمية الأمطار بوحدة :  
أ- السنتيمتر مربع. ب- المليمتر مربع. ج- المليمتر. د- المليلتر.  
٢- جميع ما يلي من أضرار الأمطار ما عدا :  
أ- حدوث الفيضانات. ب- ري المزروعات. ج- تدمير المنازل. د- حدوث الجفاف.  
٣- الكوكب القريب من الشمس هو :  
أ- الزهرة. ب- المشتري. ج- المريخ. د- أورانوس.  
٤- مصدر الضوء الذي يصلنا من القمر هو :  
أ- الأرض. ب- القمر. ج- الشمس. د- المشتري.  
٥- النبتة الوطنية الفلسطينية المعتمدة لشعار الكشافة في فلسطين :  
أ- النرجس. ب- الأقحوان. ج- عصا الراعي. د- سوسنة فقوعة.

السؤال الثاني: ضع علامة (✓) أمام العبارة الصحيحة وعلامة (×) أمام العبارة الخاطئة: ( ٥ علامات )



- ١- ( ) تتميز فلسطين بتشابه درجات الحرارة في مدنها.  
٢- ( ) سطح كوكب الأرض أكثر حرارة من سطح كوكب المريخ.  
٣- ( ) طور القمر في الشكل المقابل يُمثل الأهدب.  
٤- ( ) من أسباب التنوع الحيوي في فلسطين اختلاف البيئات الموجودة.  
٥- ( ) صيد الحيوانات في مواسم التكاثر يؤدي إلى زيادة عددها.

السؤال الثالث: اكتب المفهوم العلمي الذي تدل عليه كل عبارة من العبارات التالية: (علامة ونصف)

- ١- ( ) كل ما ينزل على سطح الأرض من ماء مثل المطر والبرد والتلج.  
٢- ( ) الشمس والكواكب التي تدور حولها في مسار بيضاوي.  
٣- ( ) جميع أشكال الحياة على سطح الأرض من حيوانات ونباتات وطيور وأسماك.

السؤال الرابع: ماذا يحدث في كل حالة من الحالات التالية: (علامة ونصف)

- ١- قلت كمية الأمطار عن النسبة المتوقعة لهذا العام. ....  
٢- لم تدور الأرض حول محورها ( نفسها ). ....  
٣- قُطعت الأشجار في الغابات. ....

**السؤال الخامس: علل لما يأتي:**

( علامتان )

١- حدوث ظاهرة الفصول الأربعة على سطح الأرض.

.....

٢- انقراض بعض الحيوانات البرية في فلسطين.

.....

**السؤال السادس: قارن بين كل مما يأتي:**


( علامتان )

الأرض	الشمس	وجه المقارنة
		وجود الحياة

سرعة الرياح	درجة الحرارة	وجه المقارنة
		أداة القياس

**السؤال السابع: أجب عن الأسئلة التالية:**

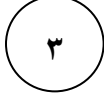
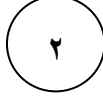
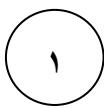
( ٣ علامات )



اسم طور القمر: .....

اسم الجهاز: .....

الاستخدام: .....



- الكوكب الذي مداره البيضاوي كبير رقم .....

- الكوكب الذي درجة حرارته عالية رقم .....

- الكوكب الذي درجة حرارته منخفضة رقم .....

تمنياتي للجميع بالنجاح والتفوق

أ. جهاد مجدي النحال