

بسم الله الرحمن الرحيم

الصف : الثاني الأساسي

المبحث : الرياضيات

التاريخ :

اليوم :

الاسم : .....



نهاية الفصل الثاني

دولة فلسطين

وزارة التربية والتعليم العالي

مديرية التربية والتعليم

المدرسة: .....

ورقة عمل / تذكير وتقويم

القسم الأول : عزيزي الطالب ضع  حول ما تراه إجابة مناسبة وصحيحة لكل سؤال : **ملتقى تعليم فلسطين**

١ - عدنان مجموعهما 500 هما :

90+400

20+ 480

30+480

٢ - الرقم 3 في العدد 345 موجود في منزلة :

المئات

العشرات

الألوف

٣ - أصغر عدد من بين الأعداد التالية هو :

119

109

190

٤ - العدد 201 يكتب بالكلمات ..

مئتان وعشرة

مئة واثنان

مئتان وواحد

٥ - أكبر عدد من بين الأعداد التالية هو :

340

430

330

٦ - العدد 4 في جملة الضرب (  $8 = 4 \times 2$  ) يُمثل :

نتاج الضرب

المضروب فيه

المضروب

٧ - عملية الجمع المتكرر هذه (  $6 + 6 + 6 + 6$  ) نعبر عنها بعملية الضرب ..

$6 \times 6$

$4 \times 6$

$6 \times 4$

٨ - عندما نقول " وزع خالد 9 شواقل على اخوته الثلاثة " فإن المقسوم عليه هو :

3

9

6

٩ - عندما نقول " أكل حسن تفاحة من صحن فيه أربع تفاحات " فإن الكسر الذي يمثلها هو :

رُبع

ثلاثة أرباع

رُبعان

١٠ - الساعة =

20 دقيقة



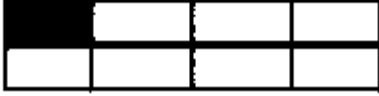
60 دقيقة

30 دقيقة

القسم الثاني : أكمل حل المسائل الآتية :

$$\begin{array}{|c|} \hline 12 \\ \hline 4 \\ \hline \\ \hline \end{array} \div \begin{array}{|c|} \hline 3 \\ \hline 2 \\ \hline \\ \hline \end{array} \times \begin{array}{|c|} \hline 413 \\ \hline 111 \\ \hline \\ \hline \end{array} + \begin{array}{|c|} \hline 312 \\ \hline 125 \\ \hline \\ \hline \end{array}$$

نشاط 2 : هيا نكمل جدول الكسور التالي :

رسمٌ يمثّلُ الكسر	رمزُ الكسر	الكسرُ لفظياً
	$\frac{1}{4}$	رُبْعٌ
		خُمْسٌ
		

نشاط 3 / أجب حسب المطلوب :

اقرأ الساعة واكتب الوقت :



طولُ القلم = \_\_\_\_\_ سم



الساعة  والدقيقة

معلم/ة المادة :