

الوحدة الأولى

" الاقترانان "

الدرس الأول :- الزاوية في الوضع القياسي

السؤال الأول / ضع علامة (✓) امام العبارة الصحيحة وعلامة (X) امام العبارة الخاطئة :

١. () زاوية الارتفاع هي الزاوية المحصورة بين المستوى الأفقي للنظر وخط البصر فوق المستوى الأفقي .
٢. () في الزاوية الموجهة إذا كان اتجاه الدوران مع عقارب الساعة يكون قياس الزاوية موجب .
٣. () الزاوية في الوضع القياسي يكون رأسها نقطة الأصل و ضلع الابتداء هو محور السينات .
٤. () محورا الاحداثيات يقسمان المستوى إلى أربعة أرباع .
٥. () كل زاوية ربعية تعتبر زاوية قياسية.
٦. () إذا كانت ه زاوية في الوضع القياسي وكانت $0 < ٢٧٠ < ه < ٣٦٠$ ، فإن ضلع انتهائها يقع في الربع الرابع .
٧. () الزاوية ٢٩٥ تقع في الربع الثالث .
٨. () الزاوية ٧٥ تقع في الربع الرابع .

السؤال الثاني :- / أضع دائرة حول رمز الإجابة الصحيحة في كل مما يلي :

١. هي الزاوية المحصورة بين المستوى الأفقي للنظر وخط البصر تحت المستوى الأفقي .
أ- زاوية الارتفاع ب- زاوية الانخفاض ج- الزاوية الموجهة د- ليس مما سبق
٢. تكون الزاوية الموجهة موجبة إذا كان دوران ضلع الابتداء
أ- مع عقارب الساعة ب- عكس عقارب الساعة ج- لا يمكن التحديد د- أ + ب
٣. يتم تحديد الربع الذي تقع فيه الزاوية في وضعها القياسي اعتماداً على
أ- محور السينات ب- محور الصادات ج- ضلع الابتداء د- ضلع الانتهاء
٤. إذا كانت ه زاوية في الوضع القياسي وكانت $0 < ه < ٩٠$ ، فإن ضلع انتهائها يقع في الربع
أ- الأول ب- الثاني ج- الثالث د- الرابع
٥. إذا كانت ه زاوية في الوضع القياسي وكانت $١٨٠ < ه < ٢٧٠$ ، فإن ضلع انتهائها يقع في الربع
أ- الأول ب- الثاني ج- الثالث د- الرابع

٦. تسمى الزاوية في الوضع القياسي بانها زاوية ربعية إذا انطبق ضلع انتهائها على محور

أ- السينات ب- الصادات الموجب ج- الصادات السالب د- جميع ما سبق

٧. أي الزوايا القياسية الآتية تعتبر زاوية ربعية

أ- 170° ب- 270° ج- 330° د- 200°

٨. الزاوية 235° تقع في الربع

أ- الأول ب- الثاني ج- الثالث د- الرابع

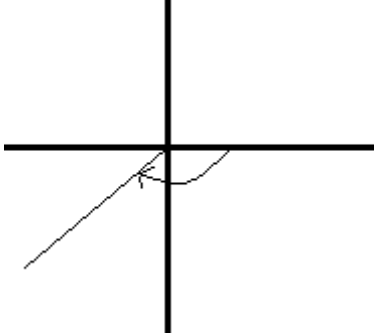
٩. الزاوية 400° تقع في الربع

أ- الأول ب- الثاني ج- الثالث د- الرابع

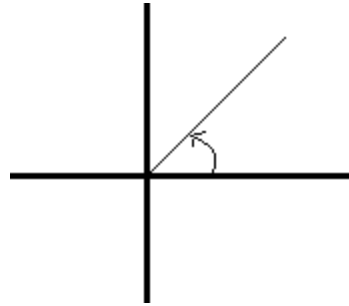
١٠. الزاوية 540° تقع في الربع

أ- الأول ب- الثاني ج- الثالث د- غير ذلك

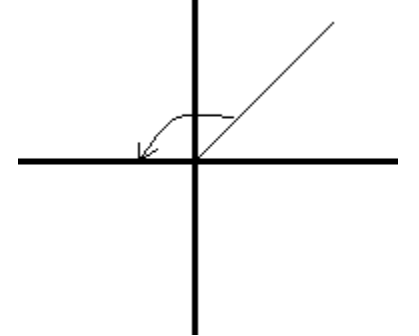
السؤال الثالث :- ميز أي الزوايا الآتية قياسية وأيهما ليست قياسية .



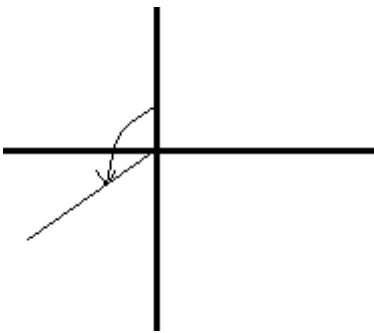
" قياسية - ليست قياسية "



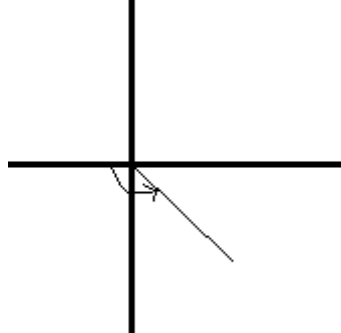
" قياسية - ليست قياسية "



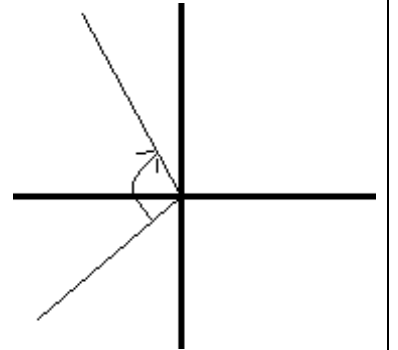
" قياسية - ليست قياسية "



" قياسية - ليست قياسية "




" قياسية - ليست قياسية "

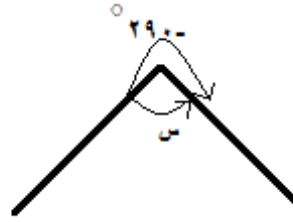


" قياسية - ليست قياسية "

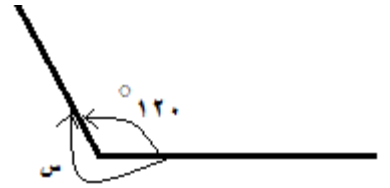
السؤال الرابع :- أوجد قيمة س التي تمثل قياس الزاوية في كل شكل من الأشكال الآتية .



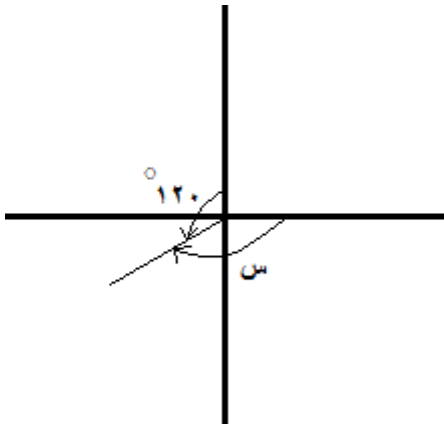
س =



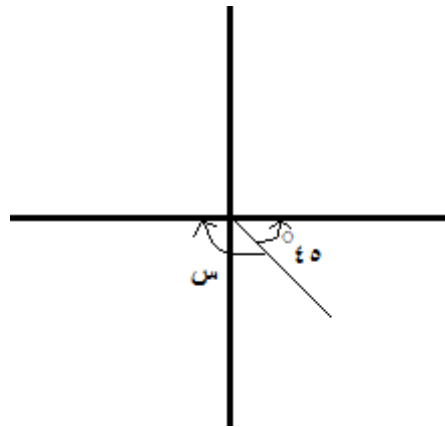
س =



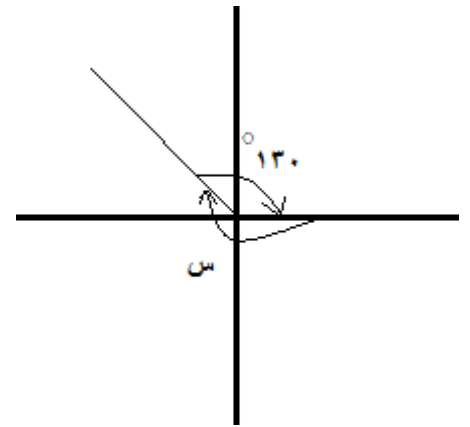
س =



س =



س =



س =