



مادة إثرائية في الدراسات الاجتماعية

للفصل التاسع

" الفصل الثاني "

إعداد المعلمة

تهاني خليل محمد حسونة

تحت إشراف

نائبة مديرة المدرسة

نادية دهمان

مديرة المدرسة

ناريمان المدهون

المختص التربوي

فريد أحمد

٢٠١٩ - ٢٠٢٠ م

الوحدة الثالثة
عالم متنوع ومتغير

الدرس الأول تنوع البيئة الطبيعية

السؤال الأول / أكتب ما تشير إليه العبارات التالية :

١. (الوسط الذي تعيش فيه الكائنات الحية وغير الحية وتتفاعل مع بعضها البعض في علاقات متبادلة.)
٢. (موقع الدولة بالنسبة لخطوط الطول ودوائر العرض.)
٣. (موقع الدولة بالنسبة للقارات أو الدول والمسطحات المائية.)
٤. (بيئة تمتد بين دائرتي عرض (٠ - ٣٠) شمال وجنوب خط الاستواء.)
٥. (بيئة تمتد بين دائرتي عرض (٣٠ - ٦٠) شمال وجنوب خط الاستواء.)
٦. (بيئة تمتد بين دائرتي عرض (٦٠ - ٩٠) شمال وجنوب خط الاستواء.)
٧. (حالة الجو لمكان ما خلال فترة زمنية قصيرة من يوم لأسبوع لشهر.)
٨. (حالة الجو لمكان ما خلال فترة زمنية طويلة من سنة فأكثر.)
٩. (منطقة جغرافية تتميز عن غيرها في مناطق العالم في الخصائص المناخية والنباتية والحيوانية والاقتصادية.)
١٠. (مادة عضوية ناجمة عن تحلل أوراق الأشجار فتزيد من خصوبة التربة ونمو الغابات الكثيفة.)
١١. (أمطار تتشكل نتيجة لصعود الهواء الرطب إلى أعلى لارتفاع درجات الحرارة ثم يبرد في طبقات الجو العليا ويتكاثف ويسقط على شكل أمطار قوية.)
١٢. (بيئة تمتد بين دائرتي عرض (٣٠ - ٤٥) شمال وجنوب خط الاستواء.)
١٣. (بيئة تمتد بين دائرتي عرض (٤٥ - ٦٠) شمال وجنوب خط الاستواء.)
١٤. (رياح دائمة منتظمة تسبب في سقوط الأمطار شتاء بعد مرورها على المسطحات المائية وتشبعها ببخار الماء.)
١٥. (رياح غير دائمة وغير منتظمة تهب في اتجاه محدد.)
١٦. (رياح غير دائمة تهب على فلسطين في أواخر فصل الربيع وتسبب في ارتفاع درجات الحرارة والجفاف.)
١٧. (مساحة من اليابس تحيط بها المياه من ثلاث جهات تتكون من أربع دول وهي (السويد - النرويج - فنلندا-الدنمرك).)
١٨. (أكبر جزيرة في العالم تقع في أمريكا الشمالية وترتبط سياسياً وتاريخياً بقارة أوروبا.)
١٩. (المناطق الأقرب إلى البيئات الدافئة.)
٢٠. (المناطق الأقرب إلى القطبين.)

السؤال الثاني/ أكمل الفراغات التالية :

١. تتمثل الكائنات الحية في _____ ، _____ ، _____ ، بينما من الكائنات الغير الحية _____ ، _____ ، _____ .
٢. قسم علماء الجغرافيا سطح الأرض إلى _____ بيئات رئيسية وهي _____ ، _____ ، _____ .
٣. من أنواع أقاليم البيئة الحارة _____ ، _____ ، _____ ، _____ .
٤. تمتد البيئة الاستوائية بين دائرتي عرض _____ ، _____ شمال وجنوب خط الاستواء.
٥. تتمثل المناطق الاستوائية في قارة آسيا _____ ، _____ ، _____ ، _____ وفي أفريقيا نهر _____ بينما في أمريكا الجنوبية _____ ، _____ ، _____ .
٦. تبلغ درجات الحرارة في البيئة الاستوائية _____ م.
٧. تسقط الأمطار _____ على البيئة الاستوائية بكمية _____ ملم/السنة.
٨. تتمثل نباتات البيئة الاستوائية في _____ ، _____ .
٩. من أشجار البيئة الاستوائية _____ ، _____ .
١٠. أهم الحيوانات التي تعيش في البيئة الاستوائية _____ ، _____ ، _____ .
١١. تمتد البيئة المعتدلة بين دائرتي عرض _____ ، _____ شمال وجنوب خط الاستواء.
١٢. صنفت البيئات المعتدلة إلى قسمين هما _____ ، _____ .
١٣. من أقاليم البيئة المعتدلة الدافئة _____ ، _____ ، _____ بدوائر عرض _____ شمال وجنوب خط الاستواء.
١٤. من أقاليم البيئة المعتدلة الباردة _____ ، _____ ، _____ بدوائر عرض _____ شمال وجنوب خط الاستواء.
١٥. تقع بيئة البحر المتوسط بين دائرتي عرض _____ ، _____ شمال وجنوب خط الاستواء.
١٦. تقع بيئة البحر المتوسط في _____ قارة آسيا و _____ قارة أفريقيا و _____ قارة أوروبا.
١٧. تقع كل من _____ ، _____ ، _____ ، _____ في قارة آسيا ببيئة البحر المتوسط.
١٨. تقع كل من _____ ، _____ ، _____ ، _____ في قارة أوروبا ببيئة البحر المتوسط.
١٩. من المناطق الأفريقية في بيئة البحر المتوسط _____ ، _____ ، _____ ، _____ ، _____ .
٢٠. تتمثل أراضي البحر المتوسط في ولاية _____ بأمريكا الشمالية وساحل _____ بأمريكا الجنوبية و _____ بأستراليا.
٢١. مناخ البحر المتوسط _____ و _____ صيفا و _____ و _____ شتاء.
٢٢. لا تزيد معدلات درجات حرارة البحر المتوسط صيفاً عن _____ م وتنخفض إلى _____ م شتاء وأحياناً إلى _____ م.
٢٣. تتعرض بيئة البحر المتوسط إلى نوعين من الرياح هما _____ ، _____ .
٢٤. تنمو أشجار _____ ، _____ ، _____ ، _____ ، _____ في بيئة البحر المتوسط.

٢٥. تعيش الكثير من الحيوانات البرية في بيئة البحر المتوسط مثل _____ ، _____ ، _____ .
٢٦. تقع جبال _____ في المغرب العربي وتقع هضبة _____ في جنوب أفريقيا.
٢٧. يطلق علي البيئة القطبية اسم _____ .
٢٨. تمتد البيئة الباردة بين دائرتي عرض _____ ، _____ شمال وجنوب خط الاستواء.
٢٩. تتمثل البيئة الباردة في الأطراف _____ من سيبيريا بقارة آسيا وجزيرة _____ و _____ شمال أوروبا وشمال _____ و _____ في أمريكا الشمالية.
٣٠. تنقسم البيئة الباردة إلى قسمين هما _____ و _____ .
٣١. يستمر فصل شتاء التندرا لمدة _____ أشهر وتنخفض فيها درجات الحرارة إلي _____ م تحت الصفر.
٣٢. تسقط الأمطار والثلوج في بيئة التندرا بفصل _____ .
٣٣. من الحيوانات آكلة الأعشاب في إقليم التندرا _____ و _____ و _____ ومن حيوانات آكلة اللحوم _____ و _____ .
٣٤. تنمو غابات _____ في سيبيريا.
٣٥. من أهم النباتات المزهرة في إقليم التندرا _____ و _____ .
٣٦. تعيش جماعة الزاندي في دولة _____ و حوض _____ .
٣٧. من ابرز حرف جماعة الزاندي _____ و _____ و _____ و _____ و _____ .
٣٨. تشتهر البيئة الاستوائية بمعادن _____ و _____ و _____ .
٣٩. من المحاصيل الزراعية الحديثة في البيئة الاستوائية _____ و _____ و _____ .
٤٠. اشتهرت اندونيسيا بحرفة _____ و _____ .
٤١. من صناعات اندونيسيا _____ و _____ و _____ .
٤٢. يمارس سكان البحر المتوسط حرفة _____ ، _____ ، _____ ، _____ ، _____ ، _____ .
٤٣. أهم المحاصيل الزراعية في بيئة البحر المتوسط _____ ، _____ ، _____ ، _____ ، _____ ، _____ .
٤٤. من الصناعات البسيطة في بيئة البحر المتوسط _____ ، _____ ، _____ بينما من الصناعات الثقيلة _____ ، _____ ، _____ ، _____ .
٤٥. تشتهر السهول الساحلية في فلسطين بزراعة _____ والأغوار بزراعة _____ .
٤٦. انتشرت حرفة الرعي وتربية الماشية في _____ و _____ بفلسطين.
٤٧. أهم الحرف التي مارسها سكان فلسطين _____ ، _____ ، _____ ، _____ ، _____ .
٤٨. أهم الحرف التي مارسها سكان البيئة القطبية _____ ، _____ ، _____ ، _____ ، _____ .
٤٩. من الأمثلة على الصيد البحري في إقليم التندرا _____ ، _____ ، _____ بينما الصيد البري _____ و _____ .
٥٠. تشتهر التندرا بمعادن _____ ، _____ ، _____ .
٥١. الكثافة السكانية في البيئة الباردة _____ .

٥٢. تعتبر _____ من النماذج البشرية على البيئة الباردة.

السؤال الثالث/ ضع علامة (√) أمام العبارة الصحيحة وعلامة (x) أمام العبارة الخاطئة:

١. () من الكائنات الحية الماء والهواء والترربة.
٢. () تتفاعل الكائنات الحية مع بعضها البعض في علاقات متبادلة.
٣. () تقع فلسطين في البيئة المعتدلة.
٤. () تتمثل أقاليم البيئة الحارة في الإقليم المداري و الصحراوي والموسمي فقط.
٥. () تقع كل من قارة آسيا وأوروبا وأمريكا الشمالية والجنوبية في البيئة الحارة.
٦. () تمتد البيئة الاستوائية بين دائرتي عرض ٠ - ٥ شمال وجنوب خط الاستواء.
٧. () تتمثل البيئة الاستوائية في حوض نهر الأمازون بأفريقيا وحوض نهر الكونغو بأمريكا الجنوبية.
٨. () تتمثل البيئة الاستوائية في جنوب غرب قارة آسيا.
٩. () تقع الجزر الإندونيسية في بيئة البحر المتوسط.
١٠. () الحرارة مرتفعة والأمطار غزيرة طوال العام في البيئة الاستوائية.
١١. () تنمو أشجار الأبنوس والبلوط في البيئة الاستوائية.
١٢. () تعتبر البيئة الاستوائية أكثف غابات العالم.
١٣. () تعيش الحيوانات المتسلقة والزواحف والحشرات في البيئة الاستوائية.
١٤. () تسقط الأمطار الإعصارية على البيئة الاستوائية بكمية ٢٠٠ ملم/السنة.
١٥. () تنقسم البيئة المعتدلة إلى أقاليم معتدلة دافئة ومعتدلة باردة.
١٦. () من أقاليم البيئة الدافئة إقليم البحر المتوسط والصيني واللورنسي.
١٧. () تقع بيئة البحر المتوسط بين دائرتي عرض ٣٠-٤٠ شمال وجنوب خط الاستواء.
١٨. () تقع قارة أنتاركتيكا في بيئة البحر المتوسط.
١٩. () تتنوع مظاهر البحر المتوسط من سهول وجبال وهضاب.
٢٠. () تزيد درجات حرارة البحر المتوسط صيفا إلى ١٠م.
٢١. () تنخفض درجات الحرارة في بيئة البحر المتوسط شتاء بعد مرورها بالمنخفضات القطبية إلى ٢٧ م.
٢٢. () تسبب رياح الخماسين في ارتفاع درجات الحرارة في فلسطين.
٢٣. () تنمو أشجار البلوط والبطم والأرز والزيتون في بيئة البحر المتوسط.
٢٤. () تتمثل البيئة الباردة في القارة القطبية الجنوبية.
٢٥. () تسود الصحاري الجليدية في المناطق الأقرب للبيئات الدافئة.
٢٦. () تسقط الأمطار والثلوج في فصل شتاء التندرا.
٢٧. () تنخفض درجات حرارة التندرا صيفا إلى ٣٠-٤٠ م تحت الصفر.
٢٨. () فصل الشتاء في إقليم التندرا ثلاث شهور.

٢٩. () من حيوانات آكلة الأعشاب في البيئة القطبية الدبية ويومة الثلج.
٣٠. () تنمو غابات الصنوبر في دولة سيبيريا.
٣١. () تنمو أشجار الصنوبر في البيئة القطبية والاستوائية.
٣٢. () تسقط الأمطار التصاعدية على البيئة الاستوائية والمعتدلة.
٣٣. () تعيش جماعة الزاندي في وسط أفريقيا وحوض الكونغو.
٣٤. () يمارس جماعة الزاندي الأنشطة الاقتصادية التقليدية.
٣٥. () يستخدم جماعة الزاندي الأدوات الحديثة.
٣٦. () أقيمت المدرجات الزراعية على السفوح الجبلية في جزيرة جاوة.
٣٧. () تمارس حرفة الصيد في المناطق المطلة على البحر المتوسط.
٣٨. () تزرع محاصيل الزيتون والحمضيات والقطن والأرز في بيئة البحر المتوسط.
٣٩. () تشتهر بيئة البحر المتوسط بصناعة السفن والسيارات.
٤٠. () تقل الكثافة السكانية في البيئة الاستوائية والمعتدلة.
٤١. () من نماذج الحياة البشرية في البيئة الباردة الأسكيمو.
٤٢. () يمارس سكان الأسكيمو جمع بيض الطيور وصيد الأسماك.
٤٣. () يقوم سكان الاسكيمو بصيد الحيوانات البرية في فصل الصيف.
٤٤. () من أهم حيوانات التندرا الرنة والكاريبو.
٤٥. () يمارس سكان التندرا حرفة التعدين.

السؤال الرابع/ اختر الإجابة الصحيحة مما بين القوسين:

١. قسم علماء الجغرافيا سطح الأرض إلى بيئات طبيعية تمثلت في :
(أربع - ثلاث - خمس - ست بيئات)
٢. بيئة تمتد بين دائرتي عرض ٠-٣٠ شمال وجنوب خط الاستواء:
(الاستوائية - الحارة - الباردة - المعتدلة)
٣. بيئة تمتد بين دائرتي عرض ٣٠-٦٠ شمال وجنوب خط الاستواء:
(المعتدلة - البحر المتوسط - الحارة - الاستوائية)
٤. بيئة تمتد بين دائرتي عرض ٦٠-٩٠ شمال وجنوب خط الاستواء :
(الباردة - الحارة - الاستوائية - البحر المتوسط)
٥. جميع ما يلي من أقاليم البيئة المعتدلة الدافئة :
(الصحاري المعتدلة - الصيني - البحر المتوسط - اللورنسي)
٦. جميع ما يلي من أقاليم البيئة المعتدلة الباردة ما عدا :
(الصيني - اللورنسي - غرب أوروبا - القاري البارد)

٧. جميع ما يلي من أقاليم البيئة الحارة ما عدا :
(الموسمي - المداري - البحر المتوسط - الاستوائي)
٨. يتميز مناخ البيئة الاستوائية :
(حار صيفا - دافئ شتاء - مطر طوال العام - مطر صيفا)
٩. تبلغ درجة حرارة البيئة الاستوائية :
(٢٧ م - ١٠ م - ٢٥ م - ٣٠ م)
١٠. تبلغ كمية الأمطار الساقطة على البيئة الاستوائية :
(١٥٠ ملم - ٢٥٠ ملم - ٨٠٠ ملم - ٢٠٠٠ ملم/السنة)
١١. الأمطار التي تسقط على البيئة الاستوائية :
(الإعصارية - التصاعدية - التضاريسية - ليس مما سبق)
١٢. جميع ما يلي من قارات البيئة الاستوائية ما عدا :
(آسيا - أوروبا - أفريقيا - أمريكا الجنوبية)
١٣. الأشجار التي تنمو في البيئة الاستوائية :
(البلوط - الصنوبر - الكينا - الأرز)
١٤. جميع ما يلي من حيوانات البيئة الاستوائية ما عدا :
(السناجب - القروذ - البعوض - الأرناب)
١٥. يغلب على البيئة الاستوائية الطابع :
(الهضيبي - الجبلي - السهلي - الصحراوي)
١٦. تمتد البيئة المعتدلة الدافئة بين دائرتي عرض :
(٤٠/٣٠ - ٦٠/٤٥ - ٤٥/٣٠ - ٩٠/٦٠ ش و ج)
١٧. تمتد البيئة المعتدلة الباردة بين دائرتي عرض :
(٤٠/٣٠ - ٦٠/٤٥ - ٤٥/٣٠ - ٩٠/٦٠ ش و ج)
١٨. تمتد بيئة البحر المتوسط بين دائرتي عرض :
(٤٠/٣٠ - ٦٠/٤٥ - ٤٥/٣٠ - ٩٠/٦٠ ش و ج)
١٩. جميع ما يلي من قارات البحر المتوسط ما عدا :
(آسيا - انتاركتيكا - أفريقيا - أوروبا)
٢٠. تبلغ درجات حرارة بيئة البحر المتوسط صيفا :
(١٠ م - ٥ م - ٣٠ م - ٢٧ م)
٢١. تبلغ درجات حرارة بيئة البحر المتوسط شتاء :
(٥ م - ١٠ م - ٢٧ م - ٣٠ م)
٢٢. الأمطار التي تسقط على بيئة البحر المتوسط شتاء :
(الإعصارية - التصاعدية - التضاريسية - ليس مما سبق)

٢٣. يغلب على بيئة البحر المتوسط طابع :
(الجبال - الهضاب - السهول - الصحاري)
٢٤. تقع جبال أطلس في دول :
(المغرب العربي - القرن الأفريقي - الهلال الخصيب - شبه الجزيرة العربية)
٢٥. الهضبة الواقعة في جنوب أفريقيا :
(التبت - الشطوط - الكاب - الميزيتا)
٢٦. الأشجار التي تنمو في بيئة البحر المتوسط :
(الأبنوس - الصنوبر - الكينيا - زهرة القطن)
٢٧. توجد البيئة الباردة في قارة أوروبا بالأطراف :
(الشرقية - الغربية - الشمالية - الجنوبية)
٢٨. يتمثل إقليم التندرا في أمريكا الشمالية بدولة :
(كندا - ألaska - سيبيريا - أ+ب معا)
٢٩. تمتد البيئة القطبية في فصل الشتاء لمدة
(٣ - ٦ - ٨ - ٩ أشهر)
٣٠. تسقط أمطار البيئة القطبية في فصل :
(الربيع - الصيف - الشتاء - الخريف)
٣١. من حيوانات آكلة اللحوم في البيئة القطبية :
(الدببة - الذئاب - بومة الثلج - جميع ما سبق)
٣٢. من حيوانات آكلة الأعشاب في البيئة القطبية:
(ثور المسك - الغزلان - السناجب - الفيلة)
٣٣. تنمو أشجار الصنوبر في دولة :
(كندا - ألaska - سيبيريا - جرينلاند)
٣٤. تمارس جماعة الزاندي حرفة :
(الجمع والالتقاط - الصيد البري - الزراعة المتنقلة - جميع ما سبق)
٣٥. من الدول الاستوائية التي شهدت التطور الزراعي والصناعي :
(السودان - اندونيسيا - الصومال - السنغال)
٣٦. من أهم محاصيل البيئة الاستوائية :
(المطاط - قصب السكر - نخيل الزيت - جميع ما سبق)
٣٧. أقيمت المدرجات الزراعية على السفوح الجبلية في جزيرة :
(سومطرة - جاوة - سيلان - بورنيو)
٣٨. التركيز السكاني في بيئة البحر المتوسط:
(قليل - كبير - متوسط - ليس مما سبق)

٣٩. الحرف التي يمارسها سكان بيئة البحر المتوسط :
- (الزراعة - الصناعة - التجارة - جميع ما سبق)
٤٠. تشتهر سواحل فلسطين بزراعة :
- (الحمضيات - الزيتون - النخيل - الصبر)
٤١. تشتهر أغوار فلسطين بزراعة :
- (العنب - النخيل - الزيتون - الحمضيات)
٤٢. أهم الصناعات في بيئة البحر المتوسط :
- (السفن - السيارات - المنسوجات - جميع ما سبق)
٤٣. أهم موانئ فلسطين :
- (حيفا - غزة - أسدود - جميع ما سبق)
٤٤. سادت حرفة تربية الماشية و الرعي في :
- (صحراء النقب - جبال القدس - جبال الخليل - جميع ما سبق)
٤٥. التركيز السكاني في البيئة الباردة :
- (قليل - متوسط - كبير - ليس مما سبق)
٤٦. جميع ما يلي من حرف سكان التندرا ما عدا :
- (الصيد - التعدين - السياحة - الصناعة)
٤٧. يمارس سكان التندرا حرفة الصيد البحري في فصل :
- (الصيف - الشتاء - الخريف - الربيع)
٤٨. يمارس سكان التندرا حرفة الصيد البري في فصل :
- (الصيف - الشتاء - الخريف - الربيع)
٤٩. من أهم معادن البيئة القطبية :
- (الحديد - النفط - الفحم - جميع ما سبق)
٥٠. الحرفة الرئيسية لسكان إقليم التندرا :
- (الصيد - الرعي - الصناعة - التعدين)

السؤال الخامس / صحح ما تحته خط في العبارات التالية :

١. يعتبر خط جرينتش الخط الرئيس لدوائر عرض الكرة الأرضية ()
٢. انقسمت البيئة الحارة إلي أقاليم مدارية و موسمية و صحراوية و قطبية ()
٣. تمتد البيئة الاستوائية بين دائرتي عرض ٣٠-٠ شمال و جنوب خط الاستواء ()
٤. تقع البيئة الاستوائية في قارة آسيا و أفريقيا و أمريكا الشمالية ()
٥. تسقط الأمطار الإعصارية على البيئة الاستوائية ()

٦. تبلغ درجات حرارة البيئة الاستوائية ٥٠ م ()
٧. تنمو أشجار الأبنوس و**البلوط** في البيئة الاستوائية ()
٨. تعيش الحشرات والسناجب و**الغزلان** في البيئة الاستوائية ()
٩. تمتد بيئة البحر المتوسط بين دائرتي عرض ٣٠-٦٠ شمال وجنوب خط الاستواء ()
١٠. تقع كل من آسيا وأفريقيا وأوروبا وأستراليا و**انتاركتيكا** في بيئة البحر المتوسط ()
١١. من أقاليم البيئة المعتدلة الباردة اللورنسي والقاري البارد و**البحر المتوسط** ()
١٢. لا ترتفع درجات حرارة البحر المتوسط صيفا عن ١٠ م ()
١٣. لا تقل درجات حرارة البحر المتوسط شتاء عن ٢٧ م ()
١٤. تنخفض درجات حرارة البحر المتوسط شتاء بعد تعرضها للمنخفضات القطبية إلى ١٠ م ()
١٥. تقع جبال أطلس في **بلاد الشام** ()
١٦. توجد هضبة الكاب في **شمال** أفريقيا ()
١٧. تنمو أشجار **الأبنوس** والبطم والأرز في بيئة البحر المتوسط ()
١٨. تسبب الرياح **المحلية** سقوط الأمطار شتاء على بيئة البحر المتوسط ()
١٩. تهب رياح **الهبوب** على فلسطين في فصل الربيع ()
٢٠. تعيش الأرناب و**الدببة** في بيئة البحر المتوسط ()
٢١. تسقط الأمطار **التصاعدية** شتاء على بيئة البحر المتوسط ()
٢٢. تتمثل البيئة القطبية في شبه جزيرة **الملايو** وجرينلاند بقارة أوروبا ()
٢٣. تنخفض درجات حرارة البيئة القطبية شتاء إلى ١٠ م ()
٢٤. تسقط الأمطار في إقليم التندرا بفصل **الشتاء** ()
٢٥. من حيوانات التندرا بومة الثلج والرنة و**التماسيح** ()
٢٦. ظهرت الصناعة الغذائية والنسيجية و **مواد البناء** في اندونيسيا ()
٢٧. تشتهر البيئة الاستوائية بمعدن **النفط** والنحاس والذهب ()
٢٨. **الزائدي** من النماذج البشرية على البيئة الباردة ()
٢٩. تعتبر الرنة و**الدببة** من الحيوانات الرئيسة في البيئة الباردة ()
٣٠. ظهرت حرفة الصيد و**الزراعة** والصناعة في البيئة الباردة ()

السؤال السادس / يم تفسر :

١. تقسيم علماء الجغرافيا سطح الأرض إلى بيئات مناخية مختلفة ؟

السبب/

٢. تنوع المناخ في العالم ؟

السبب/

٣. لا تعد البيئة الاستوائية أعلى جهات العالم حرارة؟

السبب/

٤. تعد البيئة الاستوائية أكنف غابات العالم؟

السبب/

٥. تعد البيئة الاستوائية رئة العالم؟

السبب/

٦. تسمية الإقليم الاستوائي بهذا الاسم؟

السبب/

٧. تسمية الإقليم المداري بهذا الاسم؟

السبب/

٨. تسمية الإقليم الصحراوي بهذا الاسم؟

السبب/

٩. تسمية الإقليم الموسمي بهذا الاسم؟

السبب/

١٠. تسمية الإقليم المعتدل بهذا الاسم؟

السبب/

١١. وجود الحيوانات المتسلقة في البيئة الاستوائية؟

السبب/

١٢. ارتفاع نسبة الدبال في البيئة الاستوائية؟

السبب/

١٣. تسمية بيئة البحر المتوسط بهذا الاسم؟

السبب/

١٤. وجود بيئة البحر المتوسط في كاليفورنيا وساحل تشيلي على الرغم من بعدها من البحر المتوسط؟

السبب/

١٥. ترتفع درجات الحرارة في بيئة البحر المتوسط صيفا؟

السبب/

١٦. تنخفض درجات حرارة البحر المتوسط شتاء إلى ٥° م؟

السبب/

١٧. سقوط الأمطار على بيئة البحر المتوسط شتاء؟

السبب/

١٨. تسمية البيئة القطبية بهذا الاسم؟

السبب/

١٩. يعتبر فصل صيف التندرا فصل سقوط الأمطار والثلوج؟

السبب/

٢٠. صعوبة الحياة في البيئة الاستوائية؟

السبب/

٢١. بدائية جماعة الزاندي في البيئة الاستوائية؟

السبب/

٢٢. تنوع الأنشطة الاقتصادية في العالم؟

السبب/

٢٣. انتشار الأمراض في البيئة الاستوائية؟

السبب/

٢٤. التركيز السكاني كبير في البيئة المعتدلة؟

السبب/

٢٥. ازدهار حركة التجارة في البيئة المعتدلة؟

السبب/

٢٦. تعد بيئة البحر المتوسط مركز جذب سياحي؟

السبب/

٢٧. تنوع الأنشطة الاقتصادية في فلسطين؟

السبب/

٢٨. تنوع المناخ في فلسطين؟

السبب/

٢٩. تشتهر سواحل فلسطين بزراعة الحمضيات؟

السبب/

٣٠. تشتهر أغوار فلسطين بزراعة النخيل؟

السبب/

٣١. تقل الكثافة السكانية في البيئة الباردة؟

السبب/

٣٢. يمارس الاسكيمو الصيد البحري في فصل الصيف؟

السبب/

٣٣. أهمية حيوان الرنة في البيئة الباردة؟

السبب/

٣٤. عدم صلاحية البيئة الباردة لحرفة الزراعة؟

السبب/

٣٥. ذوبان الجليد في البيئة الباردة خلال فصل الصيف .

السبب /

السؤال السابع / ما النتائج المترتبة على :

١. الامتداد الفلكي الكبير للبيئات الطبيعية ؟

النتيجة/

٢. الحرارة العالية والأمطار طوال العام في البيئة الاستوائية ؟

النتيجة/

٣. غنى البيئة الاستوائية بمادة الدبال ؟

النتيجة/

٤. ذوبان الجليد في البيئة الباردة خلال فصل الصيف ؟

النتيجة/

٥. تعرض بيئة البحر المتوسط للرياح العكسية خلال فصل الشتاء ؟

النتيجة/

٦. تعرض بيئة البحر المتوسط للرياح المحلية خلال فصل الربيع والصيف ؟

النتيجة/

٧. تعرض فلسطين لرياح الخماسين ؟

النتيجة/

٨. اكتشاف النفط والحديد في أراضي البيئة الباردة ؟

النتيجة/

٩. غنى البيئة المعتدلة بالحياة النباتية والحيوانية ؟

النتيجة/

١٠. ظهور الصناعة الالكترونية والزراعة الحديثة في دولة اندونيسيا ؟

النتيجة/

السؤال الثامن / قارن بين :

أ (البيئة الاستوائية والبيئة الباردة .

البيئة الباردة	البيئة الاستوائية	وجه المقارنة
		الموقع الفلكي
		الموقع الجغرافي
		المناخ
		النبات
		الحيوان
		الأنشطة الاقتصادية

ب) البيئة القطبية وبيئة البحر المتوسط .

بيئة البحر المتوسط	البيئة القطبية	وجه المقارنة
		الموقع الفلكي
		الموقع الجغرافي
		المناخ
		النبات
		الحيوان
		الأنشطة الاقتصادية

ج) الرياح العكسية والرياح المحلية .

الرياح المحلية	الرياح العكسية	وجه المقارنة
		التعريف
		الآثار و النتائج

د) البيئة الحارة والبيئة المعتدلة والباردة

البيئة الباردة	البيئة المعتدلة	البيئة الحارة	وجه المقارنة
			الموقع الفلكي
			الموقع الجغرافي
			أنواع الأقاليم

السؤال التاسع / ماذا يحدث إذا :

١ . اكتشاف اليورانيوم والذهب في البيئة الاستوائية ؟

الحدث/

٢ . اكتشاف النفط والحديد في البيئة القطبية ؟

الحدث/

٣. استمر فصل الصيف في البيئة القطبية لمدة تسعة أشهر ؟

الحدث/

٤. وقوع فلسطين في المنطقة الاستوائية ؟

الحدث/

٥. مرور الرياح العكسية فوق المسطحات المائية في البيئة المعتدلة ؟

الحدث/

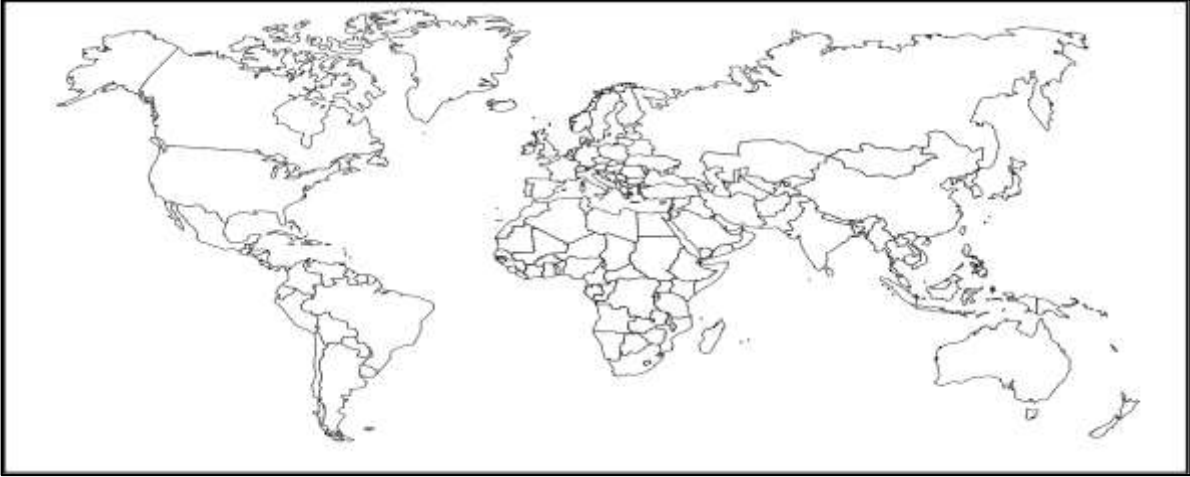
السؤال العاشر / حدد على خريطة العالم ما يلي :

(أ) المحاور الرئيسية :

- المحيطات

- القارات

- دوائر العرض الرئيسية

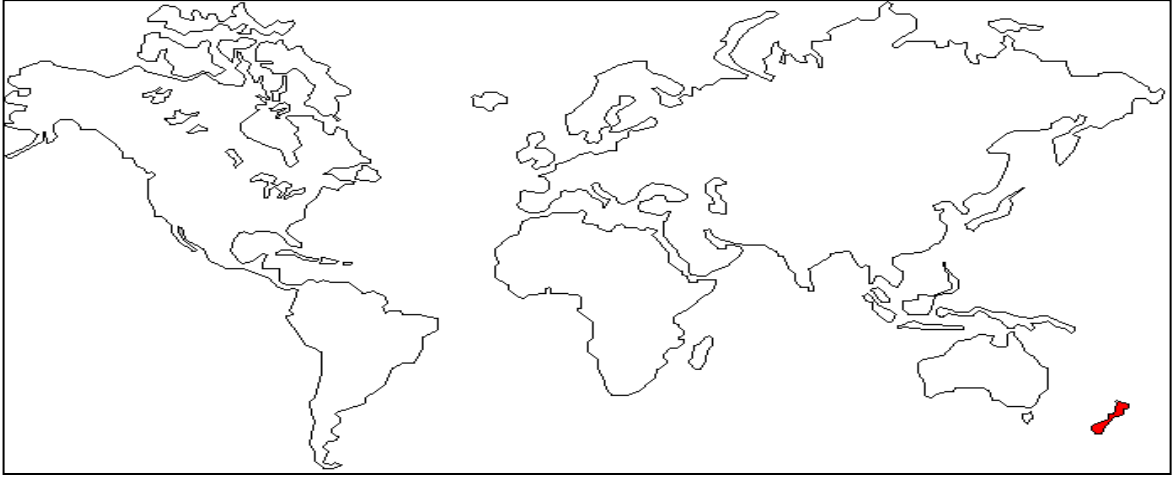


ب) مناطق البيئة الاستوائية في قارة :

- آسيا

- أفريقيا

- أمريكا الجنوبية



ج) مناطق بيئة البحر المتوسط في قارة :

- اسيا

- افريقيا

- أوروبا

- أمريكا الشمالية

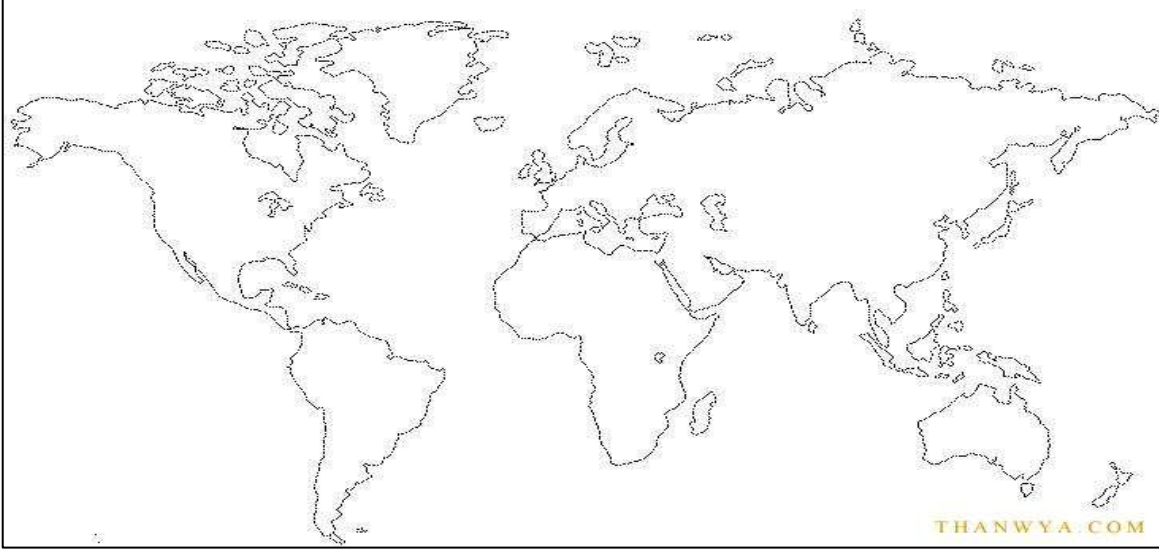
- أمريكا الجنوبية

- استراليا



د) مناطق البيئة القطبية في قارة :

- اسيا
- أوروبا
- أمريكا الشمالية
- أنتاركتيكا



الدرس الثاني

تنوع الخصائص السكانية

السؤال الأول / أكتب ما تشير اليه العبارات التالية :

١. () التغيير في عدد سكان منطقة ما خلال فترة زمنية معينة
٢. () الفرق بين عدد المواليد وعدد الوفيات
٣. () الفرق بين عدد المهاجرين المغادرين وعدد المهاجرين الوافدين
٤. () توزيع السكان حسب خصائص معينة من عمر ونوع
٥. () توزيع السكان حسب النوع من ذكر او انثى
٦. () توزيع السكان حسب الفئات العمرية من أطفال وشباب وكبار السن
٧. () المجتمعات التي ترتفع فيها نسبة صغار السن الذين تقل أعمارهم عن (١٥) سنة
٨. () المجتمعات التي ترتفع فيها نسبة الشباب التي تتراوح أعمارهم ما بين (١٥ – ٦٥) سنة
٩. () المجتمعات التي ترتفع فيها نسبة كبار السن التي تزيد أعمارهم عن (٦٥) سنة
١٠. () مجموعة بشرية تتشابه في صفاتها الجسمية الخارجية

السؤال الثاني / أكمل الفراغات التالية :

١. تتمثل أهمية دراسة النمو السكاني في _____ و _____
٢. بلغ معدل النمو السكاني في الدول النامية _____ % وفي الدول المتقدمة _____ %
٣. ترتفع نسبة الدول ذات معدل النمو السكاني المرتفع إلي _____ % مثل دولة _____ و _____
٤. من دول ذات معدل نمو سكاني متوسط _____ و _____ و _____ بنسبة _____ % بينما من دول ذات معدل نمو سكاني قليل _____ و _____ و _____ بنسبة _____ %
٥. بلغ معدل النمو السكاني في فلسطين _____ % عام ٢٠١٦ م
٦. بلغ عدد سكان العالم _____ نسمة عام ٢٠١٦ م
٧. تعتبر _____ أولى قارات العالم من حيث عدد السكان بنسبة _____ %
٨. العوامل الطبيعية التي تؤثر في توزيع السكان _____ و _____ و _____ بينما من العوامل البشرية _____ و _____ و _____
٩. التركيب السكاني نوعان هما _____ و _____
١٠. بلغت نسبة فئة الأطفال في فلسطين _____ % وفئة الشباب _____ % وفئة كبار السن _____ %
١١. ترتفع نسبة صغار السن في قارة _____ وتنخفض في قارة _____
١٢. ترتفع نسبة الشباب في دول قارة _____ و _____ و _____ و _____ وتنخفض في دول قارة _____ و _____ و _____
١٣. ترتفع نسبة كبار السن في الدول _____ من قارة _____ و _____ و _____ وتنخفض في قارة _____ و _____ و _____

١٤. تكمن أهمية دراسة التركيب السكاني في _____ و _____ و _____
١٥. السلالة البشرية في العالم ثلاث وهي _____ و _____ و _____
١٦. تعتبر السلالة _____ اكثر السلالات البشرية انتشارا في العالم بنسبة ___ % وتنتشر في _____ و _____ و _____
١٧. بلغت نسبة السلالة الزنجية (السوداء) في العالم ___ % و تنتشر في قارة _____
١٨. بلغت نسبة السلالة المغولية (الصفراء) في العالم ___ % وتنتشر في _____ و _____ و _____ و _____ بقارة اسيا و _____ في شمال كندا والاسكا في أمريكا الشمالية
١٩. تمتاز السلالة القوقازية بالبشرة _____ و _____ و _____ و _____ وتمتاز السلالة الزنجية بالبشرة _____ و _____ و _____ و _____ بينما تمتاز السلالة المغولية بالبشرة _____ و _____ و _____
٢٠. من الأمثلة على السلالة الزنجية _____ و _____ و _____

السؤال الثالث / ضع علامة (√) امام العبارة الصحيحة وعلامة (x) امام العبارة الخاطئة :

١. () كانت الزيادة السكانية في العام الماضي بالعالم سريعة و كبيرة
٢. () تعتبر الزيادة الطبيعية العامل الرئيس للنمو السكاني في العالم
٣. () مصر والهند و فلسطين من دول ذات معدل نمو سكاني مرتفع
٤. () تعتبر انتاركتيكا اكثر القارات تركيز سكاني
٥. () يقل السكان في جبال و هضاب اسيا
٦. () يزيد السكان في قارة اسيا بالمناطق الصحراوية
٧. () يتركز سكان قارة أوروبا في المناطق الصناعية والسهل الأوروبي العظيم
٨. () يقل سكان أوروبا في المناطق الجنوبية كفنلندا والنرويج
٩. () يزيد سكان أمريكا الجنوبية في سهول نهر الامزون وقمم جبال الانديز وهضبة بتاجونيا
١٠. () يقل سكان أمريكا الشمالية في شمال كندا
١١. () يتركز سكان استاليا في المدن الكبرى والمدن الصناعية والأراضي الزراعية
١٢. () ترتفع نسبة كبار السن في الدول النامية عن الدول المتقدمة
١٣. () ترتفع نسبة الأطفال في الدول النامية عن الدول المتقدمة
١٤. () تسبب الحروب في ارتفاع معدلات الوفيات الذكور
١٥. () ترتفع نسبة الشباب في الدول المتقدمة عن الدول النامية
١٦. () تختلف السلالات البشرية عن بعضها البعض في الصفات الجسمية الخارجية
١٧. () تمثل السلالة القوقازية نصف سكان العالم
١٨. () تتميز السلالة الزنجية بالبشرة الصفراء والعيون المنحرفة والشعر الأسود المسترسل
١٩. () تظهر السلالة المغولية في وسط افريقيا

٢٠. () تمثل السلالة الزنجية ١٠% من سكان العالم
٢١. () تتميز السلالة الصفراء بالبشرة الداكنة والشعر الاجعد والشفاه الغليظة
٢٢. () الاقزام و البوشمن والسودانيين من السلالة الصفراء
٢٣. () الاسكيمو من السلالة السوداء
٢٤. () تنتشر السلالة القوقازية في شمال افريقيا و معظم دول أوروبا
٢٥. () سكان الوطن العربي يندرجون تحت السلالة المغولية

السؤال الرابع / صحح ما تحته خط في العبارات التالية :

١. تطلق الزيادة غير الطبيعية على الفرق بين معدلات المواليد و الوفيات ()
٢. تطلق الزيادة الطبيعية على صافي الهجرة ()
٣. يطلق النمو السكاني على الفرق بين عدد المهاجرين الوافدين و المغادرين ()
٤. معدل النمو السكاني متشابه في دول العالم ()
٥. اوغندا وباكستان ذات معدل نمو سكاني متوسط ()
٦. بلغ معدل النمو السكاني في فلسطين عام ٢٠١٦ م ٦% ()
٧. تعتبر افريقيا اكثر القارات تركيز سكاني بنسبة ٥٩.٧% ()
٨. من العوامل الطبيعية المؤثرة في توزيع سكان العالم المناخ والمياه و الأنشطة الاقتصادية ()
٩. يصنف السكان حسب التركيب العمرى الي ذكر واثنى ()
١٠. تتراوح فئة الشباب ما بين (٠ - ١٤) سنة ()
١١. ترتفع نسبة صغار السن في المجتمعات الهرمة ()
١٢. تمثل السلالة المغولية حوالي ١٠% من سكان العالم ()
١٣. تنتشر السلالة الصفراء في وسط وغرب قارة اسيا ()
١٤. تمتاز السلالة الزنجية بالبشرة البيضاء الوردية والشعر المموج ()
١٥. تشكل السلالة المغولية نصف سكان العالم . ()

السؤال الخامس / اختر الإجابة الصحيحة مما بين القوسين :

١. يطلق على التغيير في أعداد السكان خلال فترة زمنية معينة :
(النمو السكاني - توزيع السكان - الكثافة السكانية)
٢. العوامل المؤثرة في النمو السكاني :
(الزيادة الطبيعية - صافي الهجرة - كلاهما معا)
٣. الدول ذات معدل نمو سكاني منخفض :
(الهند - اليابان - فلسطين)

٤. الدول ذات معدل نمو سكاني مرتفع :
(اوغندا - الصين - مصر)
٥. الدول ذات معدل نمو سكاني متوسط :
(الولايات المتحدة - البرازيل - باكستان)
٦. يقل تركيز سكان آسيا في سهول :
(سيبيريا - دجلة - الأردن)
٧. يقل تركيز سكان أوروبا في مناطق :
(الشمال - الجنوب - الغرب)
٨. يقل تركيز أمريكا الجنوبية في جبال :
(روكي - الهملايا - الانديز)
٩. يقل تركيز سكان أمريكا الجنوبية في هضبة :
(التبت - بتاجونيا - الشطوط)
١٠. يقل تركيز سكان قارة استراليا في مناطق :
(الوسط - الغرب - كلاهما معا)
١١. يتركز سكان قارة أمريكا الشمالية في منطقة :
(فنلندا - البحيرات العظمى - حشائش السافانا)
١٢. ترتفع نسبة كبار السن في قارة :
(اسيا - افريقيا - أوروبا)
١٣. تبلغ نسبة الشباب في فلسطين :
(٣٩.٢% - ٥٧.٩% - ٢.٩%)
١٤. ترتفع نسبة صغار السن في الدول :
(النامية - المتقدمة - ليس مما سبق)
١٥. تنتشر السلالة السوداء بالقرب من خط :
(الاستواء - جرينتش - السرطان)

السؤال السادس / وفق :

(أ) وفق بين النمو السكاني والدول :

١. الدول النامية () ٣%
٢. الدول المتقدمة () ١%
٣. فلسطين () ١.٧%

(ب) وفق بين أنواع معدل النمو السكاني والدول :

١. نمو سكاني مرتفع () دول أوروبا وأستراليا والولايات المتحدة والصين واليابان
٢. نمو سكاني متوسط () فلسطين واوغندا وباكستان
٣. نمو سكاني منخفض () الهند ومصر والبرازيل

(ج) وفق بين الفئات العمرية والأعمار :

١. فئة صغار السن () ٢.٩%
٢. فئة الشباب () ٣٩.٢%
٣. فئة كبار السن () ٥٧.٩%

(د) وفق بين الفئات العمرية لفلسطين والنسب المئوية :

١. فئة صغار السن () (٦٤) سنة فأكثر
٢. فئة الشباب () (١٤-٠) سنة
٣. فئة كبار السن () (٦٤-١٥) سنة

(هـ) وفق بين أنواع معدل النمو السكاني والنسب المئوية :

١. نمو سكاني مرتفع () أقل من ١%
٢. نمو سكاني متوسط () ١-٢%
٣. نمو سكاني منخفض () أكثر من ٢%

(و) وفق بين الفئات العمرية ومناطق انتشارها :

١. المجتمعات الفتية () قارة أوروبا وأستراليا وأمريكا الشمالية واليابان
٢. المجتمعات الشابة () قارة أفريقيا
٣. المجتمعات الهرمة (المسنة) () قارة أمريكا الشمالية والجنوبية وأفريقيا وأستراليا وآسيا

(ز) وفق بين السلالات البشرية ومناطق انتشارها :

١. السلالة السوداء (الزنجية) () الصين واليابان وكوريا ومنغوليا وكندا والاسكا
٢. السلالة الصفراء (المغولية) () شمال أفريقيا ودول أوروبا والدول العربية والهند وتركيا والصين
٣. السلالة البيضاء (القوقازية) () وسط وجنوب أفريقيا

(ق) وفق بين السلالات البشرية ونسبها المئوية :

١. السلالة الزنجية () ٥٠%
٢. السلالة المغولية () ١٠%
٣. السلالة القوقازية () ٤٠%

السؤال السابع / قارن بين :

١. الزيادة الطبيعية والزيادة الغير طبيعية من حيث التعريف

٢. معدل النمو السكاني المرتفع والمتوسط والمنخفض من حيث النسب المئوية والدول

٣. التركيب العمري والتركيب النوعي من حيث التعريف

٤. المجتمعات الفتية والشابة والهرمة من حيث الفئة العمرية والدول والنسب المئوية

٥. النمو السكاني والتركيب السكاني من حيث التعريف والأهمية

٦. السلالة الزنجية والقوقازية والمغولية من حيث النسبة المئوية والدول والصفات الجسمية

السؤال الثامن / هات دليلاً شرعياً على :

١. التركيب العمري

٢. التركيب النوعي

السؤال التاسع / بم تفسر :

١. التغيير في عدد السكان من فترة زمنية لأخرى ؟

السبب/

٢. الزيادة السكانية في العام الماضي بطيئة ؟

السبب/

٣. الزيادة السكانية في الوقت الحالي سريعة وكبيرة ؟

السبب/

٤. اختلاف معدلات النمو السكاني من دواة لأخرى ؟

السبب/

٥. أهمية دراسة النمو السكاني في المجتمع ؟

السبب/

٦. ارتفاع معدل النمو السكاني في فلسطين ؟

السبب/

٧. اختلاف توزيع السكان من قارة لأخرى ؟

السبب/

٨. يتركز سكان آسيا في السهول النهرية الفيضية ؟

السبب/

٩. يقل سكان آسيا في سهول سيبيريا ؟

السبب/

١٠. يتركز سكان أفريقيا في السهول الفيضية و الساحلية ؟

السبب/

١١. يقل سكان أفريقيا في الوسط بالمناطق الاستوائية ؟

السبب/

١٢. يتركز سكان أوروبا وأمريكا الشمالية والجنوبية وأستراليا في المدن الكبرى ؟

السبب/

١٣. يقل سكان أمريكا الجنوبية في حوض نهر الأمازون ؟

السبب/

١٤. يقل سكان أمريكا الجنوبية في جبال الانديز وهضبة بتاجونيا ؟

السبب/

١٥. يقل سكان استراليا في الوسط والغرب ؟

السبب/

١٦. يتركز سكان أمريكا الشمالية وأوروبا في المناطق الشمالية ؟

السبب/

١٧. ارتفاع نسبة الإناث مقارنة بنسبة الذكور في مجتمعات العالم؟

السبب/

١٨. ارتفاع نسبة كبار السن في الدول المتقدمة ؟

السبب/

١٩. ارتفاع نسبة صغار السن في الدول النامية كأفريقيا ؟

السبب/

٢٠. انخفاض نسبة صغار السن في الدول المتقدمة كأوروبا ؟

السبب/

٢١. أهمية دراسة التركيب النوعي والعمر في المجتمع ؟

السبب/

٢٢. هجرة أعداد كبيرة من الزوج الإجابرية إلى الأمريكتين ؟

السبب/

السؤال العاشر / ما النتائج المترتبة على :

١. ارتفاع معدلات المواليد في الوطن العربي ؟

النتيجة/

٢. زيادة نسبة صغار السن وكبار السن عن نسبة الشباب في الدولة ؟
النتيجة/

٣. هجرة الشباب الذكور من الريف إلى المدن أو الدول الأخرى ؟
النتيجة/

٤. تعرض الدولة للحروب الداخلية والخارجية ؟
النتيجة/

السؤال الحادي عشر / ما يحدث إذا :

١. ارتفاع معدلات الوفيات في الدول النامية ؟
الحدث/

٢. عدم تعرض وسط وجنوب أفريقيا للغزو الأمريكي ؟
الحدث/

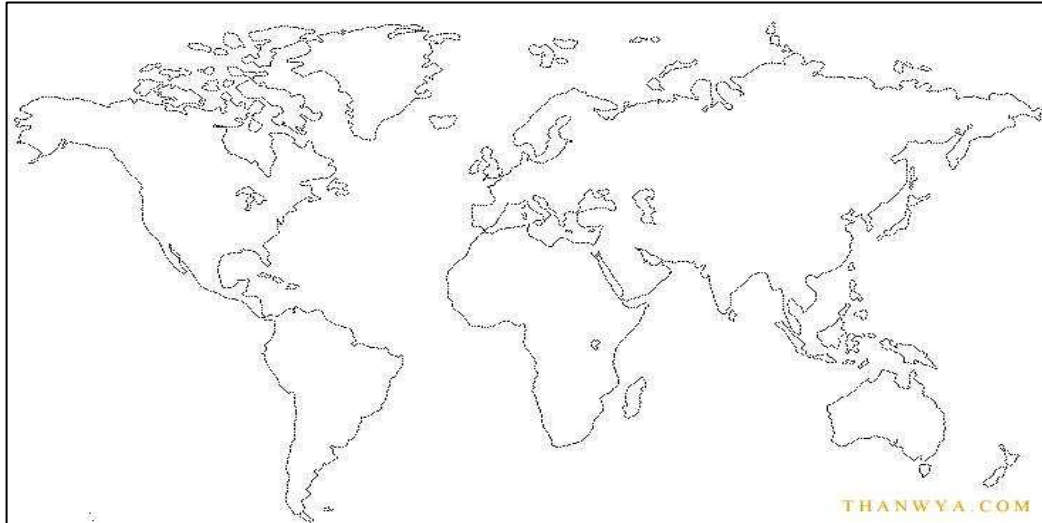
٣. الاستقرار السياسي في دول العالم ؟
الحدث/

٤. ارتفاع نسبة الشباب مقارنة بنسبة كبار السن والأطفال في دول العالم ؟
الحدث/

السؤال الثاني عشر / حدد على خريطة العالم ما يلي :

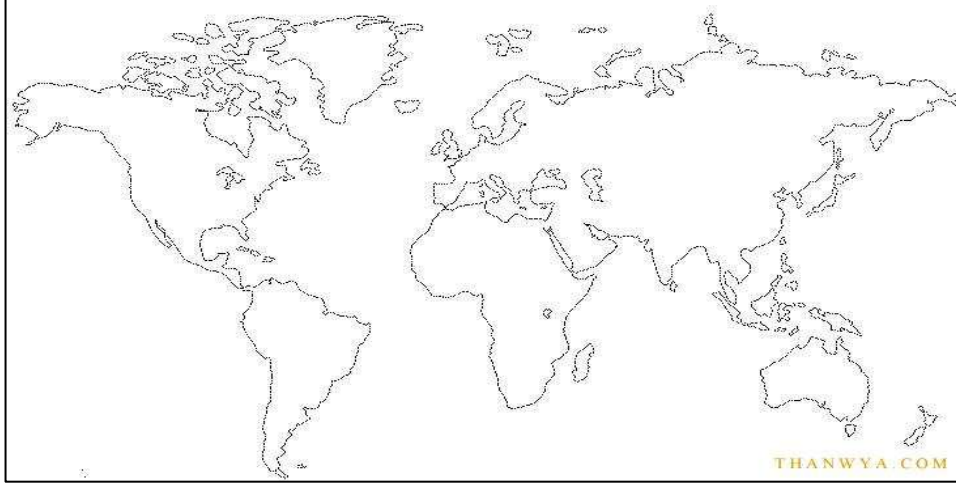
- المجتمعات العمرية :

- أ) المجتمعات الفتية
- ب) المجتمعات الشابة
- ت) المجتمعات المسنة



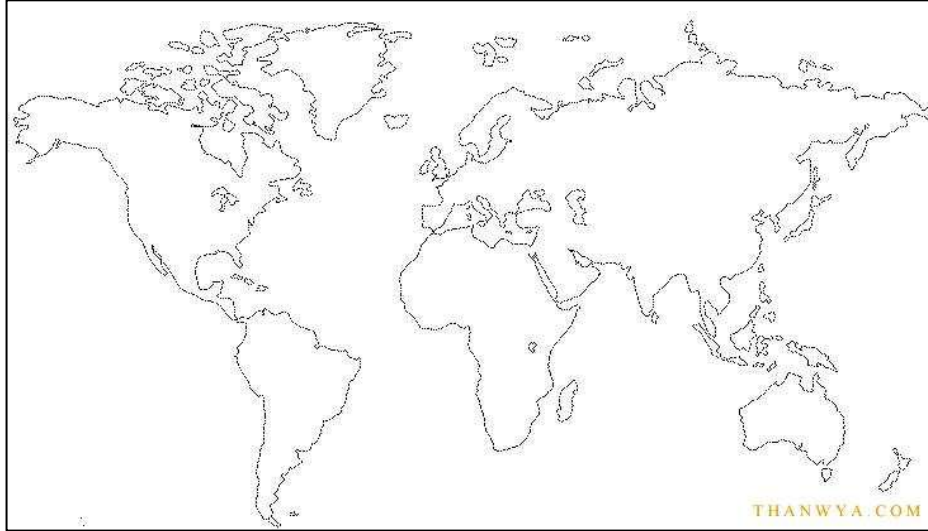
- معدلات النمو السكاني :

- (أ) نمو سكاني مرتفع
- (ب) نمو سكاني متوسط
- (ت) نمو سكاني قليل



- السلالات البشرية :

- (أ) السلالة القوقازية
- (ب) السلالة الزنجية
- (ت) السلالة المغولية



الدرس الثالث

التنوع الحضاري

السؤال الأول / أكتب ما تشير إليه العبارات التالية :

١. () التنوع والتعدد بين مختلف الحضارات والثقافات كالتنوع في اللغات والأديان والأعراف
٢. () منظمة الأمم المتحدة للتربية والعلوم والثقافة في باريس
٣. () المنظمة الإسلامية للتربية والعلوم والثقافة تأسست عام ١٩٨٢ بمدينة فاس

السؤال الثاني / أكمل الفراغات التالية :

١. تتمثل مجالات للتنوع الحضاري في تنوع _____ و _____ و _____
٢. يدين سكان العالم بالديانات السماوية الثلاثة وهي _____ و _____ و _____
٣. تعتبر _____ أكثر الدول تعدداً في المعتقدات والأديان وأشهرها الديانة _____ و _____ و _____
٤. يشكل المسلمون من نسبة الأديان في العالم _____ % بينما المسيحيون _____ %
٥. من اللغات المحلية في العالم اللغة _____ بينما من اللغات العالمية اللغة _____ و _____
٦. تعتبر الديانة _____ أكثر العقائد الدينية انتشاراً في العالم
٧. تتعدد الأعراق والقوميات في دولة _____
٨. من العادات التي تختلف فيها المجتمعات عن بعضها البعض _____ و _____ و _____
٩. من الآثار الإيجابية للتنوع الحضاري في العالم _____ و _____ و _____ بينما من الآثار السلبية _____ و _____
١٠. أهم المنظمات الدولية الداعمة للتنوع الحضاري والثقافي بين الشعوب منظمة _____
١١. تأسست منظمة اليونسكو عام _____ م في مدينة فاس التي أكدت على قرار _____ و _____ أهم الجهود التي تقوم بها الدول في تعزيز التعاون الحضاري _____ و _____ و _____
١٢. اعتبرت منظمة اليونسكو عام ٢٠٠١م التنوع الحضاري مصدراً للتبادل _____ و _____ و _____
١٣. أهم أدوار المنظمات الدولية تجاه التنوع الحضاري _____ و _____ و _____

السؤال الثالث / ضع علامة (√) أمام العبارة الصحيحة وعلامة (x) أمام العبارة الخاطئة :

١. () ظهر التنوع الحضاري في تعدد اللغات والديانات والأعراق والعادات
٢. () تعتبر الصين أكثر الدول تعدداً في المعتقدات والأديان
٣. () اعترفت الأمم المتحدة لغات رسمية في مداولاتها الداخلية
٤. () من اللغات العالمية اللغة الإنجليزية والعربية
٥. () تسود اللغة اليابانية في دولة واحدة
٦. () تتعدد الأعراق والأديان في الولايات المتحدة الأمريكية
٧. () شكلت الأمم المتحدة نسيجاً اجتماعياً واحداً في ظل نظام سياسي واحد
٨. () عمل التنوع الحضاري على تقدم المجتمعات وتبادل الخبرات ومواجهة التحديات
٩. () من الشواهد الدالة على الآثار السلبية للتنوع الحضاري والحضارة العربية الإسلامية
١٠. () قدمت الحضارة الإسلامية رسالة سامية و تسامحت مع الأديان

١١. (من الآثار السلبية للتنوع الحضاري تبني النزعة الانفصالية)
١٢. (استطاع الاستعمار في إثارة الشقاق في الوطن العربي تحت شعار سياسة فرق تسد)
١٣. (صادق اليونسكو عام ١٩٨٢ م على تشجيع التفاعل الثقافي ودعم التنوع بين الدول الأعضاء)
١٤. (ساهمت المنظمات الدولية في تعزيز التعاون الاقتصادي والمالي)
١٥. (ساهمت المنظمات الدولية في تقليص الفجوة بين الدول الغنية والفقيرة التي تهدد التنوع الحضاري)
١٦. (عقدت الدول الندوات والمؤتمرات لتعزيز التعاون الحضاري)
١٧. (حماية التنوع الحضاري مسؤولية فردية)
١٨. (أكدت منظمة اليونسكو عام ٢٠٠١ م على ضرورة التنوع الحضاري للجنس البشري)
١٩. (أخذت الحضارة العربية الإسلامية من الحضارات الأخرى بما يتنافى مع الشريعة الإسلامية)

السؤال الرابع / اختر الإجابة الصحيحة مما بين القوسين :

١. اللغات غير المستخدمة في الأمم المتحدة :
(العربية و الإنجليزية - الألمانية و الهندية - الروسية و الفرنسية)
٢. أكثر الدول تعددا في المعتقدات و الأديان :
(الهند - الصين - اليابان)
٣. أشهر الديانات في الهند :
(البوذية - الهندوسية - جميع ما سبق)
٤. مقر منظمة اليونسكو :
(روما - باريس - نيويورك)
٥. عقد المؤتمر التأسيس لمنظمة الإيسيسكو في مدينة :
(فاس - الرباط - طنجة)

السؤال الخامس / وفق بين الأديان و النسب المئوية :

١. الديانة المسيحية () ١٥%
٢. الدين الإسلامي () ٢٢%
٣. الهندوس () ٧٠%
٤. البوذية () ٣٢%
٥. الشيوعية () ١%
٦. اليهود () ٢٣%

السؤال السادس / قارن بين :

١. الآثار الإيجابية والآثار السلبية للتنوع الحضاري مع التمثيل :

٢. منظمة الإيسيسكو واليونسكو من حيث التعريف وأدوارها تجاه التنوع الحضاري

السؤال السابع / بم تفسر:

١. تنوع العادات والتقاليد من مجتمع لآخر؟

السبب/

٢. التنوع الحضاري في العالم؟

السبب/

٣. أهمية المنظمات الدولية في دعم التنوع الحضاري؟

السبب/

٤. أهمية التعاون مع المنظمات الدولية والاقتصادية والمالية؟

السبب/

٥. إرسال الدول البعثات الطلابية للخارج؟

السبب/

٦. أهمية تعليم اللغات الأجنبية في الدولة الواحدة؟

السبب/

٧. تركيز جهود الدول في صناعة الأفلام الثقافية؟

السبب/

٨. دور المنظمات الدولية في تشجيع التبادل الثقافي و الفني؟

السبب/

السؤال الثامن / ما النتائج المترتبة على:

١. التنوع الحضاري في العالم؟

النتيجة /

٢. تعدد اللغات التي يتحدث فيها سكان العالم؟

النتيجة /

٣. امتلاك سكان الوطن العربي إرثاً حضارياً متنوعاً في الدين و اللغة والعرق والعادات؟

النتيجة /

٤. تعدد و تنوع العادات والتقاليد من مجتمع لآخر؟

النتيجة /

السؤال التاسع / ماذا حدث في التواريخ التالية :

١. ٢٠٠١ م /

٢. ١٩٨٢ م /

الدرس الرابع التنوع الاقتصادي

السؤال الأول / أكتب ما تشير إليه العبارات التالية :

١. (تعدد الأنشطة الاقتصادية التي يمارسها السكان من زراعة و صناعة وخدمات وغيرها)
٢. (زراعة تعتمد على مياه الأمطار)
٣. (زراعة تعتمد على مياه الري من مياه الأنهار والمياه الجوفية)
٤. (زراعة تهدف إلى التصدير)
٥. (زراعة تنتشر في مناطق الكثافة السكانية المرتفعة و تعتمد على الأيدي العاملة)
٦. (زراعة تنتشر في المناطق ذات المساحات الزراعية الكبيرة و تعتمد على الآلات)
٧. (زراعة تهدف إلي سد الحاجات الغذائية الأساسية)
٨. (التغيير في شكل المواد الخام وجعلها أكثر ملائمة لحاجات الإنسان ومتطلباته)
٩. (عملية تقوم على استخراج خامات المعادن ومصادر الطاقة من باطن الأرض)
١٠. (عملية تحويل أو تغيير في كل المواد الخام إلي منتجات أكثر ملائمة لحاجات الإنسان و متطلباته)
١١. (أقدم الأنشطة الاقتصادية قائمة على عملية فلاحية الأرض بهدف توفير الإنتاج الغذائي له)
١٢. (حركة الإنسان وانتقاله من مكان إلي آخر بهدف الترفيه و الاسترخاء)
١٣. (حركة انتقال الأفراد داخل حدود الدولة)
١٤. (حركة انتقال الأفراد خارج حدود الدولة)
١٥. (حركة انتقال الأشخاص والبضائع عبر وسائل النقل البرية و البحرية و الجوية من مكان إلي آخر)
١٦. (حركة البيع و الشراء و الربط بين المنتج و المستهلك بوساطة السلع المنتجة)
١٧. (شركات تقدم خدمات في مجال الاتصالات وتكنولوجيا المعلومات)
١٨. (مجموع المبادلات التجارية التي تتم داخل الدولة)
١٩. (مجموع المبادلات التجارية التي تتم بين الدولة و غيرها من الدول من خلال الاستيراد و التصدير)
٢٠. (منظمة عالمية تهدف إلي ضمان انسياب التجارة بين البلدان بأكبر قدر من السلاسة و ضمان حريتها)
٢١. (مجموعة من الدول المرتبطة ببعضها البعض ارتباطاً وثيقاً و يبلغ عددها حالياً ٢٨ دولة في قارة أوروبا بهدف تضمن الحقوق الأساسية و دعم التقدم الاقتصادي و الاجتماعي فيها)
٢٢. (مؤسسة هدفها إعداد أجيال قادرة على البناء و المضي نحو الأفضل بكل السبل المتاحة)

السؤال الثاني / أكمل الفراغات التالية :

١. صنفت الموارد الاقتصادية حسب _____ و _____ و _____ و _____
٢. تصنف الموارد الاقتصادية حسب أصلها إلي _____ و _____
٣. تصنف الموارد الاقتصادية حسب طبيعتها إلي _____ و _____
٤. تصنف الموارد الاقتصادية حسب درجة انتشارها إلي _____ و _____
٥. تصنف الموارد الاقتصادية حسب عمرها الزمني إلي _____ و _____
٦. تصنف الأنشطة الاقتصادية التي يمارسها سكان العالم إلي _____ و _____ و _____ و _____
٧. أهم المصائد البحرية في العالم سواحل _____ أوروبا وسواحل _____ في أمريكا الجنوبية و _____
٨. الصناعة نوعان هما الصناعة _____ و _____
٩. تعتبر _____ و _____ من أقدم الأنشطة الاقتصادية التي مارسها الإنسان .

١٠. ظهرت الزراعة الكثيفة في جنوب شرق قارة _____ بينما انتشرت الزراعة الواسعة في _____ و _____
١١. تعتبر _____ مقياساً للتقدم الاقتصادي في الدولة مثل دول _____ و _____ و _____ و _____ و _____
١٢. من الأمثلة على الصناعة التحويلية الصناعات _____ و _____ و _____ و _____ و _____ و _____
١٣. تشمل الأنشطة الخدمائية _____ و _____ و _____ و _____ و _____
١٤. من أنواع السياحة _____ و _____ و _____ و _____
١٥. من وسائل الاتصال _____ و _____ و _____
١٦. القارة التي يكون النقل البري كثيف _____
١٧. أهم المنظمات الدولية الداعمة لتعزيز التعاون الاقتصادي الدولي _____ و _____
١٨. تتمثل أهداف التعاون الاقتصادي بين دول العالم _____ و _____ و _____ و _____
١٩. من أهم إنجازات الاتحاد الأوروبي في مجال التعاون الاقتصادي _____ و _____
٢٠. واجهت كل من _____ و _____ و _____ الأزمات الاقتصادية السياسية في العالم عام ١٩٧٥م مثل الأزمة _____ و _____ و _____
٢١. تأسيس مجلس التعاون الخليجي عام _____ م ومن دوله _____ و _____ و _____ ، ومن إنجازاته _____ و _____
٢٢. تأسست منظمة _____ عام ١٩٤٨م بهدف _____ و _____
٢٣. أهم المشكلات التي واجهها الاقتصاد الفلسطيني _____ و _____ و _____ و _____
٢٤. عقدت فلسطين اتفاقيات _____ واتفاقيات تجارية مع الدول العربية مثل _____ و _____

السؤال الثالث / ضع علامة (√) أمام العبارة الصحيحة و علامة (x) أمام العبارة الخاطئة :

١. () من الموارد الاقتصادية الطبيعية الزراعة و الصناعة
٢. () من الموارد الاقتصادية البشرية الأرض والمياه و التربة
٣. () تتمثل الموارد الاقتصادية الملموسة في الموارد الطبيعية والبشرية ورأس المال
٤. () تتمثل الموارد الاقتصادية الملموسة في سياسات الحكومة والتخطيط والأداء
٥. () الهواء والشمس موارد محددة الانتشار في العالم
٦. () المعادن والبتروول والمياه موارد متوفرة في كل مكان
٧. () تصنف المعادن والنفط من مصادر الطاقة المتجددة
٨. () من الموارد غير المتجددة الماء والشمس
٩. () يهدف الرعي إلي سد الحاجات الغذائية من الإنتاج الحيواني أو التجارة
١٠. () تصنف الزراعة من حيث اعتمادها على المياه إلي زراعية مروية وكثيفة
١١. () تنتشر الزراعة في السهول الخصبة لكل من كندا والولايات المتحدة والبرازيل وجنوب شرق آسيا

١٢. () تشتهر كل من اليابان والهند والصين وفلسطين بالصناعة
١٣. () تشتهر أوروبا ودول الوطن العربي بالصناعة التحويلية
١٤. () النقل والاتصالات من الأنشطة الخدماتية الحيوية
١٥. () ظهر التعاون الاقتصادي بين الدول بعد الحرب العالمية الأولى
١٦. () تأسست منظمة جات عام ١٩٨٤م للتخفيف من قيود التجارة الدولية
١٧. () التعاون الاقتصادي أمر ضروري بين دول العالم في المجالات الزراعية والصناعية والتجارية و النقل والمواصلات

١٨. () يعتبر الاتحاد الأوروبي ثاني قوة زراعية وصناعية في العالم بعد الصين
١٩. () وقعت الحكومة الفلسطينية عدة اتفاقيات اقتصادية لتعزيز التعاون الاقتصادي بين دول العالم كاتفاقية الشراكة الأوروبية المتوسطية للتجارة

٢٠. () ساهم الاحتلال الصهيوني في تطوير التنوع الاقتصادي في فلسطين
٢١. () تأسس مجلس التعاون الخليجي عام ١٩٨٩م
٢٢. () عقدت فلسطين اتفاقيات اقتصادية وتجارية مع مصر والأردن
٢٣. () ازدهار الاقتصاد الفلسطيني زمن الاحتلال الإسرائيلي
٢٤. () عملت إسرائيل على منع تطوير المؤسسات الفلسطينية المستقلة
٢٥. () هيمنة الاحتلال الإسرائيلي على المعابر الدولية في فلسطين

السؤال الرابع / صحح ما تحته خط في العبارات التالية :

١. الأرض والمياه و التربة و الصناعة من الموارد الاقتصادية الطبيعية ()
٢. السياسة الحكومية والإدارة من الموارد الملموسة ()
٣. المعادن و البترول و الهواء من الموارد محدودة الانتشار ()
٤. مياه الأمطار والطاقة الشمسية و النفط من مصادر الطاقة المتجددة ()
٥. تعتبر الزراعة و الصناعة من أقدم الأنشطة الاقتصادية في العالم ()
٦. تنتشر الزراعة الكثيفة حول انهار العراق ومصر والصين ()
٧. شجعت منظمة اليونسكو التجارة الحرة عام ١٩٤٨م ()
٨. يعد مجلس التعاون الخليجي من التجارب العالمية الناجحة عن طريق التعاون الاقتصادي ()
٩. من الأنشطة الخدماتية السياحة و الصناعة و التجارة ()
١٠. تقسم الزراعة حسب الهدف من الإنتاج إلي زراعة تجارية و واسعة ()
١١. تأسس مجلس التعاون الخليجي عام ١٩٧٥ م ()
١٢. تعتبر الزراعة مقياساً للتقدم الاقتصادي في العالم ()

١٣. تقع سواحل البيرو في أمريكا الشمالية ()
١٤. شهد العالم بعد الحرب العالمية الأولى تعاوناً في المجال الاقتصادي ()
١٥. من الهيئات العالمية التي تهدف لتعزيز التعاون الاقتصادي منظمة الأونروا ()

السؤال الخامس / اختر الإجابة الصحيحة مما بين القوسين :

١. جميع ما يلي من الموارد الطبيعية ما عدا :
(الأرض - الزراعة - المياه - التربة)
٢. تتمثل الموارد الاقتصادية الملموسة في :
(التنظيم - التخطيط - رأس المال - الإدارة)
٣. جميع ما يلي من الموارد محدودة الانتشار ما عدا :
(الهواء - المعادن - البترول - المياه)
٤. جميع ما يلي من الموارد الاقتصادية المتجددة ما عدا :
(الأمطار - الشمس - النفط - الهواء)
٥. تتمثل أهداف تربية الحيوانات :
(إنتاج اللحوم - إنتاج الحليب و البيض - التجارة - جميع ما سبق)
٦. أهم السواحل في أمريكا الجنوبية :
(كاليفورنيا - البيرو - تشيلي - الساحل الفلسطيني)
٧. تنقسم الزراعة حسب اعتمادها على المياه إلي زراعة :
(بعلية - مروية - كثيفة - أ+ب معاً)
٨. الزراعة الهادفة إلي التصدير :
(الكثيفة - التجارية - الواسعة - المعاشية)
٩. الدول التي تمارس الزراعة الكثيفة :
(شرق آسيا - جنوب شرق آسيا - غرب آسيا - جنوب غرب آسيا)
١٠. الدول التي تمارس الزراعة الواسعة :
(الولايات المتحدة - استراليا - مصر - أ+ب معاً)
١١. الدول التي تمارس الزراعة حول الأنهار :
(مصر - العراق - الصين - جميع ما سبق)
١٢. الدول التي تمارس الزراعة في السهول الخصبة ما عدا :
(كندا - استراليا - الولايات المتحدة - البرازيل)
١٣. ظهرت الزراعة في فلسطين في مناطق :
(السواحل - الأغوار - الصحاري - أ+ب معاً)

١٤. تعتبر المقياس للتقدم الاقتصادي في الدول :
- (الزراعة - الصناعة - التجارة - السياحة)
١٥. جميع ما يلي ظهرت فيها الصناعة ما عدا :
- (اليابان - الصين - البرازيل - الصومال)
١٦. من الصناعات الاستخراجية في الوطن العربي وأوروبا :
- (النفط - الفحم - الغاز - جميع ما سبق)
١٧. تتمثل الصناعة التحويلية في :
- (الغذائية - الأثاث - السيارات - جميع ما سبق)
١٨. جميع ما يلي من الأنشطة الخدمائية ما عدا :
- (السياحة - التجارة - الصناعة - النقل والمواصلات)
١٩. يعتبر أهم التجارب العالمية الناجحة على طريق التعاون الاقتصادي :
- (الجات - الاتحاد الأوروبي - التعاون الخليجي - التعاون المغربي)
٢٠. منظمة دولية اهتمت بتخفيف قيود التجارة الدولية و تشجيع التجارة الحرة منذ عام ١٩٤٨م :
- (الجات - الاتحاد الأوروبي - التعاون الخليجي - التعاون المغربي)
٢١. جميع ما يلي من دول مجلس التعاون الخليجي ما عدا:
- (السعودية - الكويت - العراق - قطر)
٢٢. بدأت عمليات تبادل وجهات النظر بين الدول المتقدمة صناعيا عام :
- (١٩١٨م - ١٩٨١م - ١٩٧٥م - ١٩٨٩م)
٢٣. الدول التي طرحت حلول لمواجهة الأزمات الاقتصادية و السياسية :
- (الولايات المتحدة - اليابان - أوروبا - جميع ما سبق)
٢٤. أهم الأزمات الاقتصادية التي تواجه العالم الأزمة :
- (الغذائية - التلوث - المياه - جميع ما سبق)
٢٥. تتمثل إجراءات الصهاينة نحو الاقتصاد الفلسطيني :
- (قصف المنشآت الزراعية - السيطرة على المعابر - مصادرة الأراضي - جميع ما يلي)

السؤال السادس / وفق بين الأنشطة الاقتصادية والنسب المئوية :

١. الزراعة () ٦٥%
٢. الصناعة () ٦%
٣. الخدمات () ٢٩%

السؤال السابع / قارن بين :

١. الزراعة البعلية و الزراعة المروية

٢. الزراعة التجارية و الزراعة المعاشية

٣. الزراعة الكثيفة و الزراعة الواسعة

٤. الصناعة الاستخراجية و الصناعة التحويلية

٥. التجارة و السياحة

٦. التجارة الداخلية و التجارة الخارجية

٧. الصحة و التعليم

٨. منظمة التجارة العالمية (الجات) و الاتحاد الأوروبي من حيث أدوارها نحو التعاون الاقتصادي

السؤال الثامن / اقترح حلاً لتطوير الاقتصاد الفلسطيني من إجراءات الصهاينة ؟

السؤال التاسع / بم تفسر :

١. تنوع الموارد الاقتصادية في العالم ؟

السبب/

٢. أهمية حرفة الصيد بالنسبة للإنسان ؟

السبب/

٣. أهمية حرفة تربية الحيوانات للإنسان ؟

السبب/

٤. أهمية حرفة الزراعة في المجتمع ؟

السبب/

٥. أهمية الصناعة في المجتمع ؟

السبب/

٦. أهمية وسائل الاتصال و التواصل في العالم ؟

السبب/

٧. أهمية التعاون الاقتصادي بين دول العالم ؟

السبب/

٨. تأسيس منظمة التجارة العالمية عام ١٩٤٨ م ؟

السبب/

٩. تأسيس مجلس التعاون الخليجي عام ١٩٨١ م

السبب/

١٠. ضعف مساهمة النشاط الزراعي والصناعي في الناتج الإجمالي للاقتصاد الفلسطيني ؟

السبب/

١١. منع إسرائيل تطوير المؤسسات الفلسطينية المستقلة ؟

السبب/

١٢. هيمنة الاحتلال الصهيوني على المعابر الدولية في فلسطين ؟

السبب/

السؤال العاشر / ما النتائج المترتبة على :

١. الاحتلال الصهيوني لفلسطين ؟

النتيجة /

٢. اعتماد خدمات الكهرباء في فلسطين على شركة كهرباء الاحتلال الصهيوني ؟

النتيجة /

٣. ممارسة سكان الدولة لحرفة الصناعة ؟

النتيجة /

٤. إتباع الإنسان الأساليب العلمية والآلات الحديثة في الزراعة ؟

النتيجة /

السؤال الحادي عشر / ماذا حدث في التواريخ التالية :

١. ١٩٤٨ م :

٢. ١٩٧٥ م :

٣. ١٩٨١ م :

السؤال الثاني عشر / أمامك خريطة العالم ، حدد عليها ما يلي :

(١) المعادن :

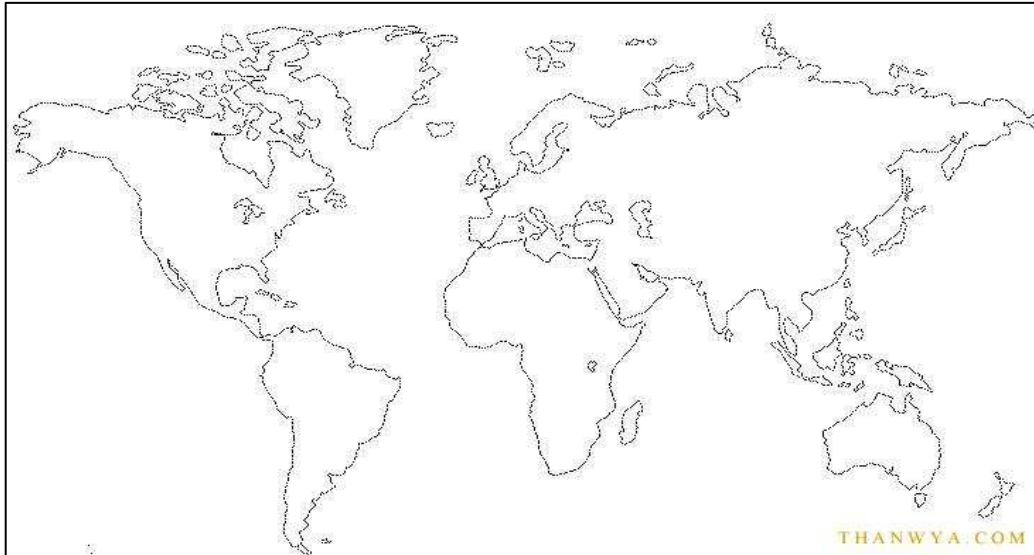
- النفط

- اليورانيوم

- خام الحديد

- النحاس

- البوكسيت



٢) أشهر الأقاليم الصناعية في قارات العالم :

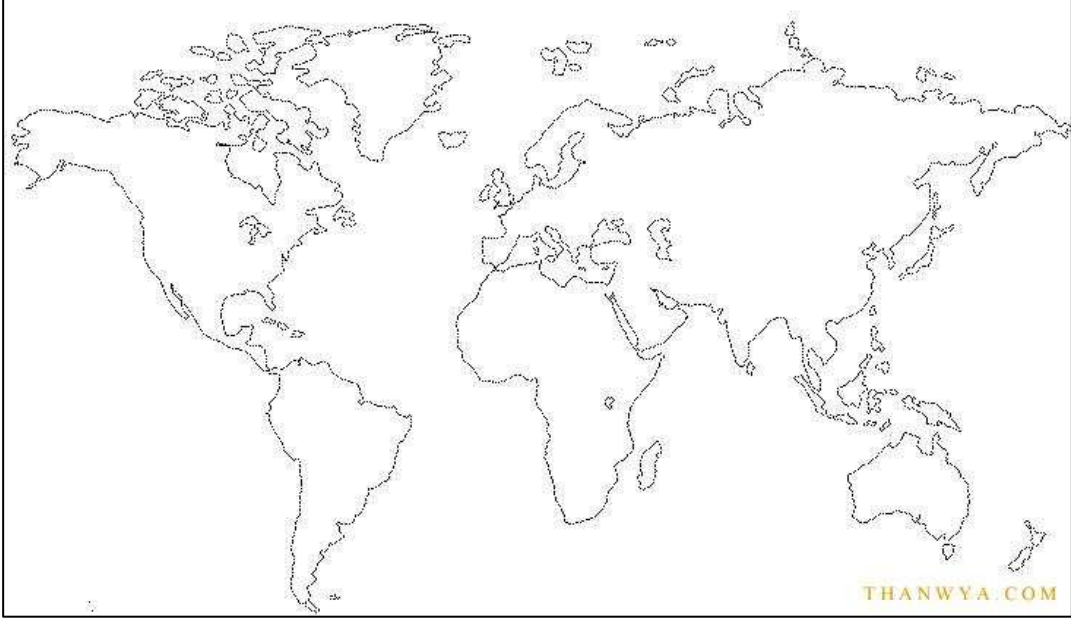
- إقليم شمال شرق الولايات المتحدة

- إقليم غرب ووسط أوروبا

- إقليم روسيا وأوكرانيا

- إقليم شرق آسيا

- مناطق صناعية حديثة



الوحدة الرابعة

تحديات العصر
والتعاون الدولي

الدرس الأول الحروب

السؤال الأول/ أكتب ما تشير إليه العبارات التالية :

١. () ظاهرة عالمية قديمة مارستها الأمم والشعوب عبر مسيرتها التاريخية واختلفت في أهدافها ومسمياتها وأطرافها ومدتها.
٢. () الحروب الداخلية التي تقوم بين طرفين محليين أو أكثر في الدولة .
٣. () الحروب التي تقوم بين طرفين أو أكثر في منطقة جغرافية محددة النطاق .
٤. () الحروب التي تشمل معظم قارات العالم ولها نتائج وخيمة على العالم وتستمر لعدة سنوات
٥. () حرب عالمية استمرت لمدة أربع سنوات بين دول المحور ودول الحلفاء بين عامي ١٩١٤ - ١٩١٨ م.
٦. () حرب عالمية استمرت لمدة ست سنوات بين دول الوسط ودول الحلفاء بين عامي ١٩٣٩ - ١٩٤٥ م.
٧. () صراع غير مباشر يحدث بين الدول العظمى في وسائل الإعلام والتعليم والجوانب العسكرية.
٨. () اتفاقية دولية اهتمت بحقوق الجرحى والأسرى والمدنيين في الحروب عام ١٩٤٩ م.
٩. () اتفاقية دولية تلزم الدول بالتعهد على إزالة الألغام بعد نهاية الحروب عام ١٩٩٧ م.
١٠. () لجنة دولية مستقلة نشأت عام ١٩٧٦ م لنجدة العسكريين المجرحين في الحروب.

السؤال الثاني / أكمل الفراغات التالية :

١. تختلف الحروب بين الأمم من حيث _____ و _____ و _____ و _____ و _____ .
٢. _____ بين الدول الاستعمارية من أهم العوامل التي أدت إلي الحروب.
٣. ترجع الحروب القائمة في العالم إلى أسباب _____ و _____ و _____ و _____ .
٤. حرب الثلاثين عاماً التي عمت القارة الأوروبية ترجع إلى أسباب _____ وتركزت بين _____ و _____
_____ باستثناء _____ و _____
٥. من الحروب الدينية حروب _____ في العصور الوسطى.
٦. تعتبر _____ أحدث أسباب الحروب، وبدأت في قارة _____ خاصة بعد قيام الثورة _____ .
٧. حدث نزاع قومي بين بلغاريا ويوغسلافيا واليونان على إقليم _____ .
٨. تمثلت دول الاتحاد اليوغسلافي في _____ و _____ و _____ .
٩. حدثت حرب _____ بين الدولة العثمانية وروسيا عام ١٨٥٣م نتيجة لرفض الدول العثمانية في فتح قنصلية لروسيا في مدينة _____ .
١٠. تعتبر _____ أقدم أسباب الحروب .

١١. من الأمثلة على الحروب الأهلية _____ و _____ و _____ .
١٢. الحروب التي تحدث حالياً في الوطن العربي حروب _____ مثل دولة _____ و _____ و _____ و _____ .
١٣. من الحروب الإقليمية _____ و _____ و _____ و _____ .
١٤. تعتبر الحروب _____ و _____ من الحروب العالمية.
١٥. تعتبر الحروب _____ أكبر أنواع الحروب.
١٦. تنقسم الحروب إلى _____ و _____ و _____ .
١٧. حدثت الحرب العالمية الأولى بين دول _____ و _____ لمدة _____ بينما حدثت الحرب العالمية الثانية بين دول _____ و _____ لمدة _____ .
١٨. تتمثل الحرب الباردة في _____ و _____ و _____ و _____ و _____ .
١٩. تؤثر نتائج الحروب في جميع القطاعات _____ بصورة مؤقتة أو دائمة.
٢٠. تظهر النتائج الاجتماعية للحروب في _____ و _____ و _____ و _____ .
٢١. تتمثل النتائج السياسية للحروب في _____ و _____ و _____ و _____ .
٢٢. من حركات التحرر التي حاربت الاستعمار حتى نيل الاستقلال _____ في الجزائر في مواجهات الاحتلال الفرنسي و _____ في مواجهة الاحتلال الصهيوني .
٢٣. _____ أول من وضع فكرة الحد من المعاناة التي تسببها الحروب بعد معركة سولفرينو عام ١٩٥٩م .
٢٤. البروتوكول _____ و _____ من اتفاقية جنيف الرابعة تتعلقان بالحروب _____ و _____ وحركات _____ .
٢٥. ينص البروتوكول الأول لاتفاقية جنيف الرابعة على _____ أما البروتوكول الثاني يتعلق ب _____ .
٢٦. تلزم معاهدة _____ عام ١٩٩٧م كل الدول بالتعهد بإزالة الألغام الأرضية وتدميرها بعد انتهاء النزاعات المسلحة على أن لا يتعدى ذلك _____ سنوات من بدء _____ .
٢٧. أنشأت اللجنة الدولية ل _____ لنجدة العسكريين المجرحين عام ١٨٢٦م .

السؤال الثالث / ضع إشارة (√) أمام العبارة الصحيحة وإشارة (×) أمام العبارة الخطأ :

١. () الحرب ظاهرة عالمية قديمة مارستها الأمم والشعوب.
٢. () تتشابه أهداف الحروب بين الأمم.
٣. () الأدوات المستخدمة في الحروب قديماً أسوأ من الأدوات المستخدمة في الحروب حديثاً من حيث الآثار الناتجة عنها.
٤. () الصراعات القبلية التي دارت في شبه الجزيرة العربية قبل الإسلام ترجع إلى أسباب اقتصادية.
٥. () من الصراعات القومية بين أقاليم شبه جزيرة البلقان التي عملت على تفتيت وحدتها السياسية.

٦. () التضارب في العلاقات الدولية أدت إلى قيام الحروب السياسية.
٧. () تعتبر الحروب الإقليمية أكبر أنواع الحروب.
٨. () الحرب الأهلية الصينية والحرب الأهلية الروسية من الحروب العالمية.
٩. () شهد العالم حربين عالميتين خلال القرن السابع عشر والثامن عشر.
١٠. () حدثت الحرب الباردة بين الاتحاد السوفيتي والولايات المتحدة الأمريكية بعد الحرب العالمية الثانية عام ١٩٤٥م.
١١. () تركت الحروب آثاراً إيجابية على المجتمعات والشعوب.
١٢. () تدمير البيئة التحتية من النتائج الاقتصادية للحروب.

السؤال الرابع / اختر الإجابة الصحيحة مما بين القوسين:

١. قصفت القوات الأمريكية عام ١٩٧٣م دولة (فيتنام - العراق - ليبيا)
٢. شاركت الولايات المتحدة الأمريكية في الحرب العالمية الثانية عام (١٩٣٩م - ١٩٤٥م - ١٩١٤م)
٣. تعرضت قطاع غزة للعدوان الإسرائيلي عام (١٩٨٧م - ٢٠٠٠م - ٢٠١٤م)
٤. من الأسباب الاقتصادية للحروب (السيطرة على الأسواق - التطرف الديني - تضارب العلاقات الدولية)
٥. تعتبر أقدم أسباب الحروب الأسباب (السياسية - القومية - الاقتصادية)
٦. تعتبر أحدث أسباب الحروب الأسباب (السياسية - القومية - الاقتصادية)
٧. الصراعات القائمة بين إقليم شبه جزيرة البلقان والاتحاد اليوغسلافي (السياسية - القومية - الدينية)
٨. أسباب حدوث حرب الثلاثين عام بين دول قارة أوروبا باستثناء روسيا وبريطانيا (السياسية - القومية - الاقتصادية)
٩. الحرب الأهلية الروسية استمرت لمدة (ثلاث سنوات - أربع سنوات - خمسة سنوات)
١٠. الحرب اللبنانية ما بين ١٩٧٨م - ١٩٥٧م (إقليمية - أهلية - عالمية)
١١. تعتبر أكبر أنواع الحروب (أهلية - إقليمية - عالمية)
١٢. جميع ما يلي من الحروب الأهلية ما عدا (الصينية - اللبنانية - النشادية)
١٣. حدوث حرب العراق مع إيران (أهلية - إقليمية - عالمية)
١٤. من الدول التي شهدت حروباً أهلية في الوقت الحالي (مصر - ليبيا - كلاهما)
١٥. من دول المحور في الحرب العالمية الأولى ما عدا (ألمانيا - بريطانيا - الدولة العثمانية)
١٦. من دول الحلفاء في الحرب العالمية الثانية ما عدا (أمريكا - بريطانيا - اليابان)
١٧. انهار الاتحاد السوفيتي عام (١٩٣٩م - ١٩٩١م - ١٩٤٥م)
١٨. المدة الفاصلة بين الحرب العالمية الأولى و الحرب العالمية الثانية (١٠ سنوات - ٢٠ سنة - ١٥ سنة)
١٩. اتفاقية اهتمت بحقوق الجرحى والمدننين والأسرى (جنيف الرابعة - أوسلو - كامب ديفيد)
٢٠. ظهور حركات التحرر بالنسبة للحروب من النتائج (الاقتصادية - الاجتماعية - السياسية)

السؤال الخامس/ ماذا حدث في التواريخ التالية :

١. ١٩٧٣ م : _____
٢. ١٩٤٥ م : _____
٣. ٢٠١٤ م : _____
٤. ١٨٥٣ م : _____
٥. ١٩٤٨ م : _____
٦. ١٩٦٧ م : _____
٧. ١٩١٤-١٩١٨ م : _____
٨. ١٩٣٩-١٩٤٥ م : _____
٩. ١٩٩١ م : _____
١٠. ١٨٥٩ م : _____
١١. ١٨٦٣ م : _____
١٢. ١٩٤٩ م : _____
١٣. ١٩٧٧ م : _____
١٤. ١٨٧٦ م : _____
١٥. ١٩٩٧ م : _____

السؤال السادس / صنف :

- صنف الحروب حسب الأسباب :

الصراعات القبلية - الصراع العثماني الروسي - صراع أقاليم شبه جزيرة البلقان - حرب الثلاثين عاماً - صراع الاتحاد اليوغسلافي - صراع بلغاريا ويوغسلافيا - الحروب الفرنجية - التنافس الاستعماري.

أسباب دينية	أسباب اقتصادية	أسباب قومية	أسباب سياسية

- صنف الحروب حسب الأنواع :

الحرب العالمية الأولى - الحرب الصينية - حروب الوطن العربي - الحرب العراقية الإيرانية - الحرب اللبنانية -
الحرب الكورية - حروب العرب مع الاحتلال الصهيوني - الحرب العالمية الثالثة - الحرب الروسية - الحرب
التشادية.

الحروب العالمية	الحروب الإقليمية	الحروب الأهلية

السؤال السابع / قارن بين :

١ . الحروب الأهلية والإقليمية والعالمية من حيث التعريف والأمثلة.

.....
.....
.....

٢ . الحرب العالمية الأولى والحرب العالمية الثانية من حيث الدول والتاريخ.

.....
.....

٣ . النتائج الاقتصادية والنتائج الاجتماعية والنتائج السياسية للحروب

.....
.....
.....

٤ . اللجنة الدولية للصليب الأحمر واتفاقية جنيف الرابعة ومعاهدة أوتاوا.

.....
.....
.....

السؤال الثامن / بم تفسر:

١. حدوث الحروب بين دول العالم.
السبب/ _____.
٢. لصراعات القبلية في شبه الجزيرة العربية قبل الإسلام.
السبب/ _____.
٣. التنافس الاستعماري بين الدول الأوروبية على الدول العربية.
السبب/ _____.
٤. حدوث حرب الثلاثين عاماً في قارة أوروبا بين عامي (١٦١٨ - ١٦٤٨ م).
السبب/ _____.
٥. تعرض المشرق الإسلامي للحروب الفرنجية خلال العصور الوسطى.
السبب/ _____.
٦. حدوث نزاع قومي بين بلغاريا ويوغسلافيا واليونان.
السبب/ _____.
٧. تفكيك الإتحاد اليوغسلافي إلى عدة دول.
السبب/ _____.
٨. حدوث حرب بين الدولة العثمانية وروسيا عام ١٨٥٣م.
السبب/ _____.
٩. تعتبر الحروب العالمية أكبر أنواع الحروب.
السبب/ _____.
١٠. تسمية الحرب العالمية بهذا الاسم.
السبب/ _____.
١١. انتهاء الحرب الباردة عام ١٩٩١م.
السبب/ _____.
١٢. حصول الجزائر على الاستقلال وحق تقرير المصير عام ١٩٦٢م.
السبب/ _____.
١٣. عقد الاجتماعات وإبرام الاتفاقيات الدولية الخاصة بالحروب.
السبب/ _____.
١٤. تأسيس اللجنة الدولية للصليب الأحمر عام ١٨٦٦م.
السبب/ _____.

السؤال التاسع / ما النتائج المترتبة على :

١ . الصراعات القومية بين أقاليم شبه جزيرة البلقان والاتحاد اليوغسلافي .

النتيجة/ _____ .

٢ . رفض الدولة العثمانية الضغوط الروسية في فتح قنصلية لها في القدس .

النتيجة/ _____ .

٣ . الصراع الديني بين الكاثوليك والبروتستانت بقارة أوروبا .

النتيجة/ _____ .

٤ . حدوث الحروب الإقليمية في دولة كوريا .

النتيجة/ _____ .

٥ . حدوث الحروب الأهلية في السودان .

النتيجة/ _____ .

٦ . حدوث الحروب بين الدول .

النتيجة/ _____ .

٧ . الحروب التي خاضتها حركات التحرر الوطني في مواجهة الاستعمار .

النتيجة/ _____ .

٨ . عقد معاهدة أوتاوا عام ١٩٩٧م .

النتيجة/ _____ .

السؤال العاشر/ ماذا يحدث إذا :

١ . الابتعاد عن التطرف الديني وانتشار التسامح في العالم .

الحدث/ _____ .

٢ . التزام الدول ببنود اتفاقية جنيف الرابعة .

الحدث/ _____ .

٣ . التزام الدول بمعاهدة أوتاوا .

الحدث/ _____ .

٤ . استمرار الحرب الباردة بين روسيا وأمريكا

الحدث/ _____ .

٥ . الاستقرار السياسي في دول الوطن العربي .

النتيجة/ _____ .

الدرس الثاني الانفجار السكاني

السؤال الأول / اكتب ما تشير إليه العبارات التالية :

١. () التزايد المفرط والتسارع في عدد السكان فيحتل فيه التوازن بين أعداد السكان وحاجاتهم من الموارد الغذائية والاقتصادية.
٢. () التباعد بين الولادات لدي الأم لإعطاء كل طفل حق في الرعاية والرعاية.
٣. () حركة انتقال الأفراد من منطقة لأخرى إجباراً عنهم بسبب الحروب وعدم الاستقرار السياسي.
٤. () زواج يقع في سن لم يكتمل فيه النمو الجسمي والعقلي والاجتماعي والانفعالي للفتي أو الفتاة.
٥. () نظرية قائمة علي تحديد العلاقة بين السكان والموارد.
٦. () عملية تحويل المساحات الزراعية إلى مناطق سكنية.

السؤال الثاني/ أكمل الفراغات التالية:

١. تعاني كل من قارة _____ و _____ و _____ من النقص في الاحتياجات الغذائية والاقتصادية.
٢. يتزايد السكان وفق متوالية _____ حسب نظرية مالثوس بينما الغذاء يتزايد وفق متوالية _____.
٣. يتمثل حل مشكلة الاكتظاظ السكاني حسب نظرية مالثوس في _____ و _____.
٤. ترتفع _____ في حالة ارتفاع معدلات المواليد وانخفاض معدلات الوفيات مما يسبب _____.
٥. يولد _____ مواليد كل ثانية، وهذا يعني أن _____ مولود يضافون إلى عدد سكان العالم يومياً
٦. أهم الانتقادات الموجهة لنظرية مالثوس _____.
٧. تتمثل أسباب الانفجار السكاني في _____ و _____ و _____ و _____.
٨. _____ ظاهرة تؤدي إلي الزيادة في عدد المواليد خلال فترة الإنجاب.
٩. أهم الأمراض المسببة في ارتفاع معدلات الوفيات _____ و _____ و _____.
١٠. توجد علاقة _____ بين عمر المرأة عند الزواج الأول وعدد الأطفال المنجبين.
١١. يوجد أكثر من _____ شخص في العالم لا يحصلون علي غذاء كاف، ومعظمهم يتركزون في الدول _____.
١٢. _____ تطلق على ارتفاع نسبة الأطفال وكبار السن مقارنة بأعداد السكان ممن هم في سن العمل
١٣. ينجم عن ظاهرة الانفجار السكاني _____ و _____ و _____ و _____ و _____.
١٤. أهم الطرق للحد من الانفجار السكاني في العالم _____ و _____.
١٥. تبنت الحكومة الصينية عام _____ سياسة تحديد النسل بإنجاب طفل واحد.

١٦. تعتبر _____ أكثر المناطق ازدحاماً بالسكان.
١٧. بلغ معدلات المواليد _____ مولوداً لكل ألف من السكان في قطاع غزة بينما في الضفة الغربية _____ مولوداً.
١٨. أهم المدن التي تعرضت للهجرات القسرية في فلسطين _____ و _____ و _____ و _____.
١٩. بلغ عدد المهاجرين إلى قطاع غزة أثر نكبة ١٩٤٨ م _____ لاجئ.
٢٠. تعتبر _____ أعلى الكثافات السكانية في العالم، إذ بلغت _____ نسمة/كم.
٢١. بلغت نسبة الفقر المدقع _____ % في قطاع غزة بينما نسبة البطالة _____.
٢٢. بلغ أعداد سكان قطاع غزة _____ نسمة في مساحة قدرها _____ كم².

السؤال الثالث/ اختر الإجابة الصحيحة مما بين القوسين:

١. نظرية اهتمت بدراسة العلاقة بين السكان والموارد (مالثوس- فيتاغورس - إقليدس)
٢. عوامل الانفجار السكاني في العالم (ارتفاع معدلات المواليد- انخفاض معدلات الوفيات - كلاهما معا)
٣. الزواج المبكر يؤدي إلى ارتفاع معدلات (المواليد - الوفيات - الهجرة)
٤. العلاقة القائمة بين عمر المرأة وعدد الأطفال المنجبين (طردية - عكسية - تبادلية)
٥. جميع ما يلي من أسباب الانفجار السكاني ما عدا (التقاليد الاجتماعية-انخفاض التعليم-انتشار الفقر)
٦. اليوم الذي اتخذته العالم يوماً للسكان العالمي (١١ تموز - ١١ فبراير - ١١ يوليو)
٧. أدي تركيز السكان في المدن إلى (التلوث - ازدحام مروري - كلاهما معاً)
٨. تبنت الصين سياسة سكانية تمنع الزوجين من إنجاب أكثر من طفل واحد (١٩٧٨م-٢٠١٣م-٢٠١٥م)
٩. بلغ أعداد سكان قطاع غزة (مليون - ٢ مليون - ١.٥ مليون نسمة)
١٠. بلغت مساحة قطاع غزة (٣٣٥ كم² - ٣٥٦ كم² - ٣٦٥ كم²)
١١. بلغ عدد المهاجرين اللاجئيين إلى قطاع غزة عام ١٩٤٨ م (١٩٠ ألف - ١٠٠ ألف - ٥٠٠ ألف)
١٢. تعتبر أكثر المناطق الفلسطينية من حيث الكثافة السكانية (الضفة الغربية - الأراضي المحتلة - قطاع غزة)

السؤال الرابع / ضع إشارة (√) أمام العبارة الصحيحة وإشارة (x) أمام العبارة الخطأ :

١. () يتزايد الغذاء وفق متوالية هندسية حسب نظرية مالثوس.
٢. () نظر مالثوس للتزايد السكاني نظرة تفاؤلية.
٣. () تزايد الحبوب بمعدل ٢.٦ مرة في الوقت الذي تزايد فيه السكان بمعدل ١.٩ مرة.
٤. () يولد في العالم ثلاثة أطفال كل دقيقة.
٥. () يزداد يومياً ربع مليون مولود في العالم.

٦. () التوسع في إنتاج الأدوية واللقاحات يؤدي إلى خفض معدلات الوفيات.
٧. () توفير الغذاء كماً ونوعاً يؤدي إلى التقليل من ظاهر الجوع ومعدلات الوفيات.
٨. () نقص الوعي والتخطيط والموازنة بين عدد أفراد الأسرة يؤدي إلى ارتفاع في معدلات المواليد.
٩. () تنتشر ظاهرة الفقر والجوع في الدول المتقدمة.
١٠. () ارتفاع أعداد السكان يؤدي إلى ارتفاع معدلات الإعالة.
١١. () تنتشر في الدول النامية ظاهرة عمالة الأطفال.
١٢. () الزيادة السكانية ساهمت في انخفاض معدلات التلوث الهوائي والمائي والتربة.
١٣. () التوسع الرأسي في الإنتاج الزراعي وتخزينه باستخدام الوسائل الحديثة يحد من ظاهرة الانفجار السكاني
١٤. () سمح القرار الحكومي الصيني عام ٢٠١٥ بإنجاب طفلين كحد أقصى.
١٥. () يعاني قطاع غزة من ضغط كبير على المرافق التعليمية والصحية.
١٦. () ترتفع معدلات المواليد في قطاع غزة أكثر من الضفة الغربية.
١٧. () بلغت نسبة البطالة في قطاع غزة ٢١%.
١٨. () أكد قرار (١٨١) علي حق عودة اللاجئين الفلسطينيين إلى أراضيهم الأصلية.
١٩. () الهجرات القسرية والزيادة الطبيعية ساهمت في التزايد السكاني لقطاع غزة.
٢٠. () تعتبر أراضي ١٩٤٨م أكثر المناطق ازدحاماً بالسكان في فلسطين.

السؤال الخامس / أكتب ماذا حدث في التواريخ التالية :

١. ١٩٥٠م : _____
٢. ١٩٨٤م : _____
٣. ١٩٧٨م : _____
٤. ٢٠١٣م : _____
٥. ٢٠١٥م : _____
٦. ١٩٤٨م : _____
٧. ٢٠١٥م : _____
٨. ٢٠١٦م : _____
٩. ٢٠١٤م : _____
١٠. ١٩٤٩م : _____
١١. ٢٠٠٦م : _____

السؤال السادس / بم تفسر :

١. ظهور مشكلة الانفجار السكاني في الدول النامية.
السبب/ _____.
٢. تعرض نظرية مalthus للكثير من الانتقادات.
السبب/ _____.
٣. حدوث الانفجار السكاني في العالم.
السبب/ _____.
٤. انخفاض معدلات الوفيات في العالم.
السبب/ _____.
٥. ارتفاع معدلات المواليد في المجتمعات النامية.
السبب/ _____.
٦. الزحف العمراني علي حساب الأراضي الزراعية.
السبب/ _____.
٧. الاكتظاظ السكاني في قطاع غزة بعد عام ١٩٤٨م.
السبب/ _____.
٨. ارتفاع معدلات البطالة في قطاع غزة.
السبب/ _____.
٩. يعاني قطاع غزة من أزمة اقتصادية خانقة في الوقت الحالي.
السبب/ _____.
١٠. حدوث الأزمات الإسكانية و الازدحامات المرورية في العالم.
السبب/ _____.

السؤال السابع / ما النتائج المترتبة على :

١. ارتفاع معدلات المواليد في الدولة.
النتيجة/ _____.
٢. انخفاض معدلات الوفيات في الدولة.
النتيجة/ _____.
٣. ارتفاع معدلات الزيادة الطبيعية في العالم.
النتيجة/ _____.

٤. تحسن مستوي الغذاء كماً وكيفاً في الدول.

النتيجة/ _____

٥. انتشار ظاهرة الزواج المبكر في المجتمع.

النتيجة/ _____

٦. انخفاض مستوي التعليم لدي المرأة.

النتيجة/ _____

٧. الانفجار السكاني في العالم.

النتيجة/ _____

٨. التزايد السكاني المفرط علي الموارد الطبيعية.

النتيجة/ _____

٩. تعرض قطاع غزة للعدوان الإسرائيلي عام ٢٠١٤م.

النتيجة/ _____

١٠. تعرض فلسطين للهجرات القسرية عام ١٩٤٨م.

النتيجة/ _____

السؤال الثامن / هات دليلاً تاريخياً أو جغرافياً على العبارات التالية:

أ. تنظيم الأسرة.

الدليل/ _____

ب. تحديد النسل.

الدليل/ _____

ت. الهجرات القسرية (الإجبارية) .

الدليل/ _____

ث. حق عودة اللاجئين.

الدليل/ _____

السؤال التاسع / اقترح حلاً للمشكلات التالية:

١. الانفجار السكاني في العالم.

الحل/ _____

٢. الزحف العمراني.

الحل/ _____.

٣. الاكتظاظ السكاني في قطاع غزة.

الحل/ _____.

السؤال العاشر / ماذا يحدث إذا:

أ. تطبيق قرار (١٩٤) في فلسطين.

الحدث/ _____.

ب. ارتفاع مستوي التعليم لدي المرأة في المجتمع.

الحدث/ _____.

ت. تراجع ظاهرة الزواج المبكر في الدولة.

الحدث/ _____.

ث. التزام الدول بسياسة تنظيم الأسرة.

الحدث/ _____.

الدرس الثالث المجاعات

السؤال الأول / اكتب ما تشير إليه العبارات التالية :

١. () النقص الشديد في المواد الغذائية لحياة السكان وعدم قدرتهم على الحصول عليها في منطقة ما خلال فترة زمنية معينة.
٢. () ظاهرة تتمثل في انحباس المطر أو نقص معدلاتها عن الطبيعي بشكل كبير.
٣. () ارتفاع درجة الحرارة مما يؤثر على مناخ سطح الأرض.
٤. () زيادة أو نقصان في أحد عناصر البيئة عن طريق دخول مواد غريبة إليه.
٥. () عوامل طبيعية وبشرية ساهمت في نقص خصوبة التربة مما يجعلها غير صالحة للزراعة.
٦. () المياه المختزنة في باطن الأرض.
٧. () ارتباط دولة ضعيفة بدولة قوية سياسياً وتمثل في العلاقة غير المتكافئة بين الدول الاستعمارية والدول الفقيرة.
٨. () تتمثل في الديون التي تستخدمها الدول الغربية ضد الدول النامية مما يجعل الدول الضعيفة تابعة للدول الأجنبية.
٩. () منظمة الأغذية والزراعة للأمم المتحدة.
١٠. () منظمة الأمم المتحدة للطفولة.

السؤال الثاني / أكمل الفراغات التالية:

١. تعرضت مراكش عام ١٧٧٩م لموجة _____ وهلك بها ما يقارب _____ نسمة.
٢. تتمثل الأسباب الطبيعية للمجاعات في _____ و _____ و _____ و _____ .
- بينما من الأسباب البشرية _____ و _____ و _____ .
٣. يترتب على المجاعات آثار سلبية مثل _____ و _____ و _____ و _____ .
٤. مواجهة المجاعات مسؤولية _____ و _____ تستدعي تضافر الجهود الوطنية والإقليمية والدولية بمواجهتها.
٥. من أهم المنظمات العربية التي تسهم في الحد من ظاهرة المجاعات المنظمة _____ بينما من المنظمات الدولية _____ و _____ و _____ .

السؤال الثالث / اختر الإجابة الصحيحة مما بين القوسين :

١. المخيم السوري الذي تعرض للمجاعات (اليرموك - عين الحلوة - الوحدات)
٢. من الدول العربية التي تعرضت للجفاف (الجزائر - السودان - السعودية)
٣. تعرضت فلسطين لغزو الجراد عام (١٩١٦م - ١٩٤٨م - ١٩٦٧م)
٤. تعرضت فلسطين لموجات البرد والصقيع عام (١٩٤٨م - ١٩٥١م - ١٩٦٧م)
٥. الأسطول الذي منع حركة الاستيراد والتصدير من موانئ بلاد الشام (الفرنسي - الإيطالي - البريطاني)
٦. بلغ عدد الوفيات في كوريا الشمالية نتيجة للمجاعات (٢ مليون - ٣ مليون - ٤ مليون)
٧. من آثار المجاعات (تفشي الأمراض - الهجرة - كلاهما معا)
٨. منظمة الأغذية والزراعة التابعة للأمم المتحدة (الفاو - اليونيسيف - اليونسكو)
٩. منظمة الأمم المتحدة للطفولة (الفاو - اليونيسيف - اليونسكو)
١٠. عقد مؤتمر القمة العالمي للغذاء عام ١٩٩٦م في مدينة (باريس - لندن - روما)
١١. من المنظمات الدولية التي تقدم المساعدات العاجلة لضحايا المجاعات (الصليب الأحمر - الهلال الأحمر - اليونيسيف)
١٢. المنظمة العربية التي هدفت إلى تحقيق تنمية عربية زراعية لمواجهة المجاعات والمشكلات الزراعية.... (منظمة الأغذية والزراعة للأمم المتحدة - المنظمة العربية للتنمية - منظمة الأمم المتحدة للطفولة)

السؤال الرابع / ضع إشارة (√) أمام العبارة الصحيحة وإشارة (x) أمام العبارة الخاطئة:

١. () تعرض كثير من مناطق العالم منذ القدم للمجاعات.
٢. () انتشر الجفاف والأوبئة في كل من أثيوبيا والسودان والصومال.
٣. () حالات الانجماد والصقيع أدت إلى هلاك المحاصيل الزراعية.
٤. () سوء استخدام الإنسان للبيئة أدى إلى استنزاف الموارد الطبيعية.
٥. () تنخفض معدلات الوفيات في الدول التي تعاني من المجاعات وخاصة الأطفال وكبار السن.
٦. () تعاني الدول الخاضعة للتبعية الاقتصادية والسياسية للدول الأجنبية من المجاعات.
٧. () مواجهة المجاعات مسئولية جماعية ووقائية.
٨. () يقدم الصليب الأحمر المساعدات العاجلة لضحايا المجاعات والحروب .
٩. () اهتمت منظمة الفاو بالتنمية الزراعية والاقتصادية في الدول.
١٠. () المجاعات تؤدي إلى إرهاب ميزانية الدول.

السؤال الخامس / اقترح حلاً لمشكلة المجاعة ؟

السؤال السادس / بم تفسر :

١. نفوق القطعان في السودان

السبب/ _____

٢. تعرض مخيم اليرموك في سوريا للمجاعات

السبب/ _____

٣. انخفاض وزن الأطفال في اليمن

السبب/ _____

٤. انتشار المجاعات في الصومال والسودان وأثيوبيا

السبب/ _____

٥. تعرض الكثير من مناطق العالم للمجاعات

السبب/ _____

٦. هلاك المحاصيل الزراعية في فلسطين في شباط عام ١٩٥١م

السبب/ _____

٧. تدمير المحاصيل الزراعية في فلسطين عام ١٩١٦م

السبب/ _____

٨. تفشي الأمراض في بعض المجتمعات

السبب/ _____

السؤال السابع / ما النتائج المترتبة على :

١. النمو السكاني مرتفع في الدولة

النتيجة/ _____

٢. انتشار المجاعات في العالم

النتيجة/ _____

٣. التبعية الاقتصادية والسياسية في الدول النامية للدول الأجنبية.

النتيجة/ _____.

٤. سوء التغذية وتفشي الأمراض في الدول النامية.

النتيجة/ _____.

٥. استنزاف الموارد الطبيعية في الدولة.

النتيجة/ _____.

الدرس الرابع

حماية التراث الثقافي الإنساني

السؤال الأول / اكتب المصطلح الدال على العبارات التالية :

١. () الموروثات من المقتنيات المادية والمعنوية من الأجيال السابقة ويتم تناقلها عبر الأجيال اللاحقة.
٢. () التراث الملموس والمرئي بالعين كالأماكن الأثرية والتاريخية.
٣. () التراث غير الملموس وتتناقله الأجيال بوسائط مادية وغير مادية كاللغة والأمثال والشعر .
٤. () منظمة الأمم المتحدة للتربية والعلوم والثقافة ومهتمة بالحفاظ على التراث الثقافي للعالم.
٥. () حالة الجو لمكان ما خلال فترة زمنية طويلة.
٦. () مساحات توجد فيها نباتات طبيعية أو حيوانات برية أو أماكن أثرية تخضع للقوانين لحمايتها.
٧. () أحد العناصر الأساسية لتنشيط السياحة ورمز خزينة الدولة بالعملة الصعبة.
٨. () أحد مصادر المعرفة التاريخية التي تعد شاهداً ورمزاً صادقاً على الإبداع الإنساني وفنونه وأصالته
٩. () اتفاقية دولية نصت على حماية الممتلكات الثقافية أثناء النزاعات المسلحة عام ١٩٥٤م.
١٠. () المنظمة العربية للتربية والثقافة والعلوم أسستها الجامعة العربية عام ١٩٧٠م للاهتمام بالتراث.
١٣. () المنظمة الإسلامية للتربية والعلوم والثقافة اهتمت بالمحافظة على الثقافة والهوية الإسلامية.
١٤. () الفطريات والحشرات والديدان تؤثر سلباً على التراث المادي.

السؤال الثاني/ أكمل الفراغات التالية:

١. خصصت اليونسكو يوم _____ من كل عام يوماً للتراث، بينما خصصت فلسطين يوم _____ من كل عام يوماً للتراث الفلسطيني.
٢. من الأمثلة علي التراث المادي _____ و _____ و _____ بينما من الأمثلة علي التراث المعنوي _____ و _____ و _____ و _____.
٣. تتمثل أهمية التراث في _____ و _____ و _____ و _____ و _____.
٤. يتعرض التراث الثقافي لنوعان من المخاطر هما المخاطر _____ و _____.
٥. تتمثل المخاطر الطبيعية للتراث الثقافي _____ و _____ و _____ و _____.
٦. أهم الطرق لحماية التراث الثقافي _____ و _____ و _____ و _____ و _____.

٧. أغلق مقر منظمة _____ في مدينة القدس .
٨. تعرض سد _____ في اليمن للزلازل مما أدى إلى هجرة القبائل العربية منها إلى _____ .
٩. سميت الكثير من المواقع الأثرية الفلسطينية بأسماء _____ .
١٠. حصلت فلسطين علي العضوية الكاملة في منظمة اليونسكو بتاريخ _____ .
١١. أهم إجراءات اليونسكو نحو التراث الفلسطيني عام ٢٠٠٧م _____ و _____ و _____ .
١٢. اختارت منظمة _____ القدس عاصمة الثقافة العربية عام ٢٠٠٩م .
١٣. تمثلت أهداف منظمة الإيسيسكو _____ و _____ و _____ .
١٤. أهم الطرق لحماية التراث الثقافي من مدينة القدس _____ و _____ و _____ .
١٥. أهم المعالم الأثرية في مدينة القدس _____ و _____ و _____ .

السؤال الثالث / ضع إشارة (√) أمام العبارة الصحيحة وإشارة (x) أمام العبارة الخطأ:

١. () خصصت اليونسكو يوم ٤/١٨ من كل عام يوماً للتراث.
٢. () اهتم الفلسطينيون في مواجهة سياسة الاحتلال الصهيوني في طمس التراث.
٣. () اللغة والشعر والعادات من التراث المادي.
٤. () يتمثل التراث المادي في المحميات الطبيعية والعملات القديمة والأماكن الأثرية.
٥. () التراث الثقافي رمز الهوية الوطنية للدولة.
٦. () حظي التراث باهتمام الأمم والشعوب.
٧. () التراث الثقافي يوثق علاقة الإنسان بالقيم الروحية والأماكن الدينية المقدسة.
٨. () تنافس القدس المدن المقدسة الأخرى بالعالم بالرسالات السماوية بما يفوق نصف سكان العالم .
٩. () يعد التراث الثقافي الإنساني من مصادر المعرفة التاريخية.
١٠. () الحفاظ علي النباتات والحيوانات والطيور المهتدة بالانقراض يؤدي إلى تنشيط البيئة المحلية.
١١. () يعاني التراث من مخاطر طبيعية فقط.
١٢. () تتمثل المخاطر البشرية للتراث في الحروب والسرقة والزلازل.
١٣. () نصف المادة الرابعة من اتفاقية لاهاي على حماية التراث الفلسطيني المنقول وغير المنقول وخاصة القدس.
١٤. () اعترفت الألكسو بعضوية فلسطين عام ٢٠١١م .
١٥. () قام الاحتلال الصهيوني بعدة حفريات في باب المغاربة بالخليل.

السؤال الرابع / صحح ما تحته خط في العبارات التالية:

١. خصصت فلسطين يوم ٤/١٨ يوماً للتراث الفلسطيني []
٢. تعتبر الأمثال والحكايات من التراث المادي []
٣. يقع باب المغاربة في مدينة الناصرة []
٤. تقع قرية بيتير الفلسطينية غرب مدينة القدس []
٥. يوجد المسجد الأقصى في مدينة الخليل []
٦. حصلت فلسطين علي العضوية الكاملة في اليونسكو عام ٢٠١٣م []
٧. أسست الجامعة العربية منظمة الإيسكو عام ١٩٧٠م []
٨. عقدت اتفاقية لاهاي عام ١٩٥٤م لحماية التراث الثقافي []

السؤال الخامس / أكتب ماذا حدث في التواريخ التالية:

١. ١٩٥٤م : _____
٢. ١٩٧٠م : _____
٣. ٢٠٠٧م : _____
٤. ٢٠٠٩م : _____
٥. ٢٠١١م : _____

السؤال السادس / قارن بين:

١. التراث المادي والتراث المعنوي من حيث التعريف والأمثلة.

- _____
- _____

٢. المخاطر الطبيعية والمخاطر البشرية للتراث.

- _____
- _____

٣. المنظمات الأجنبية والعربية الداعمة للتراث.

.....
.....

٤. منظمة اليونسكو ومنظمة الإيسيسكو من حيث التعريف وموقفها من التراث.

.....
.....
.....

السؤال السابع / اقترح حلاً لحماية التراث الثقافي ؟

.....

السؤال الثامن / بم تفسر :

١. محاولة الاحتلال الصهيوني طمس التراث الثقافي في مدينة القدس.

السبب/.....

٢. يتأثر التراث الثقافي بحاجات الإنسان وفكره.

السبب/.....

٣. المناخ من العوامل الطبيعية التي تؤثر على التراث الثقافي العالمي.

السبب/.....

٤. أهمية التراث في المجتمع.

السبب/.....

٥. أهمية وجود المنظمات العربية والدولية الداعمة للتراث الثقافي.

السبب/.....

٦. عقد اتفاقية لاهاي عام ١٩٥٤م

السبب/.....

٧. تسمية الاحتلال الصهيوني لكثير من المواقع الأثرية بأسماء عبرية.

السبب/.....

٨. ممارسة التقيب عن الآثار بطرق غير مشروعة في بعض دول العالم.

السبب/ _____.

٩. اهتمام منظمة اليونسكو بالتراث الفلسطيني وخاصة القدس.

السبب/ _____.

١٠. اهتمام المنظمات الدولية بتوثيق التراث في السجلات المحلية والعالمية.

السبب/ _____.

السؤال التاسع / ما النتائج المترتبة على :

١. وجود الأماكن الدينية المقدسة في مدينة القدس.

النتيجة/ _____.

٢. تعرض سد مأرب للزلازل في اليمن خلال العصور القديمة.

النتيجة/ _____.

٣. تعرض مظاهر وآثار التراث الإنساني للقصف والتدمير.

النتيجة/ _____.

٤. إهمال الدولة للتراث الثقافي.

النتيجة/ _____.

السؤال العاشر / ماذا يحدث إذا:

١. طبق الاحتلال الصهيوني بنود اتفاقية لاهاي

الحدث/ _____.

٢. استمرار الحفريات الصهيونية في مدينة القدس.

الحدث/ _____.

٣. إدراج موضوعات التراث في المناهج المدرسية.

الحدث/ _____.

الوحدة السادسة

نماذج من المواطن الكونية

الدرس الأول

الفقر

السؤال الأول/ اكتب ما تشير إليه العبارات التالية :

- ١ . (الحاجات الأساسية للإنسان) عبارة عن السلع الغذائية وغير الغذائية اللازمة للإنسان بحيث يبقى حياً ويحفظ كرامته وتحقق قدراته على مزاوله نشاطاته الاعتيادية بصورة مقبولة.
- ٢ . (خط الفقر) يحسب على أساس السلعة الأساسية بالإضافة إلى التعليم والنقل والاتصالات والصحة ومستلزمات المنزل.
- ٣ . (الفقر المدقع) عدم قدرة الإنسان الحصول على الحد الأدنى من الحاجات الغذائية الأساسية اللازمة للحصول على الأدنى من السعرات الحرارية لبقائه حياً وليزول نشاطاته.
- ٤ . (الفقر) عدم قدرة الإنسان على بلوغ الحد الأدنى من الاحتياجات الأساسية كالملبس والمأكل والمأوى والتعليم والصحة والحرية والكرامة الإنسانية.
- ٥ . (التنمية المستدامة) خطط مستقبلية تضعها دولة أو مجموعة دول لتحسين مجال من مجالات الحياة الاقتصادية أو الاجتماعية أو السياسية بمعايير محددة ومقبولة.
- ٦ . (التجزئة الإقليمية) مجموعة من الخصائص الجغرافية والمناخية والاقتصادية التي تشترك فيها مجموعة من الدول.
- ٧ . (جدار الضم والتوسع العنصري) جدار طويل بنته اليهود عام ٢٠٠٢ م لفصل الضفة الغربية عن الأراضي المحتلة
- ٨ . (مصادرة الأراضي) عملية الاستيلاء والسيطرة على الأراضي بعد إخلاء السكان منها.

السؤال الثاني: أكمل الفراغات التالية:

- ١ . الفقر ظاهرة قديمة و حديثة توجد في جميع أنحاء العالم.
- ٢ . تختلف نسبة الفقر ومقاييسه من دولة لأخرى على أساس مستوى دخل الفرد و استهلاكه من السلع و مستوى معيشته
- ٣ . تتمثل مؤشرات الفقر في تدني دخل الفرد و تدني المستوى الصحي و معدل الوفيات عند المواليد و ارتفاع نسبة الخصوبة عند المرأة و ضعف الإلمام بالقراءة والكتابة .
- ٤ . تختلف أسباب الفقر باختلاف الزمان و المكان و الظروف المحيطة التي يمر بها المجتمع .
- ٥ . تبلغ نسبة الفقر في الإمارات العربية المتحدة ٣% بينما في اليمن بنسبة ٥٠% .

٦. يبلغ معدل تحت خط الفقر في العالم العربي ٣٤% - ٣٨% .

٧. يعيش أكثر من ثلث سكان العرب تحت خط الفقر .

٨. تتمثل عوامل انتشار الفقر في الوطن العربي إلى الدخل المتدني غير المنتظم و البطالة والأسر كبيرة العدد محدودة الدخل و انخفاض الإشراف الحكومي على الصحة والتعليم و التجزئة الإقليمية للوطن العربي و غياب التكافل الاقتصادي بين الدول و التبعية الاقتصادية و الفساد .

٩. تمثلت الإجراءات اليهودية التعسفية في انتشار الفقر بفلسطين في إعلان المناطق و مصادرة الأراضي و هدم البنية التحتية والتحكم في المعاملات التجارية الفلسطينية و إلحاق أضرار جسيمة بالقطاعات الإنتاجية.

١٠. ظهر الفقر كمشكلة عالمية معقدة متعددة الأبعاد خلال القرن العشرين .

١١. تعتبر مكافحة الفقر مسئولية دولية .

١٢. يمثل عدد الفقراء حوالي خمس سكان العالم.

١٣. خصصت الأمم المتحدة يوم ١٧ تشرين الثاني/ أكتوبر من كل عام يوماً دولياً للقضاء على الفقر .

١٤. تمثلت أهداف التنمية المستدامة في القضاء على الفقر و القضاء على الجوع و الصحة الجيدة و التعليم الجيد و المساواة بين الجنسين.

١٥. تمثل الأهداف التي حددها مؤتمر التنمية المستدامة في تقليص نسبة الفقراء و تحقيق المساواة بين الجنسين في التعليم وتقليل عدد الوفيات و وقف تفشي الأمراض الخطرة .

١٦. الجهود الوطنية والعالمية التي تكافح في مواجهة الفقر من خلال تنمية الموارد البشرية و تعزيز الديمقراطية و تعزيز النمو الاقتصادي في البلدان النامية .

١٧. تسهّم المؤسسات دوراً هاماً في فلسطين بمكافحة الفقر .

١٨. تمثل المؤسسات الفلسطينية المواجهة لظاهرة الفقر في المؤسسات الحكومية والأهلية والدولية.

١٩. يلعب برنامج الأمم المتحدة الذاتي دوراً كبيراً في مكافحة الفقر، من خلال إيجاد فرص عمل ضمن مشاريع قدرة الدخل و مشاريع البنية التحتية

٢٠. يتحكم الاحتلال الصهيوني في المعاملات التجارية الفلسطينية من خلال سيطرتها على الموانئ البحرية والجوية والمعابر والسياسات التجارية الفلسطينية.

٢١. ترتفع نسبة الفقر المدقع في المحافظات الجنوبية بقطاع غزة والمحافظات الشمالية بالضفة الغربية .

٢٢. يعاني ٢٩.٢١% سكان فلسطين من الفقر عام ٢٠١٧ م .

٢٣. يعاني سكان قطاع غزة من الفقر بنسبة ٥٣% بمعدل يفوق الضفة الغربية بـ ٣.٨م/ث .
٢٤. يساهم فقراء قطاع غزة في معدل الفقر الوطني لفلسطين بنسبة ٧١.٢% أكبر من مساهمة الفقراء في الضفة الغربية بنسبة ٢٨.٨% .
٢٥. بدأ نفاذ أهداف التنمية المستدامة لعام ٢٠١٣ بتاريخ ١/ كانون الثاني عام ٢٠١٦ م .
٢٦. يتمثل الهدف الأول من أهداف التنمية المستدامة في القضاء على الفقر .

السؤال الثاني: ضع علامة (□) أمام العبارة الصحيحة وعلامة (×) أمام العبارة الخاطئة :

١. (/) تعاني دولة الصومال والسودان واليمن من ظاهرة الفقر .
٢. (×) يفوق معدل الفقر في الضفة الغربية بحوالي أربعة أضعاف عن قطاع غزة . العكس
٣. (×) بلغ معدل خط الفقر الوطني في فلسطين ٢٠% . %٢٩.٢
٤. (×) يشكل نصف سكان فلسطين تحت خط الفقر الوطني للعام ٢٠١٧ . ثلث
٥. (/) نسبة الفقر في اليمن أكثر من الإمارات .
٦. (×) يعيش أكثر من نصف سكان العرب تحت خط الفقر . ثلث
٧. (/) يختلف الفقر باختلاف الزمان والمكان وظروف المجتمع .
٨. (×) الأعمال الموسمية واليومية تقلل من ظاهرة الفقر . تزيد
٩. (/) يلعب الفساد دوراً مؤثراً في ارتفاع نسبة المنحدرين تحت خط الفقر .
١٠. (/) تفاقمت ظاهرة الفقر في فلسطين منذ منتصف القرن الماضي حتى الآن .
١١. (×) تأثيرات الفقر السلبية تقتصر على المجتمعات التي تعاني منها . لا تقتصر بل بقية المجتمعات بالعالم
١٢. (×) يعتبر الفقر مسئولية فردية . مسئولية جماعية
١٣. (×) خصصت الأمم المتحدة يوم ٧ تشرين الأول من كل عام يوماً دولياً للقضاء على الفقر . ١٧
١٤. (×) بدأ رسمياً نفاذ أهداف التنمية المستدامة في الأول من كانون الثاني عام ٢٠٣٠م .
١٥. (/) توفير فرص الأعمال وزيادة الدخل يقلل من ظاهرة الفقر .
١٦. (/) تسهم المؤسسات بأشكالها المختلفة في فلسطين دوراً في مكافحة الفقر .

١٧. (/) تقدم وكالة الغوث الدولية مساعدات للأفراد والأسر الفقيرة من اللاجئين الفلسطينيين.
١٨. (/) يقدم برنامج الأمم المتحدة الإنمائي مشاريع البنية التحتية والمدرة للدخل.
١٩. (/) تسعى أهداف التنمية المستدامة إلى زيادة نسبة وفيات الأمهات عند الولادة ووفيات الأطفال دون سن الخامسة.
٢٠. (x) إغراق السوق بالمنتجات الصهيونية يقلل من الأضرار الجسيمة بالقطاعات الإنتاجية الفلسطينية

السؤال الرابع: اختر الإجابة الصحيحة مما بين القوسين:

١. جميع ما يلي من مؤشرات الفقر ما عدا (ارتفاع خصوبة المرأة - تدمي دخل الفرد - التقدم الصحي)
٢. يطلق على عدم قدرة الفرد على بلوغ الحد الأدنى من الاحتياجات الأساسية للإنسان (الفقر - خط الفقر - الفقر المدقع)
٣. يتمحور الفقر المدقع حول المبلغ (٢٤٧٠ شيكلاً - ١٩٧٤ شيكلاً - ٤٩٧٠ شيكلاً)
٤. يندرج خط الفقر حول مبلغ (٢٤٧٠ شيكلاً - ١٩٧٤ شيكلاً - ٤٩٧٠ شيكلاً)
٥. يعتبر مكافحة الفقر مسئولية (فردية - دولية - ليس مما سبق)
٦. بلغ الفقر من حيث سكان العالم (نصف - ثلث - خمس)
٧. اليوم العالمي الذي أعلنته الأمم المتحدة للقضاء على الفقر (١٧/١٠ - ١٠/٧ - ٤/١٧)
٨. يشكل الفقر الوطني في فلسطين بنسبة (٧١.١% - ٥٣% - ٢٩.٢%)
٩. بلغ نسبة الفقر في قطاع غزة (٧١.١% - ٢٨.٨% - ٥٣%)
١٠. بلغ نسبة مساهمة فقراء قطاع غزة في معدل الفقر الوطني (٧١.١% - ٢٨.٨% - ٢٩.٢%)
١١. بلغ نسبة مساهمة فقراء الضفة الغربية في معدل الفقر الوطني (٧١.١% - ٢٨.٨% - ٢٩.٢%)
١٢. تمثلت أهداف التنمية المستدامة للعام ٢٠٣٠ م في (المساواة بين الجنسين - التعليم الجيد - كلاهما)
١٣. من المؤسسات الحكومية المكافحة للفقر في فلسطين (وزارة الشؤون الاجتماعية - لجان الزكاة - وكالة الغوث الدولية)
١٤. تعتبر أكثر المناطق التي ترتفع فيها نسبة الفقر في فلسطين (القدس - رام الله - غزة)
١٥. من الدول العربية التي تعاني من الفقر (الإمارات - اليمن - قطر)

السؤال الخامس/ صحي ما تحته خط في العبارات التالية:

١. ارتفاع دخل الفرد يدل على فقر الأفراد في المجتمع (تدني)
٢. انخفاض نسبة الخصوبة عند المرأة يزيد من ظاهرة الفقر (يرتفع)
٣. الإمام بالقراءة والكتابة يزيد من ظاهرة الفقر (يقل)
٤. تمثلت خطة التنمية المستدامة في سبعة أهداف للقضاء على الفقر (١٧)
٥. هدف مؤتمر التنمية المستدامة إلى تقليص نسبة الفقراء الذين يعيشون أقل من دولارين في اليوم (دولار واحد)
٦. تسعى أهداف التنمية المستدامة إلى وقف تفشي الأمراض الخطيرة كالإيدز والبلهارسيا (الملايا)
٧. تصنف وكالة الغوث الدولية ضمن المؤسسات الحكومية في فلسطين (الدولية)
٨. يتحكم الاحتلال الصهيوني بالمعاملات التجارية من خلال السياسات التجارية وهدم البنية التحتية (السيطرة على الموانئ والمعابر)
٩. يبلغ معدل العالم العربي لمن يعيشون تحت خط الفقر ٥٠% (٣٤-٣٨%)
١٠. يشكل نصف سكان فلسطين يعيشون دون خط الفقر الوطني (ثلث)

السؤال السادس/ صنف المؤسسات الفلسطينية حسب أنواعها في الجدول التالي :

لجان الزكاة - وزارة الشؤون الاجتماعية - الأونروا - الأحزاب السياسية - برنامج الأمم المتحدة الإنمائي

المؤسسات الحكومية	المؤسسات الأهلية	المؤسسات الدولية
وزارة الشؤون الاجتماعية	لجان الزكاة الأحزاب السياسية	الأونروا برنامج الأمم المتحدة الإنمائي

السؤال السابع/ بم تفسر :

١ . اختلاف نسبة الفقر ومقاييسه من دولة لأخرى .

السبب/ لاختلاف مستوى دخل الفرد واستهلاكه من السلع ومستوى معيشته

٢ . ترتفع نسبة الفقر في المحافظات الجنوبية عنها في المحافظات الشمالية بفلسطين .

السبب/ بسبب الإجراءات الصهيونية التعسفية من قصف وتدمير وحصار

٣ . ارتفاع نسبة الفقر واتساعها في بعض الدول العربية .

السبب/ نسب الدخل المتدني وتفشي البطالة والأسر كبيرة العدد والتجزئة السياسية الإقليمية والتبعية الاقتصادية والفساد

٤ . تختلف معدلات الفقر من دولة لأخرى .

السبب/ لاختلاف الزمان والمكان وظروف المجتمع

٥ . لعب برنامج الأمم المتحدة دوراً كبيراً في مكافحة الفقر .

السبب/ لإيجاد فرص عمل ضمن مشاريع مدرة للدخل ومشاريع البنية التحتية

٦ . تفاقم ظاهرة الفقر في فلسطين .

السبب/ بسبب النكبات السياسية المتلاحقة للشعب الفلسطيني والإجراءات الصهيونية التعسفية

السؤال الثامن/ هاتي دليلاً على:

أ. اختلاف معدلات الفقر من دولة لأخرى .

الدليل/ ترتفع نسبة الفقر في اليمن ٥٠% أكثر من الإمارات ٣%

ب. انتشار ظاهرة الفقر في العالم .

الدليل/ يصنف خمس سكان العالم أنهم فقراء

ج. انتشار ظاهرة الفقر في العالم العربي .

الدليل/ بلغ معدل الفقر في العالم العربي ما بين ٣٤-٣٨%

د. تختلف المناطق الفلسطينية من حيث معدلات الفقر

الدليل/ ترتفع معدلات الفقر في قطاع غزة (٧١.٢%) من الضفة الغربية (٢٨.٨%)

الدرس الثاني

التمييز العنصري

السؤال الأول/ اكتب ما تشير إليه العبارات التالية:

١. (التمييز العنصري) تفضيل وتصنيف يقوم على أساس العرق أو اللون أو النسب أو الأصل القومي .
٢. (الهجرات القسرية) حركة انتقال الأفراد من منطقة لأخرى إجباراً عنهم بسبب العوامل السياسية والحروب.
٣. (التدابير السلمية) مجموعة الإجراءات السياسية والاقتصادية والثقافية التي تتخذها الدول أو المؤسسات الجماعات العرقية والأقليات وضمنان تمتعها بحقوق الإنسان والحريات الأساسية .

السؤال الثاني: أكمل الفراغات التالية :

١. أكدت الجمعية العامة للأمم المتحدة بالمادة (١) عام ١٩٦٩م على القضاء على أشكال التمييز العنصري
٢. تمثلت بنود اتفاقية الأمم المتحدة للقضاء على التمييز العنصري عدم ممارسة التمييز العنصري وعدم تشجيع أي تمييز عنصري و تعديل السياسات والأنظمة القائمة على التمييز و حظر أي تمييز عنصري و تشجيع المنظمات الإنسانية لإزالة الفوارق.
٣. التمييز العنصري يكون حسب اللون والدين واللغة والجنس والعرق .
٤. هاجر الفلسطينيون عام ١٩٤٨م سبب الممارسات العنصرية للاحتلال الصهيوني .
٥. من الحقوق التي انتهكها الاحتلال الصهيوني بحق الشعب الفلسطيني حق التملك والعمل والتعليم وحرية التنقل .
٦. تنافي سياسة الاحتلال الصهيوني العنصرية الوثائق والتشريعات الدولية لحقوق الإنسان .
٧. انضمت فلسطين إلى اتفاقية القضاء على جميع أشكال التمييز العنصري في شهر نيسان عام ٢٠١٤م .
٨. احتلت العصابات الصهيونية المسلحة حوالي ٧٧% من مساحة فلسطين ودمرت حوالي ٥٣١ قرية فلسطينية
٩. هاجر الفلسطينيون عام ١٩٤٨م إلى سوريا ولبنان والأردن وغيرها من أماكن الشتات .
١٠. احتلت إسرائيل جميع الأراضي الفلسطينية عام ١٩٦٧م .
١١. تقسم سكان فلسطين على أساس ديني إلى الطوائف غير اليهودية (المسلمون والمسيحيون) وطوائف اليهود والصهاينة .
١٢. تجسدت التشريعات الفلسطينية في وثيقة الاستقلال الفلسطينية .

١٣. من الأمثلة على الأقليات العرقية في فلسطين السامريين والأرمن والسريان .

١٤. تقيم الطائفة السامرية على جبل جزريم بمدينة نابلس .

١٥. من أهم التدابير الاستثنائية نحو الطائفة السامرية تولي الوظائف وبناء المدارس وتزويدها بالكادر التربوي .

١٦. تتمثل الفئات التي تتعرض للتمييز في الأطفال والنساء والأشخاص ذوي الإعاقة والأقليات العرقية أو الطائفية والمناطق البدوية والمهمشة .

السؤال الثالث/ ضع علامة (/) أمام العبارة الصحيحة وعلامة (x) أمام العبارة الخاطئة :

١. (/) يحق للمرأة المطالبة في الميراث .

٢. (/) حظر مشاركة نشطاء عرب على المنتديات الأجنبية يعتبر تمييز عنصري .

٣. (x) عمل الانتداب البريطاني على تمكين الشعب الفلسطيني من حقه في تقرير المصير والاستقلال . لم

٤. (x) عارضت بريطانيا على هجرات الصهاينة إلى فلسطين . تعاونت

٥. (x) تقسيم سكان فلسطين على أساس عرقي إلى طوائف يهودية وغير يهودية . ديني

٦. (x) لا يحق للمعاق الدراسة في مدارس الأصحاء . يحق

٧. (/) يجب أن تحصل المرأة على حقها في التعليم مساواة بالرجل

٨. (x) أثبت الانتداب البريطاني وجود الشعب الفلسطيني . أنكر

٩. (x) ظهور الطائفة السنية والإسلامية دليلاً على تنفيذ وعد بلفور . اليهودية

١٠. (/) احتلت العصابات الصهيونية المسلحة ٧٧% من مساحة فلسطين .

١١. (/) تؤكد التشريعات الفلسطينية على حق الكرامة والمساواة والعدالة .

١٢. (/) طالبت الإجراءات اليهودية العنصرية جميع مناحي الحياة في فلسطين .

١٣. (x) أهملت فلسطين بحقوق الأقليات العرقية . اهتمت

١٤. (/) العنصرية تزيد من الكراهية والتعقب في المجتمع .

١٥. (/) يعتبر وعد بلفور أول وثيقة عنصرية في تاريخ فلسطين الحديث .

السؤال الرابع/ صحي ما تحته خط في العبارات التالية:

١. اهتمت فلسطين باتفاقية القضاء على جميع أشكال التمييز العنصري في نيسان عام ٢٠١٦م . (٢٠١٤)
٢. أكدت فلسطين في توصيتها على اتفاقية القضاء على التمييز العنصري المعارضة للمبادئ . (الاحترام)
٣. يتمتع الفرد بحقوق العمل والتعليم في ظل التمييز العنصري. (يمنع)
٤. يحصل الفرد على الحقوق الأساسية في ظل التمييز العنصري. (يحرم)
٥. تنتشر روح التسامح في المجتمعات العنصرية . (التعصب والكرهية)
٦. تظهر الحروب في المجتمعات العادلة . (العنصرية)
٧. أكدت التشريعات الفلسطينية حول حقوق الإنسان في وعد بلفور . (وثيقة الاستقلال)
٨. احتل اليهود قطاع غزة والضفة الغربية عام ١٩٤٨م. (١٩٦٧)
٩. دمر اليهود حوالي ٣٧٠ قرية في فلسطين خلال مرحلة النكبة. (٥٣١)
١٠. تتعرض فئة المرأة وذوي الإعاقة والحكام للتمييز العنصري في المجتمعات . (الأقليات)
١١. التمييز العنصري ينتهك حقوق الفرد في التعبير عن الرأي والمشاركة في الحياة الخاصة (العامة)
١٢. سمح للطائفة السريانية في الالتحاق بمدرة جزريم الأساسية المختلطة (السامية)

السؤال الخامس/ اختر الإجابة الصحيحة مما بين القوسين:

١. أكدت الأمم المتحدة على محاربة التمييز العنصري باتفاقية عام (١٩٦٩م - ٢٠٠٤م - ٢٠١٤م)
٢. تمثل أشكال التمييز العنصري في التمييز (العرق - اللون - كلاهما معا)
٣. وقعت فلسطين على اتفاقية القضاء على التمييز العنصري عام (٢٠١٤م - ٢٠١٦م - ١٩٦٩م)
٤. احتل الصهاينة من مساحة فلسطين عام ١٩٤٨م (٥٦% - ٧٧% - ٩٠%)
٥. احتل اليهود جميع الأراضي الفلسطينية خلال حرب (١٩٤٨م - ١٩٦٧م - ١٩٩٤م)
٦. تمثلت مجالات التمييز العنصري اليهودي في فلسطين (التهجير القسري - الحواجز العسكرية - كلاهما معا)
٧. تتعرض الطائفة السامرية للتمييز العنصري من النوع (العرقى - اللغوي - الديني)

(١٩١٧م - ١٩٢٠م - ١٩٤٨م)

٨. أصدر وعد بلفور عام

(العمل - التعليم - كلاهما معا)

٩. التمييز العنصري ينتهك حق

(المسيحية - الإسلامية - كلاهما معا)

١٠. تمثل الطوائف غير اليهودية في فلسطين

السؤال السادس/ بم تفسر :

أ. اتخاذ المؤسسات الدولية الاتفاقيات والإجراءات السياسية والاقتصادية والثقافية في الدولة .

السبب/ لحماية الجماعات العرقية في الدولة وضمان تمسكها بحقوق الإنسان وحرية الآخرين

ب. تعرض فلسطين للهجرات القسرية عام ١٩٤٨م.

السبب/ بسبب حرب النكبة والمجازر التي قام بها العصابات اليهودية

ج. إتباع بريطانيا سياسات استعمارية عنصرية باتجاه فلسطين.

السبب/ تهويد فلسطين وتهجير الفلسطينيين

السؤال السابع/ ما النتائج المترتبة على :

أ. تبني الانتداب البريطاني سياسة استعمارية عنصرية بحق الشعب الفلسطيني .

النتيجة/ أدت إلى إنكار وجود الشعب الفلسطيني

ب. إتباع سياسة التمييز العنصري في المجتمع .

النتيجة/ أدى إلى انتشار الحقد والكراهية والتعقب والحرمان من الحقوق الأساسية

ج. تنفيذ بريطانيا لوعده بلفور عام ١٩١٧م .

النتيجة/ ظهور طائفة يهودية في المجتمع الفلسطيني وإنكار حق فلسطين في تقرير مصيرها

السؤال الثامن/ هاتي دليلاً على:

أ. اتخاذ فلسطين تدابير استثنائية حول حماية الأقليات .

الدليل/ حماية حقوق الطائفة السامرية بين القاطنين على جبل جزيريم بنابلس بالوظائف والتعليم

السؤال التاسع/ ما رأيك في الحالات التالية مع ذكر السبب:

١. أب يجبر ابنته على الزواج المبكر .

الرأي/ _____

٢. أب حرم ابنه من التعليم .

الرأي/ _____

٣. أخ حرم أخته من حقها في الميراث .

الرأي/ _____

٤. توظيف بعض المؤسسات الخاصة موظفيها عن طريق الواسطة.

الرأي/ _____

٥. طالبة ترفض الجلوس بجانب طالبة ذات البشرة السوداء .

الرأي/ _____

٦. شركة تأمين وطنية ترفض توظيف شخص تجاوز عمره ٦٠ عاماً .

الرأي/ _____

٧. تعديل قانون التقاعد ليصبح سن التقاعد عن العمل للمرأة ٥٠ عاماً وهو أقل من سن التقاعد للرجل.

الرأي/ _____

٨. بعض الجامعات تمنح الطالبات إعفاء من الأقسام الجامعية .

الرأي/ _____

٩. إقرار كوتا نسائية (٢٠%) في انتخابات المجلس التشريعي عام ٢٠٠٦ م .

الرأي/ _____

١٠. يرفض سائق تكسي عمومي نقل شخص ذوي البشرة السوداء في سيارته .

الرأي/
