

بطاقات التعلم الذاتي - الفصل الدراسي الثاني

بطاقة: ١	المادة: الرياضيات	الوحدة: السادسة	الدرس: الأول
الصف: الثاني	الموضوع: جمع عددين دون حمل ضمن (٩٩٩)		



أعزائي الطلبة، يتوقع منكم بعد التفاعل مع أنشطة الدرس أن تكونوا قادرين على:

- جمع عددين دون حمل ضمن (٩٩).

أعزائي الطلبة، هيا نقرأ الأعداد الآتية معاً:

(٨ * ٢٠ * ٧٥ * ستون * أربعة عشر)

* أعزائي الطلبة، تعلمنا سابقاً جمع الأعداد ضمن العدد (٩٩) هيا نتذكر معاً.

مثال (١): في مكتبة العم خالد ألعاب للأطفال:

٢٠ دراجة	١٢ سيارة	٩ دُمي	٨ كرات
----------	----------	--------	--------



- ١- عدد الدمي أكبر من عدد:
- ٢- عدد السيارات وعدد الدراجات = +
- ٣- عدد الكرات والدمي = +

أعزائي الطلبة، نفتح الكتاب صفحة (٤)، نقرأ نشاط (١) بمساعدة أحد الوالدين، ثم نجيب عما يأتي:

- ١- ماذا يوجد في مزرعة العم سامر؟
- ٢- كم عدد أشجار الرمان؟
- ٣- كم عدد أشجار التفاح؟

أعزائي الطلبة، هيا نجيب عن نشاط (١) من الكتاب المدرسي صفحة (٤)، بمساعدة أحد الوالدين:

أعزائي الطلبة، عند جمع عددين ضمن العدد (٩٩) نجمع الآحاد مع الآحاد والعشرات مع العشرات.



تذكير

٤	١		٣	٤
٣	٨	+	٢	٠
٧	٩		٥	٤

مثال (٢): هيا نجد ناتج الجمع:

والآن هيا يا احبائي، بمساعدة أحد الوالدين نفتح الكتاب صفحة (٤) ونحل نشاط (٢)

مثال (٣): نتعاون مع أحد أفراد الأسرة ونكتب عدد التفاحات في كل من الصناديق الآتية لتصبح العبارة صحيحة:

(أ) $11 \text{ تفاحة} =$  $+$ 

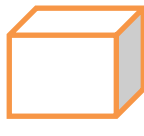

كم تفاحة عندنا؟ ٤ تفاحات.

كم تفاحة نحتاج لوضعها في الصندوق؛ ليصبح العدد الكلي ١١ تفاحة؟
هيا نكمل العد بعد ٤ باستخدام الأصابع، أحسنتم نحتاج ٧ تفاحات.
 $11 = 4 + 7$ تفاحة.

(ب) $12 \text{ تفاحة} =$  $+$ 

كم تفاحة عندنا؟ ٧ تفاحات،

كم تفاحة نحتاج لوضعها في الصندوق ليصبح العدد الكلي ١٢ تفاحة؟
هيا نكمل العد بعد ٧ باستخدام الأصابع، أحسنتم نحتاج ٥ تفاحات.
 $12 = 7 + 5$ تفاحة.

(ج) $15 \text{ تفاحة} =$  $+$ 
 $15 = 7 + 8$ تفاحة.



أعزائي الطلبة، هيا نحلّ نشاط (٣) صفحة (٥) من الكتاب المدرسي.

نشاط ختامي:

(أ) نجمع رأسياً:

٣	٤	٢	٨	٧	٩	٢	٤
٦	٢	٥	١	٢	٠	٣	٢
+		+		+		+	
_____		_____		_____		_____	
<input type="text"/>	<input type="text"/>	<input type="text"/>	<input type="text"/>	<input type="text"/>	<input type="text"/>	<input type="text"/>	<input type="text"/>

(ب) نجمع أفقياً:

<input type="text"/>	=	٣٢	+	٤٧
<input type="text"/>	=	١٦	+	٧٢
<input type="text"/>	=	٤٠	+	٥٥

أنتم حقاً موهوبين