



الصف : الثالث الأساسي

المبحث: الرياضيات

التاريخ: 5/ 2017

الاسم :

دولة فلسطين

وزارة التربية والتعليم العالي

مديرية التربية والتعليم ()

ورقة عمل / تذكير وتقويم

نهاية الفصل الثاني

القسم الأول : عزيزي الطالب ضع حول ما تراه إجابة مناسبة وصحيحة لكل سؤال :

1- العدد 5874 لأقرب ألف هو :	5000	6000	5500
2- الرقم 3 في العدد 19345 موجود في منزلة :	الألوف	العشرات	المئات
3- أصغر عدد من بين الأعداد التالية هو :	7890	7889	7891
4- العدد 1200 يكتب بالكلمات ..	ألف ومئتان	ألف وإثنان	مئة وعشرون
5- أكبر عدد من بين الأعداد التالية هو :	2300	2030	2003
6- العدد 4 في جملة الضرب $(8 = 4 \times 2)$ يُمثل :	المضروب	المضروب فيه	نتاج الضرب
7- عملية الجمع المتكرر هذه $(6 + 6 + 6 + 6)$ نعبر عنها بعملية الضرب ..	6×4	4×6	6×6
8- عندما نقول " وزع خالد 9 شواقل على إخوته الثلاثة " فإن المقسوم عليه هو:	6	9	3
9- عندما نقول " أكل حسن تفاحة من صحن فيه أربع تفاحات " فإن الكسر الذي يمثلها هو :	رُبعان	ثلاثة أرباع	رُبع
10- ربع الساعة =	30 دقيقة	15 دقيقة	20 دقيقة

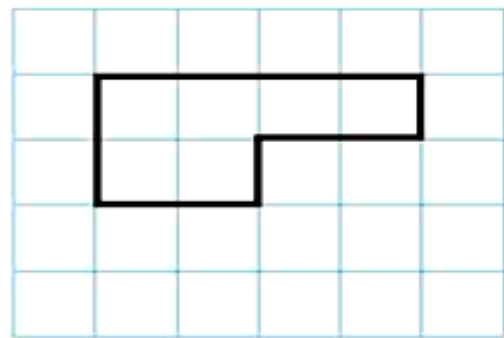
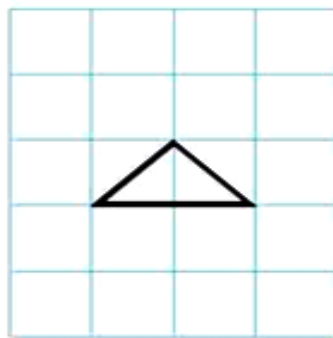
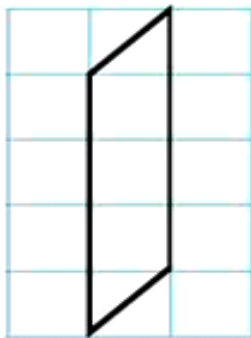
القسم الثاني : اوجد الحلول لهذه المسائل :

$\text{○} = 6 \times 3$ $\text{○} = 5 \times 900$	$\begin{array}{cccccc} 2 & \text{○} & 3 & \triangle & 4 & \\ 3 & 1 & 9 & 7 & \square & + \\ \hline \square & 4 & \triangle & 0 & 9 & \end{array}$	$\begin{array}{r} 54567 \\ 34132 - \\ \hline \text{○} \end{array}$
$= 1. \div 4. \text{ (ب)}$ $= 1. \div 5. \text{ (د)}$ $= 1. \div 9. \text{ (و)}$	$= 1. \times 4 \text{ (ا)}$ $= 1. \times 5 \text{ (ج)}$ $= 1. \times 9 \text{ (ه)}$	<p>اضع إشارة < أو > أو =</p> $4 \div 36 \text{ (○)} \quad 9 \div 81$ $6 \div 36 \text{ (○)} \quad 4 \div 28$

القسم الثالث : نشاط 1 اكمل الجدول الآتي ..

الكسُر بالكلمات	الكسُر الدال على الأجزاء الملونة	عدد الأجزاء الملونة	عدد الأجزاء جميعها	الشكل
				
خمسة أضعاف				
				

نشاط 2 : احسب مساحة الاشكال الآتية بالوحدات المربعة :



مساحة الشكل

مساحة الشكل

مساحة الشكل

= _____ وحدة مربعة

= _____ وحدة مربعة

= _____ وحدة مربعة

معلم المادة :