

مدرسة الأماونية المشتركة (أ)
ورق عمل رياضيات للصف الثاني الاساسي رقم (٢)

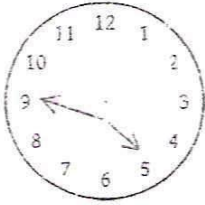


العلامة :

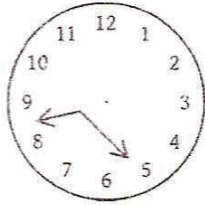
اختر الاجابة مما بين القوسين :

- ١ - تقاس الأطوال القصيرة بوحدة تسمى (المتر ، السنتمتر ، الكيلو متر)
٢ يقاس طول الشجر : (المسطرة ، السنتمتر ، المتر)
٣ - الساعة دقيقة (٣٠ ، ٢٠ ، ٦٠)
٤ - عدد أوجه المكعب يساوي وجوه (٨ ، ٦ ، ٤)
٥ - قاعدتي الاسطوانة على شكل (دائرة ، مربع ، مستطيل)
٦ - ٤ متر = سم (٤ سم ، ٤٠ سم ، ٤٠٠ سم)

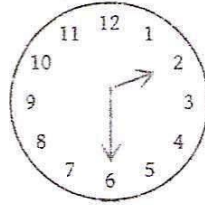
السؤال الثاني : أكتب الوقت الذي ندل عليه كل ساعة



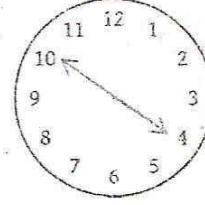
:



:

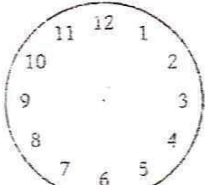


:

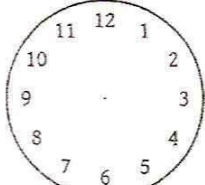


:

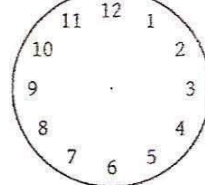
السؤال الثالث : رسم عقارب الساعة حسب المحدد



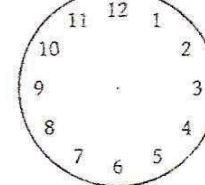
٢ : ٥٥



٨ : ٣٠



٧ : ١٠



٤ : ١٥

السؤال الرابع : حل المسألة اللفظية التالية .

بدأت المباراة الساعة الخامسة وانتهت السابعة والنصف .

كم من الوقت استغرقت المباراة ؟

الحل :

السؤال الاول :

يمثل أحمد اجابات اصدقائه عن الفاكهة المفضلة لديهم بجدول أفقي . أستعمل التمثيل للإجابة عن الاسئلة :

العنب	الموز	البرتقال	التفاح	الفاكهة المفضلة
٨	٥	٣	٦	عدد الطلاب



١ - كم تلميذا يفضل التفاح ؟

٢ - ما الفاكهة التي يفضلها ٥ تلاميذ ؟

٣ - ما الفاكهة التي يفضلها أكبر عدد من التلاميذ ؟

السؤال الثاني : مثل أحمد الأشجار المزروعة في حقله بالجدول التالي :

العدد	الرسومات	الشجرة
	★ ★	تفاح
	★ ★ ★ ★	برتقال
	★ ★ ★ ★	زيتون
	★ ★ ★ ★ ★ ★	ليمون

١ - عدد أشجار البرتقال والليمون

٢ - أقل نوع من الأشجار المزروعة

٣ - يتساوى في العدد أشجار و