

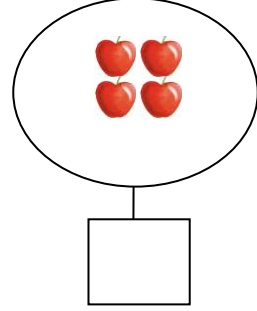
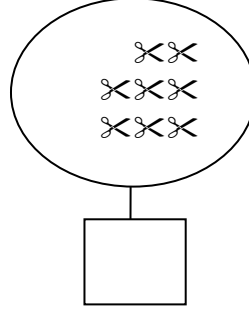
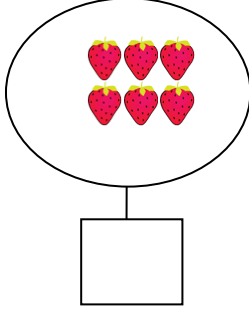
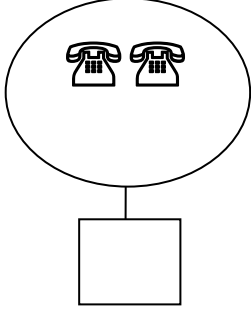
امتحان في مادة الرياضيات - للصف الأول الأساسي

شهر سبتمبر (الفصل الأول)

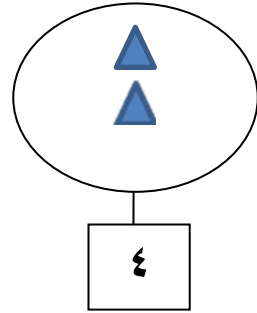
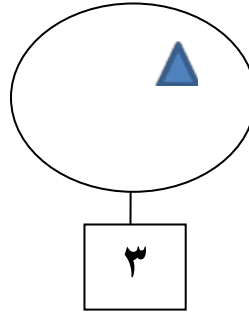
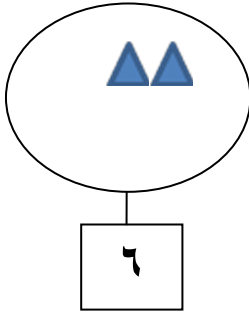
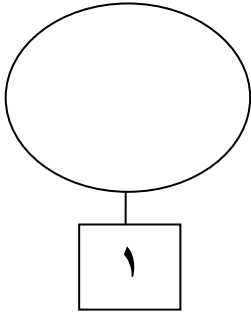
الدروس / الوحدة الأولى (الأعداد ١ - ٩)

اسم الطالب/ة: / التقدير /

السؤال الأول: أكتب عدد عناصر كل مجموعة:



السؤال الثاني/ أكمل رسم العناصر بحسب العدد المطلوب:



السؤال الثالث: أحصر عناصر حسب العدد المطلوب:



٤

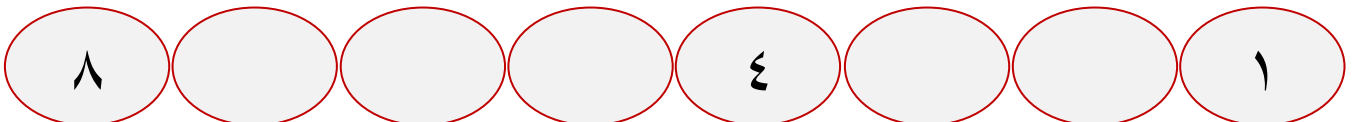


٣



٦

السؤال الرابع / أكمل متتالية الأعداد:



أطيب الأمنيات بالنجاح والتوفيق